

ПРАКТИКУМ ПО ЭКОНОМИЧЕСКОЙ ТЕОРИИ

Часть 1. Микроэкономика

Учебное пособие



Курганский
государственный
университет



РЕДАКЦИОННО-ИЗДАТЕЛЬСКИЙ
ЦЕНТР
43-38-36

МИНИСТЕРСТВО ОБРАЗОВАНИЯ И НАУКИ РОССИЙСКОЙ ФЕДЕРАЦИИ

КУРГАНСКИЙ ГОСУДАРСТВЕННЫЙ УНИВЕРСИТЕТ

**Л.Н. Коняхина, И.А. Чубаров, А.И. Казанцев, А.Е. Коваль,
В.С. Мормышев, Е.Н. Сурова**

ПРАКТИКУМ ПО ЭКОНОМИЧЕСКОЙ ТЕОРИИ

Часть 1. Микроэкономика

Учебное пособие

Курган 2010

УДК 330(075.8)
ББК 65я73
К65

Рецензенты

зав. кафедрой «Экономическая теория» КСХА им. Т.С. Мальцева
Т.В. Показаньева;
зам. начальника кафедры «Гуманитарные и социально-экономические науки» КПИ ФСБ России **А.П. Бухтияров.**

Печатается по решению методического совета Курганского государственного университета.

К65 Коняхина Л.Н., Чубаров И.А., Казанцев А.И. и др. Практикум по экономической теории: Учебное пособие. - Ч. 1: Микроэкономика. – Курган: Изд-во Курганского гос. ун-та, 2010. – 190 с.

В учебном пособии «Практикум по экономической теории. Часть I. Микроэкономика» представлены тестовые задачи, задачи на развитие экономического мышления, вопросы для самопроверки.

Практикум предназначен для студентов вузов экономических и неэкономических специальностей и направлений (бакалавриат) очной и заочной форм обучения; может быть использован при углубленном изучении экономики в колледжах, гимназиях, школах.

Библиограф. – 55 назв.

ISBN 978-5-4217-0057-9

© Курганский
государственный
университет, 2010.
© Авторы, 2010.

ОГЛАВЛЕНИЕ

Введение	4
Тема 1 Закономерности возникновения и этапы развития экономической теории.....	5
Тема 2 Предмет и методология экономической теории.....	23
Тема 3 Рыночная экономика. Кругооборот благ и доходов	39
Тема 4 Выбор в экономике модели производственных возможностей.....	50
Тема 5 Спрос и предложение в механизме рынка	62
Тема 6 Теория потребительского поведения.....	83
Тема 7 Производство и издержки	100
Тема 8 Предложение на рынке совершенной конкуренции	122
Тема 9 Рынки несовершенной конкуренции	129
Тема 10 Ценообразование на факторы производства.....	140
Тема 11 Фирма как рыночный агент	160
Тема 12 Государство в рыночной экономике.....	169
Список литературы	186

ВВЕДЕНИЕ

Вступление России в XXI век, переход от сырьевой экономики к инновационной потребовали качественно новых специалистов с высокой теоретической подготовкой, умениями и навыками по реализации поставленных задач. Учебное пособие «Практикум по экономической теории. Часть I: Микроэкономика» призвано помочь им в этом. Оно предназначено для студентов экономических и неэкономических специальностей. Его цель: помочь всем, кто стремится получать качественные знания, проверить степень усвоения изучаемого материала по данному курсу, самостоятельно или под руководством преподавателя приобрести практические навыки и умения выполнять разного рода задания.

В практикуме предложены тесты по микроэкономике, задачи, задания на определение верности утверждений и на формирование экономического мышления, выработку умения давать оценку чьего-либо высказывания, теоретического заключения; вопросы для контроля знаний, а также перечень понятий, категорий, которые должен знать студент по каждой теме учебного курса.

Перечень тем соответствует Государственному стандарту по курсу «Экономическая теория» высшего профессионального образования. Задания, содержащиеся в практикуме, могут быть использованы на разных стадиях учебного процесса, в контрольных заданиях, при подготовке к семинарским занятиям, зачетам и экзаменам.

Методика использования практикума зависит от уровня теоретической подготовки студентов, их умения и навыка работать самостоятельно, стремления получить прочные знания по «Экономической теории».

Особое значение практикум имеет для студентов заочной формы обучения при подготовке их к зачетам, экзаменам, для проверки качества усвоенного материала.

Тема 1

Закономерности возникновения и этапы развития экономической теории

Вариант А

I Тестовые задания

Задание 1 (○ – выберите один вариант ответа)

Какая из теорий денег разработана меркантилистами?

- а) трудовая;
- б) металлическая;
- в) номиналистическая;
- г) количественная.

Задание 2 (□ – выберите варианты ответов)

Кто из названных экономистов относится к экономической школе меркантилизма?

- а) Кенэ Ф.;
- б) Мен Т.;
- в) Сениор Н.;
- г) Стаффорд У.

Задание 3 (○ – выберите один вариант ответа)

Какие из определений стоимости, данные А. Смитом, соответствуют теории трудовой стоимости при капитализме?

- а) стоимость создается трудом и природой;
- б) меновая стоимость определяется заработной платой;
- в) стоимость определяется затратами труда;
- г) стоимость определяется издержками производства.

Задание 4 (○ – выберите один вариант ответа)

Кто является автором произведения «Книга о скудности и богатстве»?

- а) М.В. Ломоносов;
- б) И.Т. Посошков;
- в) М.Л. Ордин-Нащокин;
- г) В.Н. Татищев.

Задание 5 (☐ – выберите варианты ответов)

Кто из названных экономистов относится к классической школе политической экономии?

- а) Кларк Дж.Б.;
- б) Риккардо Д.;
- в) Смит А.;
- г) Мальтус Т.Р.

Задание 6 (○ – выберите один вариант ответа)

Произведение А. Маршалла «Принципы экономической науки» было издано...

- а) в 1876 г.;
- б) в 1890 г.;
- в) в 1913 г.;
- г) в 1922 г.

Задание 7 (○ – выберите один вариант ответа)

Упор на поддержание автоматизма рынка, ставка на свободу частного предпринимательства, требование резкого сокращения государственного патернализма в экономической и государственной сферах - все это характерно для...

- а) концепции монетаризма;
- б) теории институционализма;
- в) теории социальной рыночной экономики;
- г) теории кейнсианства.

Задание 8 (☐ – выберите варианты ответов)

Кто из названных экономистов относится к основателям теории предельной полезности?

- а) Веблен Т.;
- б) Визер Ф.;
- в) Милль Дж.Ст.;
- г) Менгер К.

Задание 9 (○ – выберите один вариант ответа)

Представители австрийской школы маржинализма определяют стоимость (ценность) блага на основе...

- а) трудовой теории;
- б) теории издержек;
- в) теории предельной полезности;
- г) выявления равновесной цены, определяемой предельной полезностью и предельными издержками.

Задание 10 (○ – выберите один вариант ответа)

В марксистской теории цикла в качестве основной причины циклических колебаний указывается...

- а) изменение пропорции «запас/поток»;
- б) основное противоречие капитализма – между общественным характером производства и частнокапиталистической формой присвоения;
- в) перенакопление, т.е. производство товаров производственного назначения в больших масштабах, чем производство потребительских товаров;
- г) недопотребление, т.е. незначительное расходование текущего дохода на потребление и значительное сбережение.

II Верны ли утверждения?

- 1 Первые основы трудовой теории стоимости заложил У. Петти.
- 2 Термин «политическая экономия» впервые использовал А. Монкретьен.
- 3 Теорию рынка сформулировал Дж.Ст. Милль.
- 4 Синтез идей английской классической школы и концепций маржиналистов осуществил Дж.М. Кейнс.
- 5 Большие циклы конъюнктуры были открыты Н.Д. Кондратьевым.

III Задания на развитие экономического мышления

1 Установите соответствие между ученым (школой) и термином, категорией, законом, образным выражением, концепцией, школой, книгой, к которым этот ученый (ученые) имеет непосредственное отношение как автор, соавтор, внесший наибольший вклад в разработку этой концепции:

- 1) Фридмен М.;
- 2) ранний меркантилизм;
- 3) Смит А.;
- 4) Кан Р.Ф.;
- 5) Кейнс Дж.;
- 6) Кларк Дж.Б.;

- 7) Монкретьен А.;
- 8) Эрхард Л.;
- 9) Кондратьев Н.Д.;
- 10) Чаянов А.В.

Варианты ответов:

- а) идея мультипликатора;
- б) концепция предельной производительности;
- в) «Политическая экономия»;
- г) социальное рыночное хозяйство;
- д) организационно-производственное направление русской экономической мысли;
- е) теория длинных волн;
- ж) инвестиционный мультипликатор;
- з) система денежного баланса;
- и) монетаризм;
- к) теория абсолютных издержек в мировой торговле.

2 Как бы вы прокомментировали высказывание А. Маршалла (1842-1924): «Мы могли бы с равным основанием спорить о том, регулируется ли стоимость полезностью или издержками производства, как и о том, разрезает ли кусок бумаги верхнее или нижнее лезвие ножниц»? (Маршалл А. Принципы политической экономии. Т. II. - М., 1983. – С. 31-32).

IV Вопросы для самоконтроля

- 1 Каковы заслуги античных мыслителей в становлении экономической теории?
- 2 Почему меркантилизм считается предысторией политической экономии?
- 3 Чем поздний меркантилизм отличается от раннего меркантилизма?
- 4 В чем состоит историческая ограниченность школы физиократов по сравнению с классической школой политической экономии?
- 5 Каковы основные идеи экономического учения А. Смита?
- 6 Каковы заслуги классической школы политической экономии?
- 7 Каковы основные идеи экономического учения марксизма?
- 8 В чем состоит содержание маржиналистской революции в экономической науке?
- 9 Каковы основные черты неоклассического направления экономической науки?
- 10 Каковы основные идеи учения Дж.М. Кейнса и его последователей?
- 11 Каковы экономические взгляды современного монетаризма?
- 12 В чем состоит вклад российских ученых в развитие мировой экономической мысли?

V Основные понятия

экономия
меркантилизм
денежный капитал
сфера обращения
протекционизм
физиократия
чистый продукт
воспроизводство общественного продукта
классическая экономическая школа
теория трудовой стоимости
товарное производство
рынок
рыночная цена
свободная конкуренция
производительность труда
производительный капитал
марксистская политическая экономия
конкретный и абстрактный труд
прибавочная стоимость
маржинализм
предельная полезность
предельная производительность
предельные издержки
неоклассическое направление
экономикс
институционализм
кейнсианство
неокейнсианство
монетаризм
новая классическая экономическая теория
теория экономики предложения
неоинституционализм

Вариант Б

I Тестовые задания

Задание 1 (○ – выберите один вариант ответа)

Что являлось объектом исследования меркантилистов?

- а) сфера обращения;
- б) закон стоимости;
- в) оборотный капитал;
- г) материальное производство.

Задание 2 (☐ – выберите варианты ответов)

Кто из названных экономистов относится к школе физиократов?

- а) Буагильбер П.;
- б) Тюрго А.;
- в) Монкретьен А.;
- г) Кенэ Ф.

Задание 3 (○ – выберите один вариант ответа)

Книга А. Смита «Исследование о природе и причинах богатства народов» была издана...

- а) в 1725 г.;
- б) в 1776 г.;
- в) в 1789 г.;
- г) в 1804 г.

Задание 4 (○ – выберите один вариант ответа)

Какому из направлений в экономической науке принадлежит следующее определение цены: «Цена – это денежное выражение стоимости товара»?

- а) неолиберальному;
- б) кейнсианскому;
- в) неокейнсианскому;
- г) марксистскому.

Задание 5 (☐ – выберите варианты ответов)

Кто из названных экономистов относится к австрийской школе маржинализма?

- а) Менгер К.;
- б) Мальтус Т.;
- в) Гильфердинг Ф.;
- г) Бем-Баверк Е.

Задание 6 (○ – выберите один вариант ответа)

Какова основная причина написания Дж.М. Кейнсом работы «Общая теория занятости, процента и денег»?

- а) необходимость вывода рыночной экономики из глубокого кризиса;
- б) рост монополий;
- в) увеличение количества денег в обращении;
- г) замедление темпов экономического роста.

Задание 7 (○ – выберите один вариант ответа)

Укажите школу, к которой относится экономист М. Фридмен.

- а) школа западногерманского неолиберализма;
- б) чикагская школа монетаризма;
- в) школа институционализма;
- г) кейнсианская школа.

Задание 8 (□ – выберите варианты ответов)

Укажите представителей следующих течений институционализма:

- 1) социально-правовое;
- 2) социально-психологическое;
- 3) конъюнктурно-статистическое;
- 4) неинституциональное.

- а) Веблен Т.;
- б) Коммонс Дж.;
- в) Гэлбрейт Дж.;
- г) Митчелл У.

Задание 9 (○ – выберите один вариант ответа)

Стоимость товара А. Маршаллом характеризуется на основе...

- а) трудовой теории стоимости;
- б) теории издержек;
- в) теории предельной полезности;
- г) выявления равновесной цены, определяемой предельной полезностью и предельными издержками.

Задание 10 (□ – выберите варианты ответов)

Большой вклад в развитие классической политэкономии внесли...

- а) Маршалл А.;
- б) Смит А.;
- в) Сэй Ж.Б.;
- г) Риккардо Д.

II Верны ли утверждения?

1 Автором теории трех факторов производства был Ж.Б. Сэй.

2 По предложенной Ф. Кенэ классификации фермеры представляют класс собственников земли.

3 Школа маржинализма базируется на исследовании общих и средних экономических величин.

4 «Всеобщий закон капиталистического накопления» сформулировал К. Маркс.

5 Создателем метода линейного программирования является Л.В. Канторович.

III Задания на развитие экономического мышления

1 Установите соответствие между ученым (школой) и термином, категорией, законом, образным выражением, концепцией, школой, книгой, к которым этот ученый (ученые) имеет непосредственное отношение как автор, соавтор, внесший наибольший вклад в разработку этой концепции:

- 1) Коуз Р.;
- 2) поздний меркантилизм;
- 3) Риккардо Д.;
- 4) Маркс К.;
- 5) Леонтьев В.;
- 6) Маршалл А.;
- 7) Ойкен В.;
- 8) Лаффер А.;
- 9) Веблен Т.;
- 10) Визер Ф.

Варианты ответов:

- а) теория сравнительных издержек;
- б) теория прибавочной стоимости;
- в) западногерманский неолиберализм;
- г) теория экономики предложения;
- д) эластичность спроса и предложения по цене;
- е) метод «затраты-выпуск»;
- ж) «теория праздного класса»;
- з) «предельная полезность»;
- и) экономическая теория прав собственности;
- к) система торгового баланса.

2 Основателю новой классической экономики Р. Лукасу принадлежат следующие слова: «Модели не учитывают того, что экономические субъекты могут в корне пересмотреть свои ожидания под влиянием изменений государственной политики, и принятые ими меры делают эту политику неэффективной!» Проанализируйте данное высказывание. Представителям каких экономических школ могли быть адресованы эти слова?

IV Вопросы для самоконтроля

- 1 Каковы заслуги Ксенофонта в становлении экономической теории?
- 2 Сущность меркантилизма и этапы его развития.
- 3 Каковы основные идеи экономического учения У. Петти?

4 Учение А. Смита о капитале и его воспроизводстве, о производительном труде и об экономической политике государства.

5 Каковы основные идеи экономического учения Д. Рикардо?

6 Каковы основные идеи работы К. Маркса «Капитал»?

7 Каковы по Кейнсу причины неустойчивости экономики и пути решения этой проблемы?

8 Основные идеи работы Кейнса «Общая теория занятости, процента и денег».

9 Концепция борьбы с инфляцией и теория «естественной безработицы» М. Фридмана.

10 Теория безработицы и инфляции, разработанная представителями экономической теории предложения.

11 Основные идеи школы монополистической и несовершенной конкуренции (Чемберлин Э., Робинсон Дж.).

12 Каковы основные заслуги отечественной экономико-математической школы?

V Основные понятия

экономия

меркантилизм

денежный капитал

сфера обращения

протекционизм

физиократия

чистый продукт

воспроизводство общественного продукта

классическая экономическая школа

теория трудовой стоимости

товарное производство

рынок

рыночная цена

свободная конкуренция

производительность труда

производительный капитал

марксистская политическая экономия

конкретный и абстрактный труд

прибавочная стоимость

маржинализм

предельная полезность

предельная производительность

предельные издержки

неоклассическое направление

экономикс

институционализм

кейнсианство
неокейнсианство
монетаризм
новая классическая экономическая теория
теория экономики предложения
неоинституционализм

Вариант В

I Тестовые задания

Задание 1 (○ – выберите один вариант ответа)

Укажите категорию, которую анализировали физиократы.

- а) заработная плата;
- б) деньги;
- в) промышленность;
- г) чистый продукт.

Задание 2 (□ – выберите варианты ответов)

Кто из названных экономистов относится к классической школе политической экономии?

- а) Монкретьен А.;
- б) Мальтус Т.;
- в) Бастиа Ф.;
- г) Маршалл А.

Задание 3 (○ – выберите один вариант ответа)

Укажите положение, которое было выдвинуто Ж.Б. Сэйем.

- а) капиталист эксплуатирует рабочего;
- б) труд – это затраты умственной и физической энергии;
- в) производство – это производство материальных благ;
- г) производство само обеспечивает себе сбыт.

Задание 4 (○ – выберите один вариант ответа)

Кто из экономистов при исследовании рынка стал широко использовать понятия «эластичность спроса» и «эластичность предложения»?

- а) Р. Солоу;
- б) Дж. Хикс;
- в) Дж.М. Кейнс;
- г) А. Маршалл.

Задание 5 (☐ – выберите варианты ответов)

Кто из названных экономистов относится к экономическому течению маржинализма?

- а) Джевонс У.;
- б) Менгер К.;
- в) Парето В.;
- г) Милль Дж.Ст.

Задание 6 (○ – выберите один вариант ответа)

Укажите название основной работы Н.Д. Кондратьева.

- а) «Принципы национальной экономики»;
- б) «Основания политической экономии»;
- в) «Теория праздного класса»;
- г) «Теория длинных волн».

Задание 7 (○ – выберите один вариант ответа)

Что выдвигает в качестве главного принципа экономической политики школа монетаризма?

- а) денежное предложение должно расширяться ежегодно в том же темпе, что и ежегодный темп роста реального ВВП;
- б) политика по увеличению совокупного предложения;
- в) жесткая налоговая политика;
- г) активная социальная политика.

Задание 8 (☐ – выберите варианты ответов)

Кто из названных экономистов является последователем учения Дж.М. Кейнса?

- а) Лаффер А.;
- б) Самуэльсон П.;
- в) Фридмен М.;
- г) Харрод Р.

Задание 9 (○ – выберите один вариант ответа)

«Невидимая рука» А. Смита – это...

- а) механизм государственного управления экономикой в интересах всего общества;
- б) действие предпринимателей в условиях свободы конкуренции и не зависящих от воли и намерений индивида объективных экономических законов;
- в) механизм хозяйствования, обусловленный божественным провидением;

г) хозяйствование на основе традиций, обычаев, религиозных норм и т.д.

Задание 10 (○ – выберите один вариант ответа)

В основе экономической теории Дж.М. Кейнса лежит концепция...

- а) эффективного спроса;
- б) экономической свободы;
- в) регулируемой монополии;
- г) эффективного предложения.

II Верны ли утверждения?

1 Основные положения трудовой теории стоимости сформулировал А. Смит.

2 Автором теории прибавочной стоимости является К. Маркс.

3 Первую макроэкономическую модель создал Д. Риккардо.

4 Согласно кейнсианской теории, экономика может долго оставаться в состоянии депрессии, сочетающейся с массовой безработицей, так как в ней нет автоматического механизма, способного привести ее к полной занятости.

5 Основателем неоклассического направления экономической теории был Дж. Кейнс.

III Задания на развитие экономического мышления

1 Установите соответствие между ученым (школой) и термином, категорией, законом, образным выражением, концепцией, школой, книгой, к которым этот ученый (ученые) имеет непосредственное отношение как автор, соавтор, внесший наибольший вклад в разработку этой концепции:

- 1) Джевонс У.С.;
- 2) Смит А.;
- 3) Маршалл А.;
- 4) Посошков И.Т.;
- 5) Кейнс Дж.М.;
- 6) Хикс Дж.Р.;
- 7) Эрхард Л.;
- 8) Кларк Дж.Б.;
- 9) Гэлбрейт Дж.К.;
- 10) Кенэ Ф.

Варианты ответов:

- а) теория абсолютных издержек в международной торговле;
- б) «Книга о скудости и богатстве»;
- в) «Общая теория занятости, процента и денег»;
- г) концепция технотруктуры;

- д) модель «инвестиции, сбережения - ликвидность, деньги» (*IS-LM*);
- е) концепция предельной производительности;
- ж) «Благосостояние для всех»;
- з) экономическая таблица;
- и) эластичность спроса по цене;
- к) убывающая предельная полезность («конечная степень полезности»).

2 В период после Второй мировой войны в США ежегодная доля правительственных расходов в среднем составила около 20% от ВВП. По мнению П. Самуэльсона, в обществе существует множество проблем (здравоохранение, образование и т.п.), которые не всегда решаются чисто рыночными методами. С точки зрения А. Смита, основным принципом взаимоотношений между государством и экономикой должен стать принцип «дешевого государства». Поразмышляйте над предложенными высказываниями и ответьте на вопросы:

- а) как можно охарактеризовать понятие «чистая рыночная экономика»?
- б) какой смысл вкладывается в понятие «смешанная экономика»?

IV Вопросы для самоконтроля

- 1 Каковы заслуги Платона в становлении экономической теории?
- 2 Экономические взгляды ранних меркантилистов.
- 3 Каковы основные идеи экономического учения П. Буагильбера?
- 4 Как трактовал А. Смит следующие категории: стоимость, деньги, заработная плата, прибыль, земельная рента?
- 5 В чем сущность маржиналистской революции?
- 6 Каковы основные экономические идеи американского институционализма?
- 7 В чем сущность кейнсианской революции в экономической науке XX века?
- 8 Каковы основные экономические идеи неокейнсианства?
- 9 Причины возникновения и сущность современного монетаризма?
- 10 Общая характеристика экономической теории предложения.
- 11 Теория несовершенной конкуренции Дж. Робинсон.
- 12 Каковы основные положения экономического учения А.В. Чаянова?

V Основные понятия

экономия
 меркантилизм
 денежный капитал
 сфера обращения
 протекционизм
 физиократия
 чистый продукт
 воспроизводство общественного продукта
 классическая экономическая школа

теория трудовой стоимости
товарное производство
рынок
рыночная цена
свободная конкуренция
производительность труда
производительный капитал
марксистская политическая экономия
конкретный и абстрактный труд
прибавочная стоимость
маржинализм
предельная полезность
предельная производительность
предельные издержки
неоклассическое направление
экономикс
институционализм
кейнсианство
неокейнсианство
монетаризм
новая классическая экономическая теория
теория экономики предложения
неоинституционализм

Вариант Г

I Тестовые задания

Задание 1 (○ – выберите один вариант ответа)

В соответствии с меркантилистской концепцией источником денежно-го богатства страны является...

- а) рост заграничных инвестиций;
- б) превышение импорта над экспортом;
- в) превышение экспорта над импортом;
- г) сфера производства.

Задание 2 (□ – выберите варианты ответов)

Кто из названных экономистов относится к экономической школе институционализма?

- а) Митчелл У.К.;
- б) Робинсон Дж.;
- в) Кларк Дж.;
- г) Веблен Т.

Задание 3 (○ – выберите один вариант ответа)

Предметом изучения классической политической экономики является...

- а) сфера обращения;
- б) сфера производства;
- в) сфера обращения и сфера производства одновременно.
- г) сфера нематериального производства.

Задание 4 (○ – выберите один вариант ответа)

Чем определяется по А. Маршаллу цена товара?

- а) полезностью;
- б) издержками производства;
- в) спросом и предложением;
- г) общественно необходимыми затратами труда.

Задание 5 (□ – выберите варианты ответов)

Кто из названных экономистов относится к последователям учения Дж.М. Кейнса?

- а) Домар Е.;
- б) Фридмен М.;
- в) Хансен Э.;
- г) Харрод Р.

Задание 6 (○ – выберите один вариант ответа)

В каком году был опубликован I том фундаментального труда К. Маркса «Капитал»?

- а) 1825 г.;
- б) 1850 г.;
- в) 1867 г.;
- г) 1901 г.

Задание 7 (○ – выберите один вариант ответа)

Выберите положение, соответствующее принципам кейнсианской школы.

- а) рыночной экономике внутренне присуща нестабильность;
- б) государственное вмешательство снижает эффективность рыночной экономики;
- в) контроль за динамикой денежного обращения;
- г) содействие стабильности банковской системы.

Задание 8 (□ – выберите варианты ответов)

Кто из названных экономистов относится к основоположникам математического направления в экономической теории?

- а) Рошер В.;
- б) Курно А.;
- в) Тюнен И.;
- г) Госсен Г.

Задание 9 (○ – выберите один вариант ответа)

В соответствии с «основным психологическим законом» Дж.М. Кейнса с ростом доходов темпы прироста потребления...

- а) опережают темпы прироста доходов;
- б) увеличиваются, но не в той же мере, что и доходы;
- в) остаются неизменными;
- г) сначала остаются неизменными, а затем резко возрастают, опережая темпы прироста доходов.

Задание 10 (○ – выберите один вариант ответа)

Теория маржинализма рассматривает...

- а) объективные отношения между людьми;
- б) субъективное отношение человека к вещи;
- в) экономические отношения в совокупности с политическими, культурными, религиозными отношениями;
- г) объективное отношение человека к вещи.

II Верны ли утверждения?

1 В классической политической экономии приоритетным методом экономического анализа является метод научной абстракции.

2 Первым автором теории воспроизводства капитала и первым, кто подразделял капитал на основной и оборотный, а труд – на производительный и непроизводительный, является А. Смит.

3 Среди авторов периода «маржинальной революции» родоначальником применения математических методов в экономике принято считать А. Маршалла.

4 Идеи Дж.М. Кейнса и сегодня оказывают существенное влияние на развитие многих направлений экономической теории и на экономическую политику правительств.

5 «Закон рынков Сэя» исчерпал свою актуальность с возникновением экономического учения Дж.Б. Кларка.

III Задания на развитие экономического мышления

1 Установите соответствие между ученым (школой) и термином, категорией, законом, образным выражением, концепцией, школой, книгой, к которым этот ученый (ученые) имеет непосредственное отношение как автор, соавтор, внесший наибольший вклад в разработку этой концепции:

- 1) Бьюкенен Дж.;
- 2) Робинсон Дж.;
- 3) Госсен Г.;
- 4) Чаянов А.В.;
- 5) меркантилисты;
- 6) Сэй Ж.Б.;
- 7) Маршалл А.;
- 8) Кенэ Ф.;
- 9) Визер Ф.;
- 10) Мальтус Т.

Варианты ответов:

- а) организационный план крестьянского хозяйства;
- б) «закон рынков»;
- в) «чистый продукт»;
- г) «предельная полезность»;
- д) теория несовершенной конкуренции;
- е) законы оценки полезности потребляемых благ;
- ж) система торгового баланса;
- з) теория общественного выбора;
- и) «Закон народонаселения»;
- к) «Экономикс».

2 Ознакомьтесь с двумя высказываниями:

а) «Современное производство – это сложный громоздкий механизм, для нормального его функционирования необходим мощный управляющий орган, который корректировал бы спонтанный рыночный порядок для создания более благоприятных условий, в которых успешно проявляла бы себя личная инициатива»;

б) «Современное производство – это сложная система, основанная на принципе саморегулирования, создающая благоприятные возможности для реализации каждым человеком своих способностей».

Какое из двух высказываний принадлежит стороннику кейнсианской модели человека? Классической модели? Вы как руководитель предприятия придерживались бы первой или второй точки зрения?

IV Вопросы для самоконтроля

- 1 Каковы заслуги Аристотеля в становлении экономической теории?
- 2 Экономические взгляды поздних меркантилистов.
- 3 В чем сходство и различие экономических учений У. Петти и П. Буагильбера?
- 4 Какова методология исследования А. Смита? Учение о разделении труда.
- 5 Каковы основные идеи австрийской школы маржинализма? Теория предельной полезности.
- 6 Экономические идеи А. Маршалла, трактовка основных экономических категорий.
- 7 Предпосылки и условия возникновения экономического учения Д.М. Кейнса.
- 8 Экономические учения западногерманского неолиберализма (В. Ойкен, Л. Эрхард).
- 9 Каковы основные идеи экономического учения современного монетаризма (М. Фридмен)?
- 10 В чем отличие экономического учения экономической теории предложения и экономического учения М. Фридмена?
- 11 Теория монополистической конкуренции Э. Чемберлина.
- 12 В чем сущность теории длинных волн в экономике Н.Д. Кондратьева?

V Основные понятия

экономия
меркантилизм
денежный капитал
сфера обращения
протекционизм
физиократия
чистый продукт
воспроизводство общественного продукта
классическая экономическая школа
теория трудовой стоимости
товарное производство
рынок
рыночная цена
свободная конкуренция
производительность труда
производительный капитал
марксистская политическая экономия
конкретный и абстрактный труд
прибавочная стоимость
маржинализм
предельная полезность

предельная производительность
предельные издержки
неоклассическое направление
экономикс
институционализм
кейнсианство
неокейнсианство
монетаризм
новая классическая экономическая теория
теория экономики предложения
неоинституционализм

Тема 2 Предмет и методология экономической теории

Вариант А

I Тестовые задания

Задание 1 (○ – выберите один вариант ответа)

Выявление законов и тенденций экономического развития характеризует _____ функцию экономической теории.

- а) идеологическую;
- б) методологическую;
- в) познавательную;
- г) практическую;
- д) прикладную.

Задание 2 (□ – выберите варианты ответов)

Какая из школ экономической теории считала, что предметом политической экономики является:

- 1) изучение «чистого продукта, создаваемого в сельском хозяйстве»;
- 2) анализ сферы обращения, обеспечивающей приток денег в страну;
- 3) исследование богатства, условий его производства и накопления;
- 4) поиск путей эффективного использования редких ресурсов?

- а) физиократы;
- б) классики;
- в) неоклассики;
- г) меркантилисты.

Задание 3 (□ – выберите варианты ответов)

Разграничьте микро- и макроэкономику.

- а) правительство осуществляет политику либерализации цен;
- б) отсутствие дождей в течение продолжительного времени вызвало падение урожайности сахарной свеклы;
- в) наводнения в Приморье привели к разрушению жилых и производственных зданий;
- г) ликвидация бюджетного дефицита является одним из средств снижения уровня инфляции;
- д) снижение налоговых ставок призвано способствовать оживлению деловой активности в стране;
- е) размер стипендии студента зависит от его успеваемости и среднедушевого дохода его семьи.

Задание 4 (○ – выберите один вариант ответа)

К позитивному подходу в экономике относятся следующие суждения...

- а) цены на продукты, входящие в набор «потребительской корзины», должны быть низкими;
- б) высокие пошлины на ввозимые в страну иностранные автомобили выгодны отечественным производителям и поэтому желательны;
- в) налоги на малый и средний бизнес должны быть низкими.

Задание 5 (□ – выберите варианты ответов)

К нормативному подходу в экономике относятся следующие суждения...

- а) стипендии, пенсии и заработная плата должны постоянно индексироваться;
- б) служащие государственного аппарата не должны иметь привилегий;
- в) рыночная организация производства имеет существенные преимущества перед командно-административной.

Задание 6 (□ – выберите варианты ответов)

Экономические законы – это законы, которые...

- а) проявляются через экономическую деятельность людей;
- б) носят объективный характер;
- в) являются вечными;
- г) носят исторически приходящий характер.

Задание 7 (○ – выберите один вариант ответа)

Анализ – это...

- а) соединение различных элементов в единое целое;
- б) разделение исследуемого предмета на составные части;
- в) изучение исследуемого предмета на макроуровне.

Задание 8 (○ – выберите один вариант ответа)

Понятие метода науки включает в себя...

- а) способы оптимального применения всей совокупности познавательных средств;
- б) структуру предмета;
- в) набор фактических данных;
- г) мировоззренческие установки ученого.

Задание 9 (○ – выберите один вариант ответа)

Что из приведенного списка не является экономической моделью?

- а) торговля на Нью-Йоркской фондовой бирже;
- б) иерархия потребностей;
- в) концепция экономического человека;
- г) валовой внутренний продукт.

Задание 10 (□ – выберите варианты ответов)

Из перечисленных моделей не является микроэкономической...

- а) модель фирмы;
- б) модель инфляции;
- в) модель потребителя;
- г) модель рыночного равновесия;
- д) модель региона.

II Верны ли утверждения?

1 Позитивный и нормативный методы характеризуют два варианта изложения результатов анализа: в стиле «долженствования» (подготовка рекомендаций осуществления экономической политики фирмы, государства) или в стиле «научной нейтральности» (проведение абстрактного анализа экономической реальности). Характеристика данного разграничения впервые была предложена А. Смитом.

2 Характерной чертой современной ориентации экономической теории является то, что она тяготеет к прагматическому принципу: исследование должно проводиться главным образом в отношении тех явлений, которые связаны с острыми, труднорешаемыми проблемами экономики.

3 Микроэкономика имеет дело с конкретными экономическими единицами: валюта, рынок ценных бумаг, экономический кризис, безработица.

4 Мегаэкономика – становление единого мирового хозяйства, целостного по своим общим контурам и по внутренним взаимосвязям составляющих его компонентов.

5 Метод экономической теории, с одной стороны, отражает уже познанные законы исследуемой сферы окружающего мира, а с другой – выступает как средство последующего познания.

III Задания на развитие экономического мышления

1 Французский экономист Раймон Барр в своем учебнике «Политическая экономия» пишет: «Кем-то удачно было сказано, что экономическая теория – это "ящик с инструментами". Она не дает готовых выводов, а является методом, способом, позволяющим делать из фактов правильные выводы».

Какое начало здесь проявляется больше: нормативное или позитивное?

Какие «за» и «против» в отношении данной позиции вы могли бы привести?

2 Английский экономист Дж. Кейнс в своей знаменитой работе «Общая теория занятости, процента и денег» приводит следующую мысль: «Экономическая теория ... является скорее методом, чем учением, интеллектуальным инструментом, техникой мышления, помогая тому, кто владеет ею, приходиться к правильным заключениям».

Что, по вашему мнению, дало основание для такого вывода и какие элементы в экономической теории придают ей методологическую направленность?

IV Вопросы для самоконтроля

- 1 Что включает в себя система экономических знаний?
- 2 Что является предметом экономики как науки?
- 3 Как соотносятся общая экономическая теория и частные экономические дисциплины?
- 4 Каковы содержание и структура микроэкономики?
- 5 Каковы содержание и структура макроэкономики?
- 6 Как соотносятся эмпирическая наука и экономическая теория?
- 7 Какова основная цель экономической политики любого государства?
- 8 Раскройте суть компромисса общества между эффективностью и равенством (на примере России).
- 9 Охарактеризуйте содержание основных функций экономической теории (теоретическая, методологическая, познавательная, практическая, прикладная).
- 10 Как классифицируются методы научного исследования в экономической теории?
- 11 Назовите основные методы научного изложения экономических явлений и процессов и зависимостей между ними.

12 Раскройте содержание понятия «системный подход к анализу экономических явлений и процессов».

13 Каковы особенности метода моделирования в экономической теории?

14 В чем достоинства и ограниченность систем, построенных на основе формальной и диалектической логики?

15 В каких случаях экономические явления лучше рассматривать исторически, в каких – логически? Охарактеризуйте достоинства и недостатки обоих методов. Приведите примеры их употребления, которые известны вам.

V Основные понятия

предмет экономической теории

микроэкономика

макроэкономика

мезоэкономика

мегаэкономика

экономическая категория

экономический закон

экономическая стратегия

экономическая тактика

экономическая политика

эффективность производства

позитивная экономика (метод научного изложения)

нормативная экономика (метод научного изложения)

методология

метод

метод научной абстракции

формальная логика

индукция

дедукция

анализ

синтез

гипотеза

сравнение

аналогия

проблема

антимония

апория

диалектика как метод политической экономии

методы диалектической логики (восхождение от абстрактного к конкретному; единство исторического и логического)

экономическая статика

экономическая динамика

номинальные величины

реальные величины

предельные (маржинальные величины)
поток
запас
дисконтирование
казуальный метод
функциональный метод
факторный анализ
логический метод
эмпирический метод
моделирование
экономическая модель
экономический эксперимент
экономико-математический метод

Вариант Б

I Тестовые задания

Задание 1 (○ – выберите один вариант ответа)

Позитивная экономика занимается...

- а) выявлением содержательной стороны экономических процессов и явлений;
- б) определением имеющихся ресурсов;
- в) поиском путей выхода из кризиса;
- г) использованием экономических законов и принципов при решении определенных социально-экономических задач.

Задание 2 (○ – выберите один вариант ответа)

Экономические законы отличаются от законов природы тем, что они...

- а) реализуются через практическую деятельность людей;
- б) устанавливаются государством для регулирования экономики;
- в) действуют независимо от воли и сознания людей;
- г) создаются людьми и используются ими.

Задание 3 (○ – выберите один вариант ответа)

Термин «политическая экономия» ввел в научный оборот...

- а) Ф. Кенэ;
- б) А. Смит;
- в) А. Монкретьен;
- г) Аристотель.

Задание 4 (○ – выберите один вариант ответа)

Индукция – это метод познания ...

- а) основанный на умозаклучениях от частного (особенного) к общему;
- б) основанный на переносе одного или ряда свойств с известного явления на неизвестное;
- в) определяющий сходство или различие явлений и процессов;
- г) основанный на умозаклучениях от общего к частному.

Задание 5 (□ – выберите варианты ответов)

Закон тождества означает, что...

- а) каждая мысль должна иметь строго определенное устойчивое содержание;
- б) нельзя подменять одни понятия другими;
- в) не должно быть расплывчатости и неопределенности в экономическом мышлении;
- г) всякая истинная мысль должна быть обоснована другими мыслями, истинность которых была доказана ранее.

Задание 6 (○ – выберите один вариант ответа)

Кто создал метод линейного программирования?

- а) А.А. Богданов;
- б) У. Джевонс;
- в) Л.В. Канторович;
- г) Н. Виннер.

Задание 7 (○ – выберите один вариант ответа)

Экономическая модель – это...

- а) условное воспроизведение реального мира;
- б) сложная динамическая система об управлении экономикой;
- в) формализованное описание экономического процесса или явления, структура которого определяется как его объективными свойствами, так и субъективным, целевым характером исследования;
- г) четко сформулированный вопрос или комплекс вопросов.

Задание 8 (○ – выберите один вариант ответа)

В приведенный список одна фамилия вставлена ошибочно. Какая именно?

- а) Канторович;
- б) Коуз;
- в) Кузнец;
- г) Новожилов.

Задание 9 (□ – выберите варианты ответов)

Какие из законов не относятся к принципам материалистической диалектики?

- а) взаимопереход количества и качества;
- б) отрицания;
- в) противоречия;
- г) доказательство истины.

Задание 10 (○ – выберите один вариант ответа)

Какая из формул отражает фактор времени?

- а) $MV = PQ$;
- б) $FV = \sum_{t=1}^n PV(1+r)^t$;
- в) $Q = f(P)$;
- г) $Q_s = Q_d$.

II Верны ли утверждения?

1 Экономическая модель – это отражение некоторых, но не всех, сторон реальной действительности, следовательно, она никогда не отражает реальность во всей ее полноте.

2 Предметом экономической теории как науки является система производственных отношений.

3 Современная экономическая теория тяготеет к прагматическому принципу: исследование должно проводиться главным образом в отношении тех явлений, которые связаны с острыми, трудноразрешимыми проблемами экономики.

4 Данная формула – формула расчета будущей ценности сегодняшней суммы денег: $PV = \sum_{t=1}^n FV \frac{1}{(1+r)^t}$.

5 Системный подход к анализу экономических явлений и процессов – это детище XXI века. Своим появлением он обязан Дж.М. Кейнсу.

III Задания на развитие экономического мышления

1 Экономист Д. Рикардо был одним из богатейших людей своего времени. Экономист Дж.М. Кейнс еще в молодые годы составил капитал, играя на бирже, и в зрелые годы продолжал успешно заниматься бизнесом. Следовательно, все выдающиеся экономисты могут рассчитывать на успех в бизнесе.

Можно ли считать данное заключение верным? Если да, то почему? Если нет, то почему? Приведите веские аргументы своему доказательству.

2 Как пишет немецкий экономист П. Козловски, «политическая экономия представляет собой соединение политической философии и экономической науки. Она является экономической теорией политических институтов и политических предпосылок той области культуры, которая называется народным хозяйством».

Согласны ли вы с этим заключением П. Козловски, которое он изложил в работе «Принципы этической экономии» (Пер. с нем. – СПб.: Экономическая школа, 1999. – С. 8)?

IV Вопросы для самоконтроля

1 Охарактеризуйте основные этапы развития предмета экономической теории. Какие вопросы выпадали из поля зрения экономической теории и почему?

2 Чем отличается предмет «новой экономической теории» от предмета политической экономии в традиционном понимании?

3 Как соотносится фундаментальная экономическая наука со специальными экономическими науками, а также с экономической политикой государства?

4 Почему в современной экономической науке большое внимание уделяется факторному анализу?

5 Что такое диалектика? Каковы основные диалектические принципы (методы) изучения экономической теории?

6 Какие уровни экономического анализа вы знаете? Назовите круг вопросов, изучаемых микро- и макроэкономикой.

V Основные понятия

предмет экономической теории

микроэкономика

макроэкономика

мезоэкономика

мегаэкономика

экономическая категория

экономический закон

экономическая стратегия

экономическая тактика

экономическая политика
эффективность производства
позитивная экономика (метод научного изложения)
нормативная экономика (метод научного изложения)
методология
метод
метод научной абстракции

Вариант В

I Тестовые задания

Задание 1 (○ – выберите один вариант ответа)

Микроэкономика в отличие от макроэкономики изучает...

- а) только поведение отдельного потребителя;
- б) экономику территориальной единицы;
- в) экономические явления в течение короткого промежутка времени;
- г) поведение потребителей, поведение фирм, отдельные отраслевые рынки, рынки факторов производства.

Задание 2 (○ – выберите один вариант ответа)

Какая функция не является функцией экономической теории?

- а) теоретическая;
- б) познавательная;
- в) ценообразующая;
- г) прикладная.

Задание 3 (○ – выберите один вариант ответа)

Мезоэкономика – это раздел экономической науки, изучающий...

- а) поведение отдельных фирм;
- б) поведение потребителей на отраслевых рынках;
- в) рыночную экономику;
- г) региональную экономику.

Задание 4 (□ – выберите варианты ответов)

К средствам труда относятся...

- а) электроэнергия;
- б) компьютер;

- в) инициатива, ответственность;
- г) принтер.

Задание 5 (□ – выберите варианты ответов)

К показателям экономического эффекта относятся...

- а) рентабельность активов;
- б) увеличение продолжительности жизни;
- в) валовая прибыль;
- г) производительность труда.

Задание 6 (○ – выберите один вариант ответа)

Если экономика изучается как целостная система, то имеет место анализ...

- а) нормативный;
- б) микроэкономический;
- в) макроэкономический;
- г) позитивный.

Задание 7 (○ – выберите один вариант ответа)

Метод познания, который предполагает разделение целого на отдельные составные части и изучение каждой из этих частей, называется...

- а) дедукция;
- б) анализ;
- в) синтез;
- г) индукция.

Задание 8 (○ – выберите один вариант ответа)

А. Смит полагал, что основным стимулом экономической активности человека является интерес...

- а) коллективный;
- б) государственный;
- в) частный;
- г) национальный.

Задание 9 (□ – выберите варианты ответов)

Дисконтированная стоимость изменяется обратно пропорционально...

- а) продолжительности периода времени;

- б) норме дисконта;
- в) уровню дохода;
- г) норме прибыли.

Задание 10 (○ – выберите один вариант ответа)

Социальная эффективность общественного производства – это...

- а) соотношение объемов социального и экономического эффекта;
- б) стоимость всех произведенных жизненных благ;
- в) сумма прибыли, полученная от реализации всех товаров и услуг;
- г) стоимость всей произведенной продукции в расчете на единицу затрат.

II Верны ли утверждения?

1 Модель «экономического человека», описывающая поведение человека в экономике, впервые была предложена представителями школы предельной полезности.

2 Современную экономическую теорию можно определить как науку о распределении ограниченных ресурсов.

3 В год хорошего урожая фермер может получить большую выручку от продажи пшеницы. Это означает, что доходы фермеров России в урожайные годы значительно возрастают.

4 Утверждение «Для снижения уровня инфляции необходимо повысить подоходный налог» является нормативным, ведь другие экономисты могут говорить, что подоходный налог нельзя повышать, т.к. это снижает и так невысокие доходы людей в России. Таким образом, с нормативным подходом в экономике всегда связаны разногласия.

5 При исследовании экономических явлений и процессов используется метод научной абстракции, т.е. приходится абстрагироваться от всего частного, случайного и кратковременного при определении типичных, характерных черт.

III Задания на развитие экономического мышления

1 В.И. Вернадский (1863-1945) говорил, что дальнейшее развитие общества может происходить только в условиях, когда человечество возьмет на себя ответственность не только за собственное развитие, но и за развитие биосферы в целом. Экономика должна развиваться так, чтобы это не влекло за собой необратимых изменений в экологических условиях обитания человека. Прокомментируйте это высказывание. Как оно связано с современным определением предмета экономической теории?

2 Современную экономику развитых стран часто называют «рыночной экономикой». Ключевое слово здесь – «рынок» или «обмен». Поэтому дается определение, что «экономика – это наука об обмене и денежных сделках в обществе».

Согласны ли вы с этим определением экономики? Исчерпывает ли оно содержание современной рыночной экономики?

IV Вопросы для самоконтроля

- 1 Что является предметом экономики по определению Л. Роббинса?
- 2 Охарактеризуйте содержание основных функций экономической теории как науки.
- 3 Сформулируйте основные проблемы микроэкономики и макроэкономики.
- 4 Проследите эволюцию понятия предмета экономики.
- 5 Выделите и раскройте содержание специфических методов экономического анализа.
- 6 Назовите основные цели современной экономической политики российского правительства. Разграничьте экономическую стратегию и экономическую тактику.
- 7 Раскройте содержание факторного анализа в экономике.
- 8 Дайте определение экономической статики и экономической динамики.

V Основные понятия

индукция

дедукция

анализ

синтез

гипотеза

сравнение

аналогия

проблема

антимония

апория

диалектика как метод политической экономии

методы диалектической логики (восхождение от абстрактного к конкретному; единство исторического и логического)

экономическая статика

экономическая динамика

Вариант Г

I Тестовые задания

Задание 1 (□ – выберите варианты ответов)

Выделите функции экономической теории.

а) регулирующая;

- б) методологическая;
- в) ценообразующая;
- г) познавательная.

Задание 2 (□ – выберите варианты ответов)

К средствам труда не относятся...

- а) электроэнергия;
- б) компьютер;
- в) станок;
- г) бензин.

Задание 3 (○ – выберите один вариант ответа)

Какие вопросы не изучает микроэкономика?

- а) как отдельный потребитель принимает решение о покупке тех или иных товаров и услуг, имея в своем распоряжении ограниченное количество денег;
- б) что лежит в основе формирования цен и объемов продаж на отдельных отраслевых рынках;
- в) как решаются проблемы экономического роста в стране;
- г) как функционирует рыночная экономика.

Задание 4 (□ – выберите варианты ответов)

Политическая экономия – это наука...

- а) о богатстве народов;
- б) о производственных (экономических) отношениях;
- в) о рациональном использовании ограниченных ресурсов;
- г) о переходном периоде.

Задание 5 (○ – выберите один вариант ответа)

Что такое формальная логика?

- а) изучение мысли со стороны ее структуры, формы;
- б) мысль, в которой утверждается или отрицается что-либо о чем-либо;
- в) прием мышления, посредством которого из некоторого исходного знания получается выводное знание;
- г) мысль со стороны ее исследователя.

Задание 6 (○ – выберите один вариант ответа)

Эмпирическая наука основывается...

- а) на анализе экономических законов;
- б) на сравнении, что есть и что могло быть;

- в) на сборе фактов;
- г) на исследовании экономических отношений.

Задание 7 (○ – выберите один вариант ответа)

Макроэкономика определяется как область экономической теории, изучающая...

- а) роль государства в экономике;
- б) глобальные тенденции экономического развития человечества;
- в) процессы, происходящие в национальной экономике, взятой в целом;
- г) национальное богатство народов.

Задание 8 (○ – выберите один вариант ответа)

Разделить политическую экономию на четыре раздела - исследование сфер производства, распределение, обмен и потребление - предложил...

- а) Д. Рикардо;
- б) К. Маркс;
- в) Дж. Милль;
- г) Дж.Ст. Милль.

Задание 9 (○ – выберите один вариант ответа)

Качество экономической модели определяется главным образом тем, насколько...

- а) точен прогноз, составленный на ее основе;
- б) много реалистических предпосылок содержится в ней;
- в) легко ей верифицировать (проверить);
- г) много уравнений она содержит.

Задание 10 (○ – выберите один вариант ответа)

Основное значение экономической науки сегодня в том, что она...

- а) помогает предпринимателям успешно вести бизнес;
- б) дает ученым возможность реализовывать свои способности;
- в) показывает пути наилучшей организации общественного устройства с точки зрения удовлетворения потребностей людей;
- г) раскрывает человеку истинные мотивы его поведения.

II Верны ли утверждения?

1 Экономист Д. Риккардо был одним из авторов трудовой стоимости, согласно которой стоимость – это труд, воплощенный, овеществленный в товаре.

2 Простейшим видом экономико-математического моделирования является моделирование в двухмерном пространстве при помощи графиков. Если с увеличением значения аргумента значение функции растет, наклон графика называют положительным, если с увеличением значения аргумента значение функции уменьшается, наклон называют отрицательным.

3 Разработанный в рамках немецкой классической философии (И. Кант, И. Фихте, Ф. Шеллинг, Г. Гегель) диалектический метод был материалистически переосмыслен и впервые успешно применен в политической экономии К. Марксом.

4 В ходе развития экономической теории ее предмет определялся по-разному. Меркантилисты считали ее предметом деятельность, связанную с промышленным производством товаров народного потребления.

5 Экономикс – наука о рациональном использовании ограниченных ресурсов.

III Задания на развитие экономического мышления

1 Микроэкономика и макроэкономика не являются разными дисциплинами. Это два подхода к рассмотрению экономических явлений и процессов: на уровне хозяйствующих субъектов и на уровне национальной экономики в целом.

На чем основан этот вывод? Докажите, что микро- и макроэкономика составляют одно целое – науку «Экономическая теория».

2 Необходимость реализации своих экономических интересов и удовлетворения экономических и социальных потребностей вынуждает человека, какой бы деятельностью он ни занимался, изучать экономическую теорию подобно тому, как забота о здоровье заставляет его знакомиться с достижениями медицины.

Прокомментируйте это положение. Что заставляет человека изучать экономическую науку?

IV Вопросы для самоконтроля

1 Раскройте структуру экономических знаний.

2 Какие вопросы изучает микроэкономика, макроэкономика?

3 Дайте определение экономической категории, экономического закона.

4 Что общего между позитивной и нормативной экономикой? В чем их различия?

5 Какое значение имеет фактор времени в экономике? Соотношение фактора времени и дисконтирования.

6 Какие существуют измерения экономических переменных?

7 Что такое в экономике поток, запас?

V Основные понятия

номинальные величины
реальные величины
предельные (маржинальные величины)
поток
запас
дисконтирование
казуальный метод
функциональный метод
факторный анализ
логический метод
эмпирический метод
моделирование
экономическая модель
экономический эксперимент
экономико-математический метод

Тема 3

Рыночная экономика. Кругооборот благ и доходов

Вариант А

I Тестовые задания

Задание 1 (○ – выберите один вариант ответа)

Экономическая система решает следующие вопросы...

- а) что, где, для кого;
- б) что, как, для кого и каков темп роста;
- в) когда, почему, где и кто;
- г) каковы причины безработицы и инфляции.

Задание 2 (○ – выберите один вариант ответа)

Собственность как экономическая категория представляет собой...

- а) возможность использовать вещи, предметы, деньги в соответствии со своим желанием, без разрешения;
- б) то, что принадлежит отдельному хозяину;
- в) отношения между людьми, обусловленные принадлежностью им предметов, вещей или отчуждением этих предметов, вещей в чью-то пользу;
- г) право людей обладать вещами.

Задание 3 (○ – выберите один вариант ответа)

Широкое распространение пожизненного найма рабочих на фирмах является отличительной особенностью _____ модели смешанной экономики.

- а) шведской;
- б) американской;
- в) немецкой;
- г) японской.

Задание 4 (○ – выберите один вариант ответа)

В понятие «инъекции» включаются...

- а) инвестиции;
- б) импорт;
- в) сбережения;
- г) налоги.

Задание 5 (○ – выберите один вариант ответа)

В понятие «изъятия» включаются...

- а) государственные закупки товаров и услуг;
- б) трансфертные платежи;
- в) экспорт;
- г) сбережения.

Задание 6 (○ – выберите один вариант ответа)

В соответствии со схемой кругооборота национальный продукт равен...

- а) $Y = C + I + G + Ex$;
- б) $Y = C + I + G + Xn$;
- в) $Y = C + S + T + Im$;
- г) $Y = C + I + S + G + Xn$.

Задание 7 (○ – выберите один вариант ответа)

Выберите верное соотношение для четырехсекторной модели экономики.

- а) $C + I + G + Xn = C + S + T + Im$;
- в) $Y = C + S + I + G + Xn$;
- б) $(I - S) + (G - T) = -Xn$;
- г) нет верного ответа.

Задание 8 (○ – выберите один вариант ответа)

Сокращение дефицита госбюджета сопровождается...

- а) снижением сбережений;
- б) снижением инвестиций;
- в) ростом импорта;
- г) все ответы верны.

Задание 9 (○ – выберите один вариант ответа)

Чтобы в модели кругооборота получить располагаемый доход, необходимо из величины совокупного выпуска (Y) вычесть...

- а) чистые налоги и прибавить трансферты;
- б) налоги и прибавить трансферты;
- в) трансферты и прибавить налоги;
- г) и налоги, и трансферты.

Задание 10 (○ – выберите один вариант ответа)

Если в экономике инвестиции составляют \$600 млрд, государственные закупки товаров и услуг - \$900 млрд, чистые налоги - \$800 млрд, частные сбережения - \$750 млрд, то сальдо торгового баланса будет составлять...

- а) 50;
- б) -50;
- в) 150;
- г) 250.

II Верны ли утверждения?

1 Экономическая власть в условиях рыночного хозяйства в отличие от командной экономики широко рассеяна.

2 Когда экономические проблемы решаются частично рынком, частично правительством, то это смешанная экономика.

3 В равновесной экономике инъекции всегда равны изъятиям.

4 В двухсекторной модели экономики частные сбережения должны быть равны инвестициям.

5 Государственные расходы являются изъятием из потока доходов, поскольку они в конечном итоге сокращают расходы частного сектора.

III Задачи

1 В экономике страны располагаемый доход равен \$4800 млрд, потребительские расходы - \$4100 млрд, дефицит бюджета составляет \$100 млрд, а дефицит торгового баланса - \$50 млрд. Определить инвестиции.

2 В экономике страны инвестиции равны \$900 млрд, излишек торгового баланса составляет \$150 млрд, потребительские расходы - \$5000 млрд, дефицит государственного бюджета - \$100 млрд. Определить располагаемый доход.

IV Задание на развитие экономического мышления

Составьте экономический кроссворд, используя следующие термины: типы, системы, традиции, обычаи, община, предпринимательство, собственность, многоукладность, саморегулирование, неравенство, план, планирование, администрирование, централизация, государство, модели.

V Вопросы для самоконтроля

1 Какие типы экономических систем вы знаете и какова их сущность?

2 На какие три главных вопроса экономики постоянно стремится дать ответ экономическая теория и в чем заключается их содержание?

3 В чем состоят особенности развития экономических систем на современном этапе?

4 Как связана проблема ресурсов с возникновением и эволюцией рыночной системы хозяйствования?

5 В чем, на ваш взгляд, выражается специфика экономического поведения участников рыночного обмена товаров?

VI Основные понятия

собственность

субъект и объект собственности

источники собственности

право собственности, владения, распоряжения

отчуждение

реализация собственности

частная собственность

муниципальная собственность

государственная собственность

кооперативная и коллективная собственность

экономическая система

традиционное общество

индустриальная и постиндустриальная экономика

командная экономика и «чистый» капитализм

смешанная экономика

конкуренция

свобода предпринимательства

личный интерес

экономические субъекты (фирмы, домашние хозяйства, правительство)

налоги

трансферты
реальный поток
денежный поток

Вариант Б

I Тестовые задания

Задание 1 (○ – выберите один вариант ответа)

_____ обусловили(ла) неизбежность дефицита товаров и услуг в административно-командной экономике.

- а) безработица;
- б) конкуренция товаропроизводителей;
- в) цены, не учитывающие соотношение спроса и предложения;
- г) высокие темпы инфляции.

Задание 2 (○ – выберите один вариант ответа)

Предположим, что все ресурсы в экономической системе используются таким образом, что наращивать производство одного продукта можно только путем сокращения производства другого. Экономист назовет такую ситуацию...

- а) эффективной;
- б) неэффективной;
- в) административно-командной системой;
- г) экономическим кризисом.

Задание 3 (□ – выберите варианты ответов)

Японская модель может быть охарактеризована...

- а) сильной социальной политикой;
- б) как модель, построенная на системе всемерного поощрения предпринимательской деятельности;
- в) отставанием уровня жизни населения от развития производительных сил;
- г) развитым планированием и координацией деятельности правительства и частного сектора.

Задание 4 (○ – выберите один вариант ответа)

В закрытой экономике при увеличении дефицита госбюджета, если частные сбережения фиксированы, инвестиции...

- а) увеличиваются;

- б) снижаются;
- в) не меняются;
- г) информации недостаточно.

Задание 5 (○ – выберите один вариант ответа)

В соответствии со схемой кругооборота располагаемый доход равен...

- а) $Y_d = Y - Tr + T_x$;
- б) $Y_d = Y + S - T_x$;
- в) $Y_d = Y + Tr - T_x$;
- г) $Y_d = C + S + T_x$.

Задание 6 (○ – выберите один вариант ответа)

Частные сбережения равны...

- а) сумме частных инвестиций и дефицита государственного бюджета за вычетом излишка торгового баланса;
- б) сумме частных инвестиций и излишка государственного бюджета за вычетом излишка торгового баланса;
- в) сумме частных инвестиций и дефицита государственного бюджета за вычетом дефицита торгового баланса;
- г) сумме дефицита государственного бюджета и излишка торгового баланса за вычетом частных инвестиций.

Задание 7 (○ – выберите один вариант ответа)

В модели открытой экономики превышение инвестиций над сбережениями равно величине...

- а) чистого экспорта плюс излишек государственного бюджета;
- б) дефицита торгового баланса плюс излишек государственного бюджета;
- в) дефицита государственного бюджета плюс излишек торгового баланса;
- г) чистых инвестиций плюс дефицит торгового баланса.

Задание 8 (○ – выберите один вариант ответа)

Согласно методу «изъятий и инъекций» для открытой экономики...

- а) $S + C + E_x = I + G - I_m$;
- б) $S + T - E_x = I + G - I_m$;
- в) $S + T + E_x = I + G + I_m$;
- г) нет верного ответа.

Задание 9 (○ – выберите один вариант ответа)

В четырехсекторной модели экономики профицит государственного бюджета равен...

- а) сумме превышения инвестиций над сбережениями и дефицита торгового баланса;
- б) сумме превышения сбережений над инвестициями и дефицита торгового баланса;
- в) сумме превышения инвестиций над сбережениями и профицита торгового баланса;
- г) сумме превышения сбережений над инвестициями и профицита торгового баланса.

Задание 10 (○ – выберите один вариант ответа)

Если сбережения равны \$200 млрд, бюджетный дефицит составляет \$50 млрд, а дефицит торгового баланса \$10 млрд, то инвестиции равны...

- а) 140 млрд дол.;
- б) 150 млрд дол.;
- в) 160 млрд дол.;
- г) 260 млрд дол.

II Верны ли утверждения?

- 1 В равновесной экономике доходы тождественно равны расходам.
- 2 Если государственные расходы превышают налоговые поступления в бюджет, государство выступает кредитором на финансовом рынке.
- 3 В трехсекторной модели экономики, при прочих равных условиях, рост налогов ведет к сокращению инвестиций.
- 4 В четырехсекторной модели экономики национальный доход равен национальному объему производства.
- 5 Экспорт является изъятием из потока расходов, так как продажа части товаров, произведенных национальной экономикой, другим странам сокращает количество товаров, остающихся для потребления внутри страны.

III Задачи

- 1 В экономике страны ВВП равен \$5000 млрд, инвестиции - \$500 млрд, сальдо госбюджета - \$20 млрд, потребительские расходы - \$3000 млрд, государственные закупки товаров и услуг - \$900 млрд. Определить чистый экспорт, чистые налоги, располагаемый доход, частные сбережения.

2 В экономике страны ВВП равен \$800 млрд, располагаемый доход - \$656 млрд, потребительские расходы - \$608 млрд, сальдо госбюджета - \$32 млрд, дефицит торгового баланса - \$16 млрд. Определить государственные закупки, частные сбережения, инвестиции.

IV Задание на развитие экономического мышления

Что является стимулом для экономической деятельности в капиталистическом плановом хозяйстве, а что – в социалистической плановой экономике? Опишите сходства и различия.

V Вопросы для самоконтроля

1 Раскройте сущность моделей экономических систем.

2 Каковы особенности российской модели переходной экономики (в отличие от административно-командной и рыночной экономик)?

3 Каким образом решаются три основных вопроса экономики (что, как и для кого) в рыночной экономике и административно-командной?

4 Чего больше в рыночной организации: хаоса и анархии или автоматизма и саморегулирования? Для ответа используйте рисунок «Рыночный кругооборот благ и доходов».

VI Основные понятия

собственность

субъект и объект собственности

источники собственности

право собственности, владения, распоряжения

отчуждение

реализация собственности

частная собственность

муниципальная собственность

государственная собственность

кооперативная и коллективная собственность

экономическая система

традиционное общество

индустриальная и постиндустриальная экономика

командная экономика и «чистый» капитализм

смешанная экономика

конкуренция

свобода предпринимательства

личный интерес

экономические субъекты (фирмы, домашние хозяйства, правительство)

налоги

трансферты

реальный поток

денежный поток

Вариант В

I Тестовые задания

Задание 1 (☐ – выберите варианты ответов)

К основным чертам традиционной экономики можно отнести...

- а) частная собственность на экономические ресурсы;
- б) рыночный механизм регулирования экономики без вмешательства государства;
- в) многоукладность экономики, основанной на традициях;
- г) непосредственное управление всеми предприятиями из единого центра.

Задание 2 (☐ – выберите варианты ответов)

_____ и _____ формы собственности относятся к частной.

- а) партнерская;
- б) общенародная;
- в) государственная;
- г) корпоративная.

Задание 3 (○ – выберите один вариант ответа)

Одно из преимуществ командно-административной экономики состоит...

- а) в возможности быстрой концентрации ресурсов в государственном секторе;
- б) в свободном выборе хозяйствующими субъектами видов деятельности;
- в) в возможности полного удовлетворения потребностей общества;
- г) в формировании цен на основе взаимодействия спроса и предложения.

Задание 4 (○ – выберите один вариант ответа)

Для рыночной и командно-административной экономических систем общим является...

- а) свободно принимаемые экономическими субъектами решения;
- б) наличие товарно-денежных отношений;
- в) наличие конкуренции между производителями;
- г) централизованное распределение ограниченных ресурсов.

Задание 5 (○ – выберите один вариант ответа)

_____ - это физическое обладание вещью.

- а) распоряжение;
- б) присвоение;
- в) владение;
- г) пользование.

Задание 6 (○ – выберите один вариант ответа)

В трехсекторной модели экономики...

- а) сбережения домохозяйств равны чистым инвестициям;
- б) сбережения домохозяйств равны валовым инвестициям;
- в) сбережения домохозяйств плюс амортизация равны валовым инвестициям плюс государственные закупки;
- г) сбережения домохозяйств плюс налоги равны чистым инвестициям плюс государственные закупки.

Задание 7 (○ – выберите один вариант ответа)

Для трехсекторной модели экономики все равенства верны, кроме...

- а) $S - I = G - T$;
- б) $S + G = I + T$;
- в) $S + T = G + I$;
- г) $S = (G - T) + I$.

Задание 8 (○ – выберите один вариант ответа)

Отрицательный чистый экспорт означает, что...

- а) сальдо торгового баланса положительно;
- б) инъекции больше изъятий;
- в) национальный продукт меньше национального дохода;
- г) все ответы неверны.

Задание 9 (○ – выберите один вариант ответа)

В четырехсекторной модели экономики дефицит торгового баланса равен сумме...

- а) дефицита государственного бюджета и превышения частных сбережений над инвестициями;
- б) дефицита госбюджета и превышения инвестиций над частными сбережениями;
- в) профицита госбюджета и превышения инвестиций над частными сбережениями;
- г) профицита госбюджета и превышения частных сбережений над инвестициями.

Задание 10 (○ – выберите один вариант ответа)

В открытой экономике ВВП составляет \$4000 млрд, потребление - \$2600 млрд, инвестиции - \$900 млрд, государственные закупки - \$850 млрд, чистые налоги - \$800 млрд. Величина частных сбережений равна...

- а) 550 млрд дол.;
- б) 600 млрд дол.;
- в) -50 млрд дол.;
- г) -350 млрд дол.

II Верны ли утверждения?

1 Увеличение государственных расходов в закрытой экономике, при прочих равных условиях, ведет к росту частных сбережений.

2 В четырехсекторной модели, если сбережения равны инвестициям, дефицит государственного бюджета должен быть равен дефициту торгового баланса.

3 Если экспорт превышает импорт, в страну идет приток капитала.

4 Если имеет место дефицит торгового баланса, из страны идет отток капитала.

5 Импорт является инъекцией, так как он ведет к росту потребительских расходов и, следовательно, совокупного дохода и выпуска.

III Задачи

1 В экономике страны располагаемый доход равен \$5000 млрд, потребительские расходы - \$4200 млрд, инвестиции - \$1100 млрд, дефицит торгового баланса составляет \$100 млрд. Определить состояние государственного бюджета.

2 В экономике инвестиции равны \$700 млрд, частные сбережения - \$400 млрд, излишек государственного бюджета - \$200 млрд. Определить сальдо торгового баланса.

IV Задания на развитие экономического мышления

1 Что вам известно о хронологии возникновения и причинах разрушения рыночной организации хозяйства в России?

2 Сопоставьте преимущества и недостатки частной и общественной собственности. Какой форме собственности вы отдаете предпочтение и почему?

V Вопросы для самоконтроля

1 Какие ресурсы выступали наиболее редкими в доиндустриальной экономике? Индустриальном и постиндустриальном обществе?

2 Каким образом традиционное общество, рыночная и командная экономика решили проблему редкости ресурсов?

3 Возможно ли существование «чистой» рыночной или командной системы?

4 Может ли экономика работать эффективно при занятости части ресурсов?

5 Расскажите о правах владения, пользования, распоряжения собственностью. Приведите соответствующие примеры.

VI Основные понятия

собственность

субъект и объект собственности

источники собственности

право собственности, владения, распоряжения

отчуждение

реализация собственности

частная собственность

муниципальная собственность

государственная собственность

кооперативная и коллективная собственность

экономическая система

традиционное общество

индустриальная и постиндустриальная экономика

командная экономика и «чистый» капитализм

смешанная экономика

конкуренция

свобода предпринимательства

личный интерес

экономические субъекты (фирмы, домашние хозяйства, правительство)

налоги

трансферты

реальный поток

денежный поток

Тема 4

Выбор в экономике модели производственных возможностей

Вариант А

I Тестовые задания

Задание 1 (○ - выберите один вариант ответа)

Что в экономической теории понимается под категорией «производство»?

а) изготовление людьми конкретных потребительных стоимостей;

- б) деятельность человека по изменению окружающей среды;
- в) целесообразная деятельность людей, направленная на удовлетворение их потребностей;
- г) кооперация людей для достижения определенной цели.

Задание 2 (○ - выберите один вариант ответа)

Какие основные факторы производства (или ресурсы) взаимодействуют в процессе производства?

- а) труд, капитал, земля, предпринимательство;
- б) рабочая сила, здания и сооружения, государство;
- в) предметы труда и средства производства;
- г) организаторы производства, наемные работники и капитал.

Задание 3 (○ - выберите один вариант ответа)

Какие взаимосвязанные стадии проходит создаваемый в результате общественного производства национальный продукт?

- а) производство, оценку, распределение;
- б) планирование, производство, потребление;
- в) производство, распределение, обмен и потребление;
- г) производство, торговлю, доведение до потребителя.

Задание 4 (○ - выберите один вариант ответа)

Какова основная причина необходимости выбора в экономике?

- а) необходимость увеличения производительности труда;
- б) ограниченность ресурсов;
- в) требования об улучшении общих экономических показателей развития страны;
- г) необходимость удовлетворения базовых потребностей человека.

Задание 5 (○ - выберите один вариант ответа)

Чем всегда обусловлена необходимость выбора общества между потреблением и накоплением?

- а) необходимостью развития ресурсной базы экономики;
- б) стремлением общества к социальной стабильности;
- в) необходимостью построения эффективной рыночной экономики;
- г) потребностью экономического развития.

Задание 6 (○ - выберите один вариант ответа)

Каковы основные вопросы выбора в любой хозяйственной системе?

- а) какими ресурсами, для кого и по какой цене производить;
- б) как организовать совместную деятельность людей при производстве благ;
- в) что, как и для кого производить;
- г) как организовать согласование всех интересов производителей и потребителей.

Задание 7 (○ - выберите один вариант ответа)

Какой вид издержек не относится к числу транзакционных?

- а) затраты на уплату налогов;
- б) затраты на заключение хозяйственных договоров;
- в) издержки на защиту прав собственности;
- г) затраты на поиск информации.

Задание 8 (○ - выберите один вариант ответа)

Каково более точное определение экономической категории «хозяйственная система»?

- а) способ, которым общество производит валовой продукт;
- б) отношения между производителями и потребителями материальных благ;
- в) особым способом упорядоченная система связи между производителями и потребителями материальных и нематериальных благ;
- г) совокупность средств и предметов труда, а также рабочей силы.

Задание 9 (○ - выберите один вариант ответа)

Каким способом происходит координация выбора в рыночной экономике совершенной конкуренции?

- а) иерархическим;
- б) путем решений производителя благ;
- в) стихийным;
- г) через деятельность государства.

Задание 10 (○ - выберите один вариант ответа)

В чем суть категории «альтернативная стоимость»?

- а) в ином методе измерения затрат на производство товара;
- б) в определении общей стоимости блага;
- в) альтернативная стоимость – это более полный учет всех составляющих ее величин;

г) альтернативная стоимость блага – это количество другого (или других) блага, от производства которого нужно отказаться.

II Верны ли утверждения?

1 В результате общественного производства основными этапами движения валового национального продукта являются производство, распределение, обмен и потребление.

2 Обмен как важнейшее явление экономической жизни общества возможен вследствие постоянного освоения новых видов ресурсов.

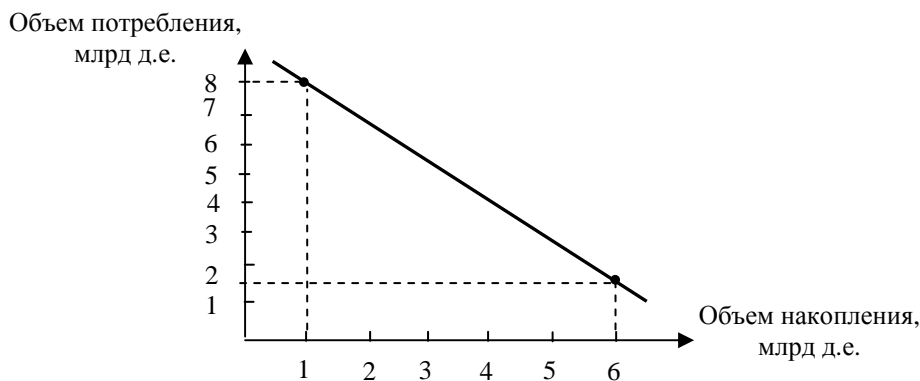
3 Сравнение кривых производственных возможностей нескольких стран может показать их сравнительную экономическую мощь.

4 Если точка реального производства находится на графике внутри кривой производственных возможностей, это говорит о недостатках рыночного механизма.

5 Если на какое-то время уменьшить текущее потребление благ и увеличить размеры накопления, то в дальнейшем можно будет перейти на более высокую кривую трансформации.

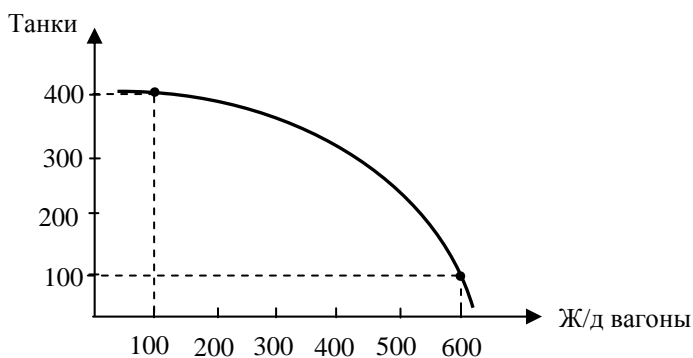
III Задачи

1 Кривая производственных возможностей государства представлена следующим образом.



Уровень потребления составляет 8 млрд д.е. Для обеспечения высоких темпов роста экономики в пределах 10% в год необходимо увеличить объем накопления в три раза. Рассчитайте, на сколько уровень потребления в этом случае уменьшится.

2 Производственные возможности предприятия описаны следующей кривой.



Предприятие согласно военному государственному заказу поставляет Министерству обороны 200 танков в год. На следующий год государство заказало 300 танков. Какова будет альтернативная стоимость дополнительной поставки военной техники для данного предприятия?

IV Задания на развитие экономического мышления

1 Объясните, почему в экономике всегда существует проблема технологического выбора.

2 Почему сравнение кривых производственных возможностей позволяет судить об экономической мощи государств?

3 В чем состоит важность исследования производственных возможностей предприятия для его успешной работы на рынке?

4 Как применяется категория альтернативной стоимости для формирования рыночной политики предприятия?

V Вопросы для самоконтроля

1 Что такое производство?

2 Каковы основные факторы производства?

3 Какие стадии проходит в своем движении валовой национальный продукт?

4 Почему процесс создания ВВП обязательно проходит стадию обмена?

5 Что такое технологический выбор в экономике?

6 Что характеризует кривая производственных возможностей?

7 Между какими видами возможностей всегда должно выбирать общество с целью достижения высоких темпов экономического роста?

8 Что такое альтернативная стоимость?

VI Основные понятия

производство

факторы производства

ресурсы

ограниченность (редкость)

потребность

блага

богатство

обмен

распределение

потребление

технологический выбор

кривая трансформации

альтернативная стоимость

Вариант Б

I Тестовые задания

Задание 1 (○ - выберите один вариант ответа)

Какие основные факторы производства взаимодействуют в экономической сфере?

- а) технология, средства производства, люди, государство;
- б) труд, капитал, земля, предпринимательство;
- в) капитал, деньги, рабочая сила;
- г) сырье, материалы, орудия труда.

Задание 2 (○ - выберите один вариант ответа)

Что понимается под категорией «ресурсы» в экономике?

- а) капитал и земля;
- б) активы для производства товаров;
- в) производственные блага, созданные природой или людьми, необходимые для создания конечных товаров и услуг;
- г) совокупность товаров и технологий, созданных человеком.

Задание 3 (○ - выберите один вариант ответа)

Что такое производственные блага?

- а) материальные блага, полученные в результате производства;
- б) ресурсы, используемые в процессе производства;
- в) товары, используемые в процессе изготовления и обмена продукции;
- г) все, что создано людьми для организации производства.

Задание 4 (○ - выберите один вариант ответа)

Какова основная цель технологического выбора в экономике?

- а) преодоление ограниченности ресурсов;
- б) наиболее эффективное использование имеющихся ресурсов;
- в) преодоление негативных тенденций в экономике;
- г) оценка производства материальных благ.

Задание 5 (□ – выберите варианты ответов)

Что в экономической теории показывает кривая трансформации?

- а) значение альтернативного использования имеющихся ресурсов;
- б) границы производственных возможностей;
- в) направление экономического развития общества;
- г) модель состояния рыночной экономики.

Задание 6 (○ - выберите один вариант ответа)

Как будет изменяться кривая трансформации при увеличении реального ВВП в национальной экономике?

- а) вверх;
- б) вверх и влево;
- в) вправо и вверх;
- г) не изменится.

Задание 7 (□ – выберите варианты ответов)

Каково содержание категории «альтернативная стоимость»?

- а) стоимость использованных ресурсов;
- б) издержки упущенных возможностей, т.е. количество другого блага, от производства которого нужно отказаться;
- в) метод измерения цены блага;
- г) совокупность ресурсов, применяемых в производстве.

Задание 8 (○ - выберите один вариант ответа)

Каким образом происходит координация выбора в рыночной экономике?

- а) главным образом в стихийном порядке;
- б) путем сравнения альтернативных издержек;
- в) путем приказов и поручений, идущих сверху вниз;
- г) согласно экономической политике государства.

Задание 9 (○ - выберите один вариант ответа)

С какой целью можно сравнивать кривые производственных возможностей нескольких государств?

- а) для обоснования целей внешней торговли;
- б) для сравнения уровня экономического развития;
- в) для определения государственных мероприятий в регулировании рынка;
- г) для оценки результатов деятельности фирм.

Задание 10 (○ - выберите один вариант ответа)

Какие стадии в общественном производстве проходит валовой национальный продукт?

- а) поиск ресурсов, их использование и реализация товаров;
- б) производство, обмен и распределение;
- в) планирование, производство и потребление;
- г) производство, распределение, обмен и потребление.

II Верны ли утверждения?

1 Для осуществления выбора в мире ограниченных ресурсов фирма должна решить три основных вопроса – что, как и для кого производить.

2 Производственные блага – это ресурсы, определяющие производственные возможности всей экономики.

3 Общественные блага – это блага, которые рынок не может предоставить вообще или в оптимальном количестве.

4 Увеличение потребления в обществе всегда происходит за счет снижения накопления.

5 Если модель кривой трансформации сдвигается вниз и влево, то динамика экономического роста отрицательная.

III Задачи

1 Поступив в университет, студент мог бы работать в фирме у знакомого с зарплатой 14 тыс. р. в месяц. Оплата обучения – 50 тыс. р. в год. При этом студент за хорошую учебу получает стипендию 1 тыс. р. в месяц. Чему равна альтернативная стоимость выбора в первый год обучения?

2 Организация строит магазин для дальнейшей реализации его крупной сетевой фирме. Планируется затратить 10 млн р. за один год и продать магазин за 12 млн р. Стоит ли заканчивать строительство, если банки подняли ставки по депозитам с 7% до 15%?

IV Задания на развитие экономического мышления

1 Назовите, какие основные вопросы решает экономика при любой экономической системе?

2 Почему проблема выбора всегда стоит перед фирмой или обществом?

3 Почему выбор между потреблением и накоплением всегда определяет экономический рост?

4 Чем принципиально отличаются производственные и потребительские блага?

5 Что значит неэкономические блага?

6 Что означает ситуация, когда точка производства находится внутри кривой производственных возможностей?

V Вопросы для самоконтроля

- 1 Что такое альтернативная стоимость?
- 2 Зачем необходимо определять частные и общественные блага?
- 3 Каковы основные факторы производства?
- 4 Что такое накопления в общественном производстве?
- 5 В каких экономических системах преобладает иерархия в координации выбора?
- 6 Что такое трансакционные издержки?
- 7 Почему кривая трансформации считается частью общественного производства?
- 8 Почему потребление считается частью общественного производства?

VI Основные понятия

производство
ограниченность ресурсов
факторы производства
благо
потребности
обмен
распределение
кривая трансформации
альтернативная стоимость
спонтанный порядок
трансакционные издержки
иерархия

Вариант В

I Тестовые задания

Задание 1 (○ - выберите один вариант ответа)

Что понимается под категорией «экономические блага»?

- а) предметы потребления, произведенные в рыночной экономике;
- б) часть благ, которые удовлетворяют основные потребности человеческого общества;
- в) средства удовлетворения человеческих потребностей, доступные людям в меньшем объеме, чем объем этих потребностей;
- г) все основные жизненные блага.

Задание 2 (○ - выберите один вариант ответа)

Что такое производительность с точки зрения экономической теории?

- а) общая способность людей к производству материальных благ;
- б) объем благ, который удастся получить от использования единицы определенного вида ресурсов в течение фиксированного времени;
- в) экономический процесс увеличения стоимости в результате углубления разделения труда;
- г) принятый в экономической науке подход к определению эффективности человеческой деятельности.

Задание 3 (○ - выберите один вариант ответа)

Какое из определений дает полное понимание категории «фактор производства»?

- а) блага производственного назначения, необходимые для создания конечных товаров и услуг;
- б) капитал и труд, объединенные производственным процессом;
- в) все, что использует человек для достижения целей в условиях рынка;
- г) совокупность труда, средств производства и земли.

Задание 4 (○ - выберите один вариант ответа)

Что такое кривая производственных возможностей (кривая трансформации)?

- а) расчеты максимально достигнутого уровня экономического развития;
- б) способ изучения рынка в сфере использования ресурсов производства;
- в) абстрактная модель, показывающая альтернативные возможности использования ресурсов для достижения максимального результата;
- г) метод оценки ресурсного обеспечения производственного процесса.

Задание 5 (○ - выберите один вариант ответа)

Как изменится кривая производственных возможностей в результате роста накопления и новых технических открытий?

- а) останется на одном и том же месте, поскольку это не добавит ресурсов в экономике;
- б) сдвинется вправо и вверх;
- в) сдвинется влево;
- г) не изменится.

Задание 6 (○ - выберите один вариант ответа)

Каким образом происходит координация выбора в условиях классического рынка?

- а) на основании экономических решений государства;
- б) в основном в стихийном порядке;
- в) путем сознательного экономического выбора объектов народного хозяйства;
- г) методом использования кривой производственных возможностей.

Задание 7 (○ - выберите один вариант ответа)

Какой экономический выбор наиболее существенно влияет на хозяйственный рост?

- а) между использованием ресурсов различной эффективности;
- б) между основными секторами национальной экономики;
- в) между инфляцией и безработицей;
- г) между потреблением и накоплением.

Задание 8 (○ - выберите один вариант ответа)

Почему издержки упущенных возможностей будут непременно возрастать при переключении одних видов производства на другие?

- а) переключение ресурсов из одного производства на другое возможно только в исключительных случаях;
- б) ресурсы не обладают полной взаимозаменяемостью, поэтому процесс их переключения на другое производство по мере его роста будет дороже;
- в) издержки всегда имеют тенденцию к росту по мере ускорения развития экономики;
- г) на издержки упущенных возможностей наибольшее воздействие оказывает инфляция.

Задание 9 (○ - выберите один вариант ответа)

К какому типу потребления можно отнести приобретение и использование технологического оборудования?

- а) личному;
- б) общественному;
- в) общественно-производственному;
- г) производственному.

Задание 10 (○ - выберите один вариант ответа)

Можно ли говорить о наличии в национальной экономике высокого уровня безработицы, если точка производства находится внутри кривой производственных возможностей?

- а) можно;
- б) безработица характеризуется совершенно иными показателями;
- в) нельзя;
- г) можно, но только в условиях несовершенной конкуренции.

II Верны ли утверждения?

1 Если темпы роста накопления превышают темпы роста потребления, то национальная экономика будет расти большими темпами (интенсивно).

2 Процесс общественного потребления, направленный в интересах всего государства, есть инвестиции.

3 Рыночный механизм в стихийном порядке производит выбор в экономике с целью наиболее экономически эффективного использования ресурсов.

4 Издержки упущенных возможностей какого-либо блага – это количество других благ, от производства которых нужно отказаться.

5 Распределение как категория экономической науки – это распределение предметов потребления согласно доходам домохозяйств.

III Задачи

1 Поехав отдыхать на море, человек затратил 50 тыс. р. Вместе с тем, ему предлагали поработать во время отпуска. Оплата за работу составила бы 35 тыс. р. Кроме того, банки выплачивают по краткосрочным депозитам не менее 24% годовых с выдачей процентов ежемесячно. Какова альтернативная стоимость отдыха за месяц?

2 Вы положили в банк 100 тыс. р. по депозитному договору. Банк выплачивает по депозиту 18% годовых. Через полгода у вас появилась возможность вложить деньги в производство, которое вам принесет в первые полгода 15 тыс. р. чистой прибыли. Стоит ли инвестировать деньги в новое дело, если банк оплачивает проценты только за год?

IV Задания на развитие экономического мышления

1 Чем принципиально отличаются личные и общественные блага?

2 Назовите основные вопросы, решаемые экономикой при любой экономической системе.

3 Почему понятие альтернативной стоимости является важным при осуществлении экономического выбора?

4 О чем с точки зрения экономического выбора говорит явление милитаризации народного хозяйства?

5 При каких условиях производство увеличивается, а потребление сокращается?

6 Что означает ситуация, когда кривая производственных возможностей перемещается вправо и вверх?

V Вопросы для самоконтроля

1 Что такое альтернативная стоимость?

2 Каковы основные факторы производства?

3 С какой целью определяются общественные блага?

4 Что такое трансакционные издержки?

5 Что означает процесс производственного накопления?

6 Почему потребление можно считать частью общественного производства?

7 В какой экономической системе преобладает стихийный характер в координации экономического выбора?

8 Какие ресурсы используются в общественном производстве?

VI Основные понятия

производство

ограниченность ресурсов

факторы производства

благо

потребности

обмен

распределение

кривая трансформации

альтернативная стоимость

спонтанный порядок

трансакционные издержки

иерархия

Тема 5

Спрос и предложение в механизме рынка

Вариант А

I Тестовые задания

Задание 1 (○ – выберите один вариант ответа)

Если значение коэффициента эластичности спроса по цене больше единицы, то спрос...

а) относительно эластичен;

- б) относительно неэластичен;
- в) абсолютно эластичен;
- г) абсолютно неэластичен.

Задание 2 (☐ – выберите варианты ответов)

К «нормальным» товарам относятся...

- а) ботинки из кожзаменителя;
- б) зубная паста;
- в) говядина;
- г) норковая шуба.

Задание 3 (○ – выберите один вариант ответа)

Смещение кривой спроса на графике влево вниз означает, что...

- а) увеличился объём спроса;
- б) спрос сократился;
- в) уменьшился объём спроса;
- г) спрос возрос.

Задание 4 (○ – выберите один вариант ответа)

Рост спроса на товар из соображений престижа, даже несмотря на его удорожание, называется эффектом...

- а) сноба;
- б) Гиффена;
- в) Веблена;
- г) Вальраса.

Задание 5 (☐ – выберите варианты ответов)

Рыночная цена при прочих равных условиях возрастёт, если на рынке данного товара...

- а) количество продавцов сократится, а количество покупателей останется неизменным;
- б) количество продавцов увеличится, а количество покупателей останется неизменным;
- в) количество покупателей уменьшится, а количество продавцов останется неизменным;
- г) количество покупателей возрастёт, а количество продавцов останется неизменным.

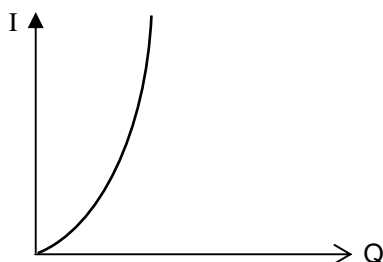
Задание 6 (○ – выберите один вариант ответа)

Эффект, демонстрирующий взаимосвязь между относительными ценами товаров и объёмом спроса покупателей на эти товары, называется...

- а) эффектом дохода;
- б) эффектом присоединения к большинству;
- в) эффектом замещения;
- г) эффектом ожидаемых цен.

Задание 7 (○ – выберите один вариант ответа)

На графике приведена кривая Энгеля для...



- а) товаров первой необходимости;
- б) предметов роскоши;
- в) товаров низшей категории;
- г) товаров второй необходимости.

Задание 8 (□ – выберите варианты ответов)

Выберите пары комплементарных товаров.

- а) ржаной хлеб - пшеничный хлеб;
- б) системный блок компьютера - монитор;
- в) автомобиль - бензин;
- г) молоко - гвозди.

Задание 9 (○ – выберите один вариант ответа)

Административно верхний предел цены товара был установлен на уровне более низком, чем равновесное значение рыночной цены данного товара. В результате...

- а) возник избыток товара;
- б) рынок никак не отреагировал на подобное действие;
- в) объём предложения товара возрос;
- г) на рынке образовался дефицит товара.

Задание 10 (○ – выберите один вариант ответа)

Резервной ценой называется...

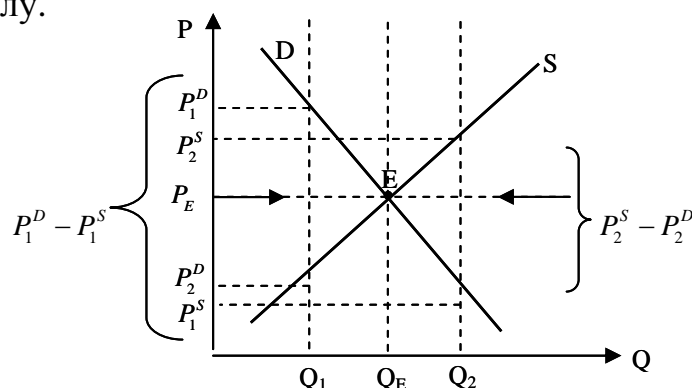
- а) цена товара на складе;

- б) минимальная цена товара, по которой продавец согласился бы продать свой товар;
- в) максимальная цена, которую данный покупатель согласился бы заплатить за единицу товара;
- г) цена еще не произведенного товара.

II Верны ли утверждения?

1 Закон спроса утверждает, что если цена товара возрастает, то объём спроса на данный товар при прочих равных условиях будет уменьшаться.

2 На графике отображен механизм установления рыночного равновесия по А. Маршаллу.



3 Кривая спроса на «товар Гиффена» имеет положительный наклон.

4 Изменению объема спроса способствуют неценовые факторы спроса.

5 Если возрастает цена на один из товаров субститутов, то падает спрос на другой товар из этой пары.

III Задачи

1 Функция спроса задана уравнением $Q_d = 200 - 5P$, а функция предложения имеет вид $Q_s = -10 + P$. Определите равновесную цену и равновесное количество товара.

2 Функция спроса на хлеб имеет вид: $Q_D = 10 + 0,5I - 30P_1 + 2P_2$, где I – доход покупателя,

P_1 – цена хлеба,

P_2 – цена макарон.

Определите:

- 1) функцию спроса на хлеб при доходе 1000 р. и цене макарон 30 р.;
- 2) цену, при которой спрос на хлеб будет равен нулю.

3 Объём спроса на товар A возрос с 20 шт. до 40 шт., при этом цена товара B увеличилась с 30 р. до 90 р. Рассчитайте коэффициент перекрестной эластичности спроса товара A по цене товара B . Определите, являются ли товары A и B по отношению друг к другу взаимодополняющими, взаимозаменяемыми или же независимыми.

4 При доходе в 80 р. потребление товара A составляет 10 шт., а потребление товара B - 20 шт. При доходе в 160 р. потребление товара A составляет 5 шт., а потребление товара B - 50 шт. Подсчитайте эластичность по доходу каждого товара. Определите, к какой категории относится каждый из этих товаров: к низшей или к нормальной. Если товар относится к нормальной категории, то к какой конкретной разновидности нормальных товаров?

5 Цена товара возросла на 10%, а объём спроса упал на 4%. Вычислите значение коэффициента ценовой эластичности спроса данного товара. Сделайте вывод, к какому варианту эластичности спроса по цене относится данный товар.

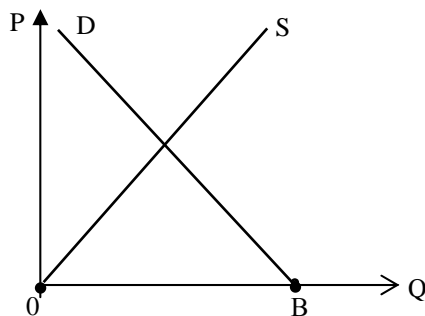
IV Задания на развитие экономического мышления

- 1 Русский Ваня покупая
Виноградное вино,
Прежде чем: «Цена какая?»
Спросит: «Крепкое оно?»

Львов В.И. (1998г.)

О каком варианте ценовой эластичности спроса идет речь в данном стихотворении? Обоснуйте свой ответ.

2 На рисунке отображен хорошо вам известный график взаимодействия рыночного спроса и предложения. По вашему мнению, величину чего на оси абсцисс показывает отрезок OB ? Будет ли ситуация в точке B рыночной или нерыночной? Обоснуйте свой ответ.



V Вопросы для самоконтроля

- 1 В чем суть закона спроса?
- 2 В чем суть закона предложения?
- 3 Что влияет на изменение объёма спроса?
- 4 Что влияет на изменение объёма предложения?
- 5 Что влияет на изменение самого спроса?
- 6 Что влияет на изменение самого предложения?
- 7 Что подразумевается под понятием «равновесная рыночная цена»?
- 8 Что подразумевается под понятием «равновесное количество товара»?

9 Что произойдет на рынке, если уровень рыночной цены превысит своё равновесное значение?

10 Что произойдет на рынке, если уровень рыночной цены окажется ниже своего равновесного значения?

11 В чем суть эффекта замещения?

12 В чем суть эффекта дохода?

13 В чем суть эффекта сноба?

14 В чем суть эффекта Веблена?

15 В чем суть эффекта присоединения к большинству?

16 В чем суть эффекта ожидаемых цен?

17 Какие товары называются комплементарными?

18 Какие товары называются субститутами?

19 Какие товары называются «независимыми»?

20 В чем суть «парадокса Гиффена»?

21 Как найти коэффициент ценовой эластичности спроса?

22 Как найти коэффициент ценовой эластичности предложения?

23 Какие существуют варианты ценовой эластичности спроса?

24 Какие существуют варианты ценовой эластичности предложения?

25 Как определить перекрёстную эластичность одного товара по цене другого?

26 Как определить эластичность спроса по доходу?

27 Какие существуют варианты эластичности спроса по доходу?

28 Функциональную зависимость между какими переменными показывают на графике кривые Энгеля?

V Основные понятия

рыночный спрос

величина (объём) спроса

функция спроса

кривая спроса

закон спроса

парадоксы закона спроса

рыночное предложение

величина (объём) предложения

функция предложения

кривая предложения

закон предложения

рыночное равновесие

равновесная рыночная цена

равновесное количество товара

товарный дефицит

товарный переизбыток

ценовая эластичность спроса

варианты ценовой эластичности спроса

ценовая эластичность предложения
варианты ценовой эластичности предложения
перекрестная эластичность
эластичность спроса по доходу
варианты эластичности спроса по доходу
кривые Энгеля

Вариант Б

I Тестовые задания

Задание 1 (○ – выберите один вариант ответа)

Если значение коэффициента эластичности спроса по цене меньше единицы, то спрос...

- а) относительно эластичен;
- б) относительно неэластичен;
- в) абсолютно эластичен;
- г) абсолютно неэластичен.

Задание 2 (□ – выберите варианты ответов)

К товарам первой необходимости относятся...

- а) куртка из натуральной кожи;
- б) мыло;
- в) зубная щётка;
- г) бриллиантовое кольцо.

Задание 3 (○ – выберите один вариант ответа)

Рост спроса при неизменном предложении приведёт...

- а) к увеличению равновесной цены и равновесного количества товара;
- б) к сокращению равновесной цены и равновесного количества товара;
- в) к увеличению равновесной цены и сокращению равновесного количества товара;
- г) к снижению равновесной цены и увеличению равновесного количества товара;

Задание 4 (○ – выберите один вариант ответа)

Изменение спроса одной группы людей из-за того, что другая группа потребляет данный товар, называется эффектом...

- а) сноба;
- б) Гиффена;
- в) Веблена;
- г) Вальраса.

Задание 5 (□ – выберите варианты ответов)

Выберите пары комплементарных товаров.

- а) батарейка и электронные часы;
- б) нитки и иголка;
- в) малярная кисть и банка масляной краски;
- г) коньяк и сигары.

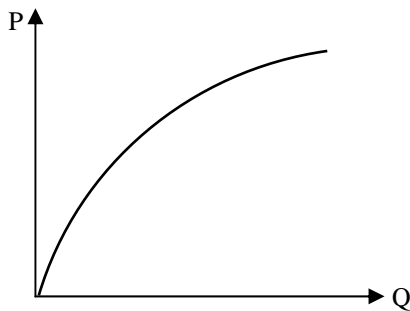
Задание 6 (○ – выберите один вариант ответа)

Рыночное предложение товара в краткосрочном периоде по сравнению с долгосрочным в целом...

- а) менее эластично;
- б) более эластично;
- в) фактор времени не влияет на степень эластичности предложения;

Задание 7 (○ – выберите один вариант ответа)

На графике приведена кривая Энгеля для...



- а) товаров первой необходимости;
- б) предметов роскоши;
- в) товаров низшей категории;
- г) товаров второй необходимости.

Задание 8 (□ – выберите варианты ответов)

Выберите пары товаров-субститутов.

- а) зажигалка и спички;
- б) лопата и черенок для нее;
- в) гелиевая и шариковая ручки для письма;
- г) гаечный ключ и молоток.

Задание 9 (○ – выберите один вариант ответа)

Из потребителей менее всего от товарного дефицита страдают...

- а) пенсионеры;
- б) рабочие и служащие;
- в) дети;
- г) налогоплательщики.

Задание 10 (○ – выберите один вариант ответа)

Существует обратная зависимость между...

- а) количеством морозных дней зимой и продажей валенок;
- б) ценой ювелирного изделия и степенью известности ювелира, его создавшего;
- в) величиной дохода потребителей и их спросом на «нормальные» товары;
- г) все ответы неверны.

II Верны ли утверждения?

- 1 Закон спроса утверждает, что если цена товара снижается, то при прочих равных условиях объём спроса на данный товар будет уменьшаться.
- 2 Дефицит товара вызывает сокращение неденежных затрат покупателей.
- 3 Спрос на товар при прочих равных условиях в долгосрочном периоде становится в целом более эластичным.
- 4 Если возрастает цена на один из комплементарных товаров, то увеличивается спрос на другой товар из этой пары.
- 5 Все прямые наклонные линии спроса с отрицательным наклоном имеют разную эластичность в разных точках.

III Задачи

1 Функция спроса задана уравнением $Q_d = 200 - 4P$, а функция предложения имеет вид $Q_s = 50 + P$. Определите равновесную цену и равновесное количество товара.

2 Фирма имеет кривую спроса на свою продукцию, заданную уравнением $Q_d = 200 - 0,5P$. Зная, что цена равна 100, определить, как изменится предельный доход фирмы при увеличении количества проданной продукции на 1 ед.

3 Функция спроса на товар A равна $Q^A_d = 4P_A - 5P_B$, а функция предложения товара A будет $Q^A_s = 3 + 2P_A + 0,5P_B$, где P_A и P_B – цены на товары A и B .

Определите, при каких ценах на товары A и B равновесный объём товара A будет равен 30.

4 Дана функция спроса товара A : $Q^A_d = -24P_A + 7P_B + 30$, где P_A и P_B – цены на товары A и B .

Если $P_A = 2$, а $P_B = 3$, то определите значение коэффициента перекрестной эластичности спроса на товар A , зная, что цена товара B возросла в 2 раза.

5 Коэффициент эластичности спроса по цене на капусту равен $-0,6$, при этом коэффициент эластичности спроса по доходу на этот же товар составляет $0,8$. В следующем году общий уровень цен остался прежним, но доход населения возрос на 4% , а цена капусты увеличилась на 5% . Определите, насколько изменилась величина спроса на капусту.

IV Задания на развитие экономического мышления

В лавке не зарься на первую зелень, но мимо не следуй,
Драхму возьми лишь одну, сможешь купить требуху.
Ныне и смокву за драхму возьмешь, а помедлить, их купишь
Тысячу. Для бедняков – время поистине бог.

Филодем (III в. до н. э.)

Проанализировав стихотворение, постройте (на одном и том же графике) примерные кривые спроса:

1) для случая, если немедленно приобрести товар;

2) для случая, если покупатель займет выжидательную позицию.

Отобразите кривую предложения (на том же графике), учитывая специфику товаров, о которых идет речь, и фактор времени.

2 Представьте себе, что в магазинах г. Кургана, торгующих сантехникой, ассортимент пополнился унитазами, отлитыми из чистого золота, богато украшенными резьбой и драгоценными камнями. Отобразите графически с помощью кривых спроса и предложения ситуацию, которая, по вашему мнению, будет иметь место в отношении данного товара.

V Вопросы для самоконтроля

1 В чем суть закона спроса?

2 В чем суть закона предложения?

3 Что влияет на изменение объема спроса?

4 Что влияет на изменение объема предложения?

5 Что влияет на изменение самого спроса?

6 Что влияет на изменение самого предложения?

7 Что подразумевается под понятием «равновесная рыночная цена»?

8 Что подразумевается под понятием «равновесное количество товара»?

9 Что произойдет на рынке, если уровень рыночной цены превысит своё равновесное значение?

10 Что произойдет на рынке, если уровень рыночной цены окажется ниже своего равновесного значения?

11 В чем суть эффекта замещения?

12 В чем суть эффекта дохода?

13 В чем суть эффекта сноба?

14 В чем суть эффекта Веблена?

15 В чем суть эффекта присоединения к большинству?

- 16 В чем суть эффекта ожидаемых цен?
- 17 Какие товары называются комплементарными?
- 18 Какие товары называются субститутами?
- 19 Какие товары называются «независимыми»?
- 20 В чем суть «парадокса Гиффена»?
- 21 Как найти коэффициент ценовой эластичности спроса?
- 22 Как найти коэффициент ценовой эластичности предложения?
- 23 Какие существуют варианты ценовой эластичности спроса?
- 24 Какие существуют варианты ценовой эластичности предложения?
- 25 Как определить перекрёстную эластичность одного товара по цене другого?
- 26 Как определить эластичность спроса по доходу?
- 27 Какие существуют варианты эластичности спроса по доходу?
- 28 Функциональную зависимость между какими переменными показывают на графике кривые Энгеля?

V Основные понятия

рыночный спрос
 величина (объём) спроса
 функция спроса
 кривая спроса
 закон спроса
 парадоксы закона спроса
 рыночное предложение
 величина (объём) предложения
 функция предложения
 кривая предложения
 закон предложения
 рыночное равновесие
 равновесная рыночная цена
 равновесное количество товара
 товарный дефицит
 товарный переизбыток
 ценовая эластичность спроса
 варианты ценовой эластичности спроса
 ценовая эластичность предложения
 варианты ценовой эластичности предложения
 перекрестная эластичность
 эластичность спроса по доходу
 варианты эластичности спроса по доходу
 кривые Энгеля

Вариант В

I Тестовые задания

Задание 1 (○ – выберите один вариант ответа)

Если значение коэффициента эластичности спроса по цене равно бесконечности, то спрос...

- а) относительно эластичен;
- б) относительно неэластичен;
- в) абсолютно эластичен;
- г) абсолютно неэластичен.

Задание 2 (□ – выберите варианты ответов)

К товарам первой необходимости не относятся...

- а) коробка шоколадных конфет;
- б) туалетная бумага;
- в) батон сырокопченой колбасы;
- г) подписка на журнал «Cosmopolitan».

Задание 3 (○ – выберите один вариант ответа)

Смещение кривой спроса на графике вправо вверх означает, что...

- а) увеличился объём спроса;
- б) спрос сократился;
- в) уменьшился объём спроса;
- г) спрос возрос.

Задание 4 (○ – выберите один вариант ответа)

Рост спроса на товар, даже несмотря на его удорожание, называется эффектом...

- а) сноба;
- б) Гиффена;
- в) Веблена;
- г) Вальраса.

Задание 5 (☐ – выберите варианты ответов)

Рыночная цена при прочих равных условиях снизится, если на рынке данного товара...

- а) количество продавцов сократится, а количество покупателей останется неизменным;
- б) количество продавцов увеличится, а количество покупателей останется неизменным;
- в) количество покупателей уменьшится, а количество продавцов останется неизменным;
- г) количество покупателей возрастет, а количество продавцов останется неизменным.

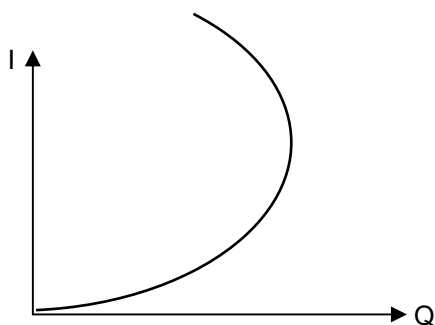
Задание 6 (○ – выберите один вариант ответа)

Ценовая эластичность спроса равна 0. Это означает, что...

- а) по данной цене можно продать любое количество товара;
- б) любое количество товара продается по любой цене;
- в) данное количество товара можно продать по любой цене;
- г) покупатели не допустят изменения объёма и цены товара.

Задание 7 (○ – выберите один вариант ответа)

На графике приведена кривая Энгеля для...



- а) товаров первой необходимости;
- б) предметов роскоши;
- в) товаров низшей категории;
- г) товаров второй необходимости.

Задание 8 (☐ – выберите варианты ответов)

Рыночная цена надолго может отклониться от своего равновесного уровня по причине...

- а) административного контроля;
- б) монополизма продавца;
- в) монополизма покупателя;
- г) появления на рынке некоторого дополнительно количества продавцов данного товара.

Задание 9 (○ – выберите один вариант ответа)

Что произойдет с кривой спроса на соковыжималки, если при прочих равных условиях заметно вырастут цены на фрукты?

- а) ничего;
- б) сдвинется влево вниз;
- в) сдвинется вправо вверх;
- г) изменит свой наклон.

Задание 10 (○ – выберите один вариант ответа)

Кривая предложения фирмы сдвинулась таким образом, что предложение товаров сократилось, а общий доход фирмы увеличился. Это возможно, если...

- а) предложение неэластично по цене;
- б) предложение эластично по цене;
- в) спрос эластичен по цене;
- г) спрос неэластичен по цене.

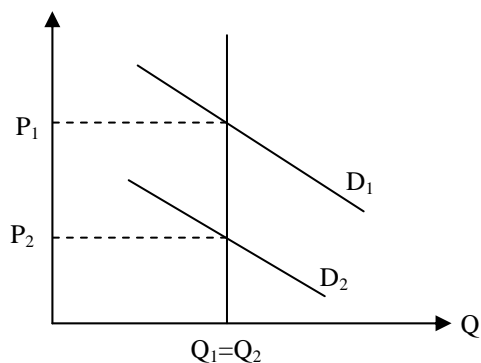
II Верны ли утверждения?

1 Реклама данного товара должна способствовать снижению эластичности спроса на него.

2 Закон предложения утверждает, что с ростом рыночной цены данного товара объём его предложения уменьшается.

3 Модель установления равновесной рыночной цены Л. Вальраса лучше подходит для долговременного периода.

4 Перед вами график установления мгновенного рыночного равновесия.



5 Если административно установленная цена товара окажется выше своего равновесного значения, то следствием будет возникновение дефицита этого товара.

III Задачи

1 Цена товара изменилась на 15%, величина предложения тоже изменилась, но всего лишь на 3%.

Определите:

1) коэффициент ценовой эластичности предложения;
2) к какому варианту ценовой эластичности предложения относится данный товар.

2 Кривая спроса имеет вид: $Q_d = 70 - 2P$, а кривая предложения: $Q_s = 10 + P$.

Государство ввело налог на потребителя данного товара в размере 9 р. за одну штуку.

Определите:

1) как изменились равновесные цена и объём;
2) валовой (общий) доход фирмы до и после введения налога;
3) доход государства от введения налога.

3 Кривая спроса имеет вид: $Q_d = 200 - 0,5P$, а кривая предложения: $Q_s = 2P - 50$.

Государство ввело субсидию в размере 10 р. на единицу товара. Определите:

1) первоначальную равновесную цену и равновесный объём производства;
2) равновесную цену и равновесный объём производства после введения субсидии.

4 Два потребителя имеют разные функции индивидуального спроса. Вася: $Q_d^B = 6 - P$; Аня: $Q_d^A = 15 - 3P$.

Определите суммарный рыночный спрос, если Вася и Аня являются единственными покупателями на данном рынке.

5 Спрос задан уравнением: $Q_d = 100 - 0,5P$.

Определите, при каких P спрос на товар эластичен, а при каких нет.

IV Задания на развитие экономического мышления

1 Дыни янтарная суть

И сочное чрево арбуза...

Я на базары ходок,

Хоть ни гроша за душой.

Пользуюсь правом одним –

Созерцать все плоды безвозмездно

И, не торгуясь, вдыхать

Все ароматы цветов.

Ю.И. Ореховацкий (1996 г.)

Проанализировав данное стихотворение, нарисуйте (где это возможно) примерные кривые предложения и спроса.

2 Представьте себе, что вы купили бутылку ледниковой питьевой воды, заплатив за нее определенную сумму денег... А теперь вообразите, что вы находитесь в горах непосредственно на этом самом леднике, у вас под ногами фактически та самая вода. Отобразите графически ситуацию со спросом и предложением воды в данной ситуации.

V Вопросы для самоконтроля

- 1 В чем суть закона спроса?
- 2 В чем суть закона предложения?
- 3 Что влияет на изменение объема спроса?
- 4 Что влияет на изменение объема предложения?
- 5 Что влияет на изменение самого спроса?
- 6 Что влияет на изменение самого предложения?
- 7 Что подразумевается под понятием «равновесная рыночная цена»?
- 8 Что подразумевается под понятием «равновесное количество товара»?
- 9 Что произойдет на рынке, если уровень рыночной цены превысит своё равновесное значение?
- 10 Что произойдет на рынке, если уровень рыночной цены окажется ниже своего равновесного значения?
- 11 В чем суть эффекта замещения?
- 12 В чем суть эффекта дохода?
- 13 В чем суть эффекта сноба?
- 14 В чем суть эффекта Веблена?
- 15 В чем суть эффекта присоединения к большинству?
- 16 В чем суть эффекта ожидаемых цен?
- 17 Какие товары называются комплементарными?
- 18 Какие товары называются субститутами?
- 19 Какие товары называются «независимыми»?
- 20 В чем суть «парадокса Гиффена»?
- 21 Как найти коэффициент ценовой эластичности спроса?
- 22 Как найти коэффициент ценовой эластичности предложения?
- 23 Какие существуют варианты ценовой эластичности спроса?
- 24 Какие существуют варианты ценовой эластичности предложения?
- 25 Как определить перекрёстную эластичность одного товара по цене другого?
- 26 Как определить эластичность спроса по доходу?
- 27 Какие существуют варианты эластичности спроса по доходу?
- 28 Функциональную зависимость между какими переменными показывают на графике кривые Энгеля?

V Основные понятия

рыночный спрос

величина (объём) спроса
функция спроса
кривая спроса
закон спроса
парадоксы закона спроса
рыночное предложение
величина (объём) предложения
функция предложения
кривая предложения
закон предложения
рыночное равновесие
равновесная рыночная цена
равновесное количество товара
товарный дефицит
товарный переизбыток
ценовая эластичность спроса
варианты ценовой эластичности спроса
ценовая эластичность предложения
варианты ценовой эластичности предложения
перекрестная эластичность
эластичность спроса по доходу
варианты эластичности спроса по доходу
кривые Энгеля

Вариант Г

I Тестовые задания

Задание 1 (○ – выберите один вариант ответа)

Если значение коэффициента эластичности спроса по цене равно нулю, то спрос...

- а) относительно эластичен;
- б) относительно неэластичен;
- в) абсолютно эластичен;
- г) абсолютно неэластичен.

Задание 2 (□ – выберите варианты ответов)

К низшим товарам не относятся...

- а) пылесос;
- б) пакет с лапшой быстрого приготовления;
- в) говядина;
- г) норковая шуба.

Задание 3 (○ – выберите один вариант ответа)

Если два товара являются взаимозаменяемыми, то коэффициент перекрестной эластичности спроса (E_C) будет равен:

- а) $E_C = 0$;
- б) $E_C > 0$;
- в) $E_C < 0$.

Задание 4 (□ – выберите варианты ответов)

Определите основные причины постепенного убывания спроса.

- а) снижение цен и увеличение дохода;
- б) стабильность цен и уменьшение дохода;
- в) стабильность цен и увеличение дохода;
- г) рост цен и уменьшение дохода;
- д) рост цен и увеличение дохода.

Задание 5 (□ – выберите варианты ответов)

К низшим товарам не относятся...

- а) авиационный керосин;
- б) туалетная бумага;
- в) говядина;
- г) норковая шуба.

Задание 6 (○ – выберите один вариант ответа)

При наличии множества недостатков у ценового механизма есть одно неоспоримое преимущество, которое выражается...

- а) в предоставлении личной свободы всем агентам рынка;
- б) в эффективном распределении ресурсов;
- в) в уравнительном распределении дохода;
- г) в стабильном развитии экономики.

Задание 7 (□ – выберите варианты ответов)

Рыночная цена надолго может отклониться от своего равновесного уровня по причине...

- а) административного контроля;
- б) монополизма продавца;
- в) монополизма покупателя.

Задание 8 (□ – выберите варианты ответов)

Выберите пары комплементарных товаров.

- а) SIM-карта и мобильный телефон;
- б) отвертка и шурупы;
- в) пиво и вяленая рыба;
- г) оправка для очков и линзы к ним.

Задание 9 (○ – выберите один вариант ответа)

Если спрос на товар X и предложение товара Y растут, то...

- а) равновесная цена товара X повышается;
- б) равновесная цена X понижается;
- в) равновесная цена X остается неизменной;
- г) ничего определенного сказать нельзя.

Задание 10 (○ – выберите один вариант ответа)

Если цена товара эластичного спроса выросла с трех до четырех рублей, то выручка...

- а) сократилась;
- б) выросла;
- в) осталась неизменной;
- г) абсолютно неэластична.

II Верны ли утверждения?

1 Эластичность спроса на товар увеличивается по мере роста числа товаров-субститутов.

2 Модель установления равновесной рыночной цены А. Маршалла лучше подходит для долгосрочного периода.

IV Задания на развитие экономического мышления

- 1 Что покупаешь за сто и за двести тысяч рабов ты,
Что попиваешь вино времени Нумы-царя,
Что обошлася в мильон тебе нероскошная утварь,
Что лишь на фунт серебра целых пять тысяч ушло,
Что золотая тебе повозка стоит поместья,
Что за мула платил больше, чем отдал за дом
Это, по-твоему, Квинт, обличает великую душу?
Нет! Доказательство, Квинт, это ничтожной души.

Марк Вергилий Марциал (40-104 гг. н.э.)

О каком эффекте (парадоксе) спроса идет речь в этой эпиграмме? Обоснуйте свой ответ.

2 Мы знаем цену каждому мгновенью,
Платить за всё придётся в срок.
Я как-то раз пробрался на Восток,
Там, между прочим, есть торговцы тенью.
Они располагаются под сенью
Больших деревьев около дорог,
А чаще в нишах. И за вход в мирок,
Наполненный прохладой и ленью,
Берут пятак. Заплатишь и лежишь...
- Не ешь кишмиш и не кури гашиш,
А тень купи! – торговец мне шептал.-
Но понимаешь: весь свой капитал
Отдашь ты за нее среди пустыни!

Л.Н. Мартынов (1972 г.)

О каком виде ценовой эластичности спроса на тень идет речь в данном стихотворении. Постройте соответствующую кривую спроса.

V Вопросы для самоконтроля

- 1 Почему спрос на факторы производства является производным и взаимозависимым?
- 2 В чем суть правил наименьших издержек и максимизации прибыли?
- 3 Кто является субъектами спроса и предложения на услуги труда?
- 4 Назовите основные особенности рынка труда.
- 5 В чем разница между понятиями «номинальная заработная плата» и «реальная заработная плата»?
- 6 Объясните наклон кривых спроса и предложения услуг труда.
- 7 Объясните форму кривой индивидуального предложения труда.
- 8 Перечислите причины дифференциации ставок заработной платы.
- 9 Дайте определение понятия «капитал».
- 10 Дайте определение понятия «амортизация основного капитала».
- 11 Объясните наклон кривых спроса и предложения на рынке услуг физического капитала и на рынке заёмных средств.
- 12 Чем является ставка процента на рынке заёмных средств?
- 13 В чём суть процедуры дисконтирования?
- 14 Что отличает фактор производства «земля» от других факторов производства?
- 15 Объясните форму кривой предложения земли.
- 16 Дайте определение понятия «дифференциальная земельная рента».

VI Основные понятия

производный и взаимозависимый спрос на факторы производства
предельная доходность и издержки ресурсов
оптимальное соотношение ресурсов
правила наименьших издержек и максимизации прибыли
субъекты спроса и предложение на услуги труда
ставка заработной платы
номинальная и реальная заработная плата
спрос на труд
предложение труда
индивидуальное предложение труда
дифференциация ставок заработной платы
неконкурирующие группы на рынке труда
компенсационные различия в заработной плате
капитал как фактор производства
физический капитал и капитальные активы
услуги капитала
основной и оборотный капитал
амортизация основного капитала
норма амортизации
окольные методы производства
чистая производительность капитала
уровень дохода на капитал
рентная оценка
минимально приемлемая рентная оценка
предельная альтернативная стоимость (издержки упущенных возможностей) капитала
временное предпочтение
предельная норма временного предпочтения
ставка процента (номинальная и реальная)
предельная доходность инвестиций
дисконтирование
сегодняшняя ценность
будущая ценность
чистая дисконтированная ценность
внутренняя норма дохода
межвременное бюджетное ограничение
земля как фактор производства
особенности рынка невозобновляемых ресурсов
производный спрос на землю
услуги земли
земельная рента
дифференциальная земельная рента
неэластичность предложения услуг земли
цена земли

Тема 6
Теория потребительского поведения

Вариант А

I Тестовые задания

Задание 1 (○ - выберите один вариант ответа)

Полезность – это...

- а) свойство блага приносить пользу потребителю;
- б) субъективная ценность, приписываемая благам людьми;
- в) обладание полезными элементами для здоровья человека;
- г) объективное свойство товаров, являющееся причиной их производства;
- д) верно а) и б).

Задание 2 (○ - выберите один вариант ответа)

Потребительский выбор – это...

- а) решение о распределении дохода с целью максимизации полезности;
- б) отношение к проводимой правительством экономической политике;
- в) выражение отношения потребителя к способу анализа своего поведения;
- г) соизмерение полезностей благ;
- д) выбор среди альтернативных источников доходов.

Задание 3 (○ - выберите один вариант ответа)

Закон предельной полезности утверждает, что...

- а) стремление потребителей к получению выгод не имеет предела;
- б) с ростом потребления одного из благ прирост полезности убывает с каждой дополнительно потребленной единицей;
- в) величина полученной в процессе потребления благ полезности убывает по мере изменения предпочтений потребителя;
- г) величина полученной потребителем полезности убывает по мере того, как в процессе потребления он выявляет действительную ценность благ;
- д) предел получения полезности определяется величиной дохода потребителя.

Задание 4 (○ - выберите один вариант ответа)

Кривые безразличия показывают...

- а) различные комбинации двух благ, имеющих одинаковую полезность;
- б) одинаковые по полезности потребительские наборы;
- в) эффективную замену одного блага другим;

- г) верно а) и б);
- д) все перечисленное верно.

Задание 5 (○ - выберите один вариант ответа)

Предельная норма замены одного блага другим – это...

- а) величина, показывающая предельную величину блага, которой потребитель готов жертвовать ради некоторой величины другого блага, сохранив при этом общий уровень полезности;
- б) величина, отражающая процентное отношение благ в наборе потребителя, который обеспечивает последнему максимизацию общей полезности;
- в) величина, указывающая потребителю на степень превышения выгоды от потребления одного блага в сравнении с другим благом при равенстве их цен;
- г) значение, показывающее предельные возможности замещения благ-субститутов;
- д) все перечисленное верно.

Задание 6 (○ - выберите один вариант ответа)

Если предельная норма замены одного блага другим равна 1/3 независимо от уровня потребления блага, то...

- а) эти блага абсолютно дополняют друг друга в потреблении;
- б) такие блага являются абсолютными субститутами;
- в) кривая безразличия для таких благ является вогнутой к началу координат;
- г) кривая безразличия для данных благ является выпуклой к началу координат;
- д) кривая безразличия для данных благ является положительно наклоненной.

Задание 7 (○ - выберите один вариант ответа)

Наклон бюджетной линии отражает...

- а) соотношение цен входящих в потребительский набор благ;
- б) границы возможного потребления благ при данных ценах благ;
- в) альтернативные издержки одного блага в виде некоторого количества другого блага;
- г) повышение предельной замены одного блага другим благом;
- д) верно а) и в).

Задание 8 (○ - выберите один вариант ответа)

Равновесие потребителя – это...

- а) потребительский набор, обеспечивающий максимальную полезность;
- б) нежелание потребителя изменять структуру потребляемого им набора благ;

- в) нежелание потребителя изменять структуру набора при росте цен благ;
- г) верно а) и б);
- д) верно б) и в).

Задание 9 (○ - выберите один вариант ответа)

Для благ первой необходимости линия «доход - потребление» будет иметь вид...

- а) горизонтальной прямой;
- б) вертикальной прямой;
- в) прямой с отрицательным наклоном;
- г) прямой с положительным наклоном;
- д) кривой с положительным наклоном.

Задание 10 (○ - выберите один вариант ответа)

Падение величины спроса на товар, происходящее под влиянием падения его цены, называется...

- а) эффектом дохода;
- б) парадоксом Гиффена;
- в) парадоксом Энгеля;
- г) эффектом замещения;
- д) парадоксом Маршалла.

II Верны ли утверждения?

- 1 Оптимальное правило покупки рационального потребителя состоит в том, что он покупает товар по наивысшей цене.
- 2 Общая полезность пропорциональна предельной полезности.
- 3 В кардиналистской теории полезности не учитывается ограниченность денег у покупателя.
- 4 Бюджетные линии никогда не пересекаются.
- 5 Кривая «цена-потребление» не показывает влияние цены на объем потребляемых благ.

III Задачи

1 Дана функция полезности $U = 2XY$, где X и Y – объемы благ. Цена благ: $P_X = 8$, $P_Y = 5$. Доход потребителя $I = 96$. Определите оптимальный набор потребителя (X^* ; Y^*) и величину общей полезности $TU(X^*; Y^*)$, получаемой потребителем при его потреблении.

2 Предположим, потребительский набор состоит из чая (X) и кофе (Y), а функция полезности потребителя имеет вид $U=8X+4Y$. При какой структуре набора потребитель окажется в состоянии равновесия (X^* ; Y^*), если выделяемые им на покупку данных благ еженедельные расходы равны 160 р. при цене за литр чая 20 р. и кофе 40 р.?

IV Вопросы для самоконтроля

- 1 Какие факторы определяют выбор потребителя в рыночной системе?
- 2 В каких случаях поведение потребителя следует считать рациональным?
- 3 Какие из основных постулатов теории потребительского поведения носят абсолютный, вечный характер, а какие – относительный, временный?
- 4 В чем состоит закон убывающей предельной полезности?
- 5 В чем принцип построения кривых безразличия?
- 6 Что такое бюджетная линия?
- 7 Как относятся эффект замещения и эффект дохода для разных категорий товаров: лучших, худших и Гиффена?
- 8 Чем определяются форма и месторасположение кривых безразличия? Почему кривые безразличия не пересекаются?
- 9 Всегда ли предельная норма замещения постоянна в рыночном обмене? В равновесии потребителя?
- 10 Какую зависимость отражают кривые Энгеля?

V Основные понятия

благо
набор (корзина) благ
потребительское множество
пространство благ
полезность
функция полезности
порядковая (ординалистическая) функция полезности
количественная (кардиналистическая) функция полезности
предельная полезность
совокупная полезность
принцип убывающей предельной полезности
предельная норма замещения
бюджетное ограничение
бюджетная линия
ценность
потребительский излишек
кривая безразличия
карта безразличия
суверенитет потребителя

свобода потребительского выбора
рациональность потребителя
задача потребительского выбора
оптимум (равновесие) потребителя
эквимаржинальный принцип
кривая Энгеля
кривая рыночного спроса
эффект замены
эффект дохода

Вариант Б

I Тестовые задания

Задание 1 (○ - выберите один вариант ответа)

В равновесии рациональный индивид потребляет 2 кг помидоров по цене 30 р. за 1 кг и 4 кг груш по цене 50 р. за 1 кг. Чему равна для него предельная норма замены груш помидорами?

- а) 2/4;
- б) 1/4;
- в) 30/50;
- г) 50/30.

Задание 2 (○ - выберите один вариант ответа)

Следующий товар является малоценным...

- а) шампанское;
- б) бумажные салфетки;
- в) прошлогодние газеты;
- г) путешествие в Альпы.

Задание 3 (○ - выберите один вариант ответа)

Бюджетное ограничение для потребителя представляет собой...

- а) линию общей полезности товара;
- б) линию предельной полезности товара;
- в) ограничение, налагаемое на выбор потребителя;
- г) линию максимального удовлетворения потребителя.

Задание 4 (○ - выберите один вариант ответа)

Если MU_X – предельная полезность хлеба, а MU_B – предельная полезность вина и P_X – цена батона хлеба, P_B – цена бутылки вина, то для рационального потребителя в состоянии равновесия будет верным следующее утверждение...

- а) $MU_X = MU_B$;
- б) $MU_X : MU_B = P_X : P_B$;
- в) $P_X = P_B$;
- г) $MU_X : MU_B = P_B : P_X$.

Задание 5 (○ - выберите один вариант ответа)

Коля покупает подарки родным на Новый год. Что из следующих утверждений описывает проблему его рационального выбора?

- а) он купит подарок тогда, когда предельная полезность подарка будет соответствовать его цене;
- б) он не обращает внимания на цену и руководствуется только своими предпочтениями;
- в) его бюджет ограничен, поэтому он обращает внимание только на цену подарка;
- г) Коля очень любит своих родных, поэтому принципы рационального выбора к нему не применимы.

Задание 6 (○ - выберите один вариант ответа)

Изменение цены товара вызывает...

- а) эффект замещения;
- б) эффект дохода;
- в) эффект Гиффена;
- г) верно а) и б).

Задание 7 (○ - выберите один вариант ответа)

Какие из следующих товаров будут характеризоваться наибольшей стабильностью предпочтений во времени?

- а) пицца;
- б) мясо;
- в) гамбургеры;
- г) «большой МАК» фирмы «МакДональдс».

Задание 8 (○ - выберите один вариант ответа)

Кардиналистская теория полезности отличается от ординалистской тем, что...

- а) не использует моделей;
- б) не рассматривает субъективных предпочтений;
- в) считает возможным количественное определение полезности;
- г) верно все перечисленное;
- д) верно а) и б).

Задание 9 (○ - выберите один вариант ответа)

Анализ поведения потребителя ведется с позиций предпосылки о существовании суверенитета потребителя, под которым понимается...

- а) частная собственность на доход;
- б) подчинение производства целям потребителей;
- в) право потребителя устанавливать рыночные цены;
- г) разобщенность потребителей;
- д) право потребителя вести себя нерационально.

Задание 10 (○ - выберите один вариант ответа)

Если действует аксиома транзитивности предпочтений, то кривые безразличия потребителя...

- а) не могут пересекаться;
- б) не могут быть вертикальными;
- в) не могут быть горизонтальными;
- г) могут иметь положительный наклон;
- д) верно б) и в).

II Верны ли утверждения?

1 Рациональный потребитель будет покупать разные товары по одинаковым ценам только тогда, когда полезность этих товаров тоже будет для него одинакова.

2 Чем более острым является угол наклона линии бюджетного ограничения к горизонтальной оси, тем более ограничен потребительский бюджет.

3 У рационального потребителя предельные полезности всех потребляемых им товаров равны.

4 Кривые безразличия двух товаров пересекаются в точке равновесия потребителя.

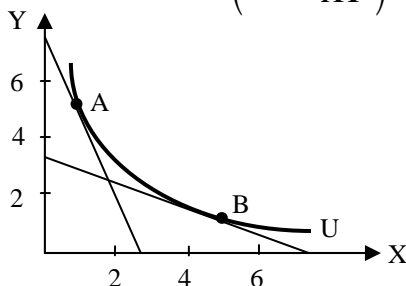
5 Маша максимизирует свое удовлетворение от потребления конфет и пирожных, когда она потребляет такое их количество, которое представлено точкой касания линии ее бюджетного ограничения и кривой безразличия.

III Задачи

1 Потребитель тратит 20 р. в день на апельсины и яблоки. Предельная полезность яблок для него равна $(20 - 3x)$, где x – количество яблок, в шт. Предельная полезность апельсинов равна $(40 - 5y)$, где y – количество апельсинов, в шт. Цена одного яблока составляет 1 р., цена одного апельсина - 5 р. Какое количество яблок и апельсинов купит рациональный потребитель?

2 Коля Петров пьет кофе (K) только с молоком (M). Причем в одной и той же пропорции, добавляя в чашку одну треть молока. Литр кофе стоит 50 р., а литр молока - 20 р. Определите функцию полезности (U) Коли, а также оптимальный набор (M^* ; K^*) и величину общей полезности такого набора $TU (M^*; K^*)$, если Коля расходует на кофе и молоко 240 р. в неделю?

3 Используя данные приведенного рисунка, определите предельную норму замещения благ X и Y в точке $A (MRS_{XY}^A)$ и в точке $B (MRS_{XY}^B)$.



IV Вопросы для самоконтроля

- 1 Какие факторы определяют выбор потребителя в рыночной системе?
- 2 В каких случаях поведение потребителя следует считать рациональным?
- 3 Какие из основных постулатов теории потребительского поведения носят абсолютный, вечный характер, а какие – относительный, временный?
- 4 В чем состоит закон убывающей предельной полезности?
- 5 В чем принцип построения кривых безразличия?
- 6 Что такое бюджетная линия?
- 7 Как соотносятся эффект замещения и эффект дохода для разных категорий товаров: лучших, худших и Гиффена?
- 8 Чем определяются форма и месторасположение кривых безразличия? Почему кривые безразличия не пересекаются?
- 9 Всегда ли предельная норма замещения постоянна в рыночном обмене? В равновесии потребителя?
- 10 Какую зависимость отражают кривые Энгеля?

V Основные понятия

благо
набор (корзина) благ
потребительское множество
пространство благ
полезность
функция полезности
порядковая (ординалистическая) функция полезности
количественная (кардиналистическая) функция полезности
предельная полезность
совокупная полезность
принцип убывающей предельной полезности
предельная норма замещения
бюджетное ограничение
бюджетная линия
ценность
потребительский излишек
кривая безразличия
карта безразличия
суверенитет потребителя
свобода потребительского выбора
рациональность потребителя
задача потребительского выбора
оптимум (равновесие) потребителя
эквимаржинальный принцип
кривая Энгеля
кривая рыночного спроса
эффект замены
эффект дохода

Вариант В

I Тестовые задания

Задание 1 (○ - выберите один вариант ответа)

Убывание нормы замены кривых безразличия непосредственно связано...

- а) с предположением о ненасыщаемости потребностей;
- б) с аксиомой транзитивности предпочтений потребителя;
- в) с предложением о выпуклости кривых безразличия;
- г) с аксиомой полной упорядоченности;
- д) верно б) и в).

Задание 2 (○ - выберите один вариант ответа)

Антиблаго – это...

- а) благо, не включенное в потребительский набор;
- б) благо, противостоящее другому благу при замещении;
- в) благо, потребление которого в наборе снижает общую полезность;
- г) благо, имеющее низкую предельную норму замещения другим благом;
- д) благо, потребление которого порицается обществом.

Задание 3 (○ - выберите один вариант ответа)

Неполноценным называется благо, которое...

- а) характеризуется низким уровнем потребительских свойств;
- б) наносит ущерб здоровью потребителя в случае его потребления;
- в) продается по ценам ниже рыночных;
- г) характеризуется убывающим спросом при росте дохода потребителя;
- д) верно а) и б).

Задание 4 (○ - выберите один вариант ответа)

Увеличение дохода потребителя графически выражается...

- а) в увеличении наклона бюджетной линии;
- б) в параллельном сдвиге бюджетной линии вверх;
- в) в сдвиге кривой безразличия вверх;
- г) в сдвиге кривой безразличия вправо;
- д) в смещении бюджетной линии влево вниз.

Задание 5 (○ - выберите один вариант ответа)

Если кривая «доход-потребление» имеет отрицательный наклон, то...

- а) товар, количество которого отмечается на горизонтальной оси, неполноценный;
- б) оба товара являются нормальными;
- в) оба товара являются неполноценными;
- г) ничто из перечисленного не соответствует условию;
- д) верно б) и в).

Задание 6 (○ - выберите один вариант ответа)

Когда цена товара увеличивается, эффект замещения означает...

- а) снижение потребления данного товара и увеличение потребления других товаров;

- б) повышение потребления данного товара и снижение потребления других товаров;
- в) снижение потребления данного товара и других товаров;
- г) снижение потребления данного товара и никаких изменений в потреблении других товаров.

Задание 7 (○ - выберите один вариант ответа)

Какой из следующих товаров покажет наибольший эффект дохода?

- а) алкогольные напитки;
- б) холодильники;
- в) бензин;
- г) жилье.

Задание 8 (○ - выберите один вариант ответа)

Какой из следующих товаров покажет наименьший эффект дохода?

- а) соль;
- б) мясо;
- в) картофель;
- г) клубника.

Задание 9 (○ - выберите один вариант ответа)

Если рациональный потребитель тратит 100 р. в день на мясо и 12 р. на хлеб, то...

- а) рубль, истраченный на последний килограмм мяса, приносит столько же полезности, что и рубль, истраченный на последний килограмм хлеба;
- б) потребитель предпочитает мясо, а не хлеб;
- в) мясо приносит потребителю большую полезность, чем хлеб;
- г) предельная полезность мяса выше предельной полезности хлеба.

Задание 10 (○ - выберите один вариант ответа)

Предельная полезность товара А равна 100. Цена товара А составляет 10, цена товара В - 5. Предельная полезность товара В в равновесии равна...

- а) 1/2;
- б) 20;
- в) 50;
- г) 10.

II Верны ли утверждения?

1 Предельная полезность времени для рационального потребителя не зависит от затрат времени на стояние в очередях.

2 Эффект дохода состоит в том, что в результате изменения цены потребитель становится относительно богаче.

3 Эффект замещения состоит в том, что в результате изменения цены потребитель изменяет структуру потребления.

4 Товар Гиффена всегда является малоценным товаром.

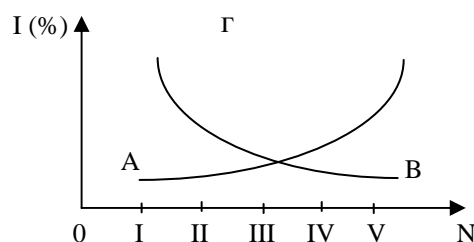
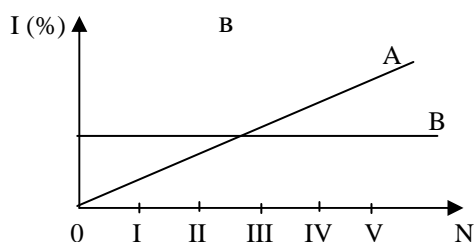
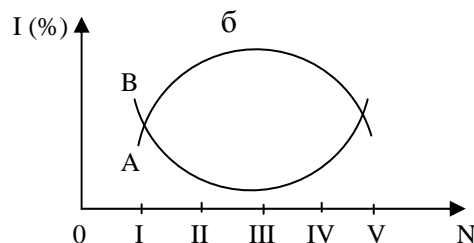
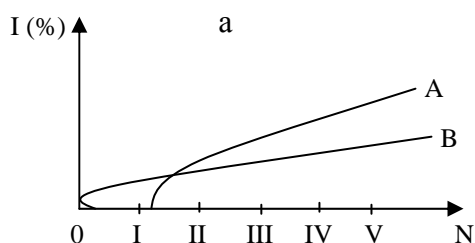
5 Если A и B – совершенные товары-субституты, то их предельная норма замены постоянна.

III Задачи

1 Допустим, имеются два блага X и Y , которые рассматриваются потребителем как совершенные субституты. Однако предпочтения потребителя таковы, что благо Y обменивается на благо X в пропорции 3:1. Доход потребителя равен 360 р. Цены благ: $P_X = 60$ р., $P_Y = 40$ р. Определите оптимальный выбор потребителя (X^* ; Y^*).

2 Владимир Иванович считает, что ему одинаково полезно еженедельно выпивать как 8 стаканов молока и 3 стакана кефира, так и 6 стаканов молока и 4 стакана кефира. В этом случае его предельная норма замены кефира молоком равна...

3 Какой из графиков правильно показывает спрос на товары различных групп населения? По вертикали отложена доля различных потребительских благ в потребительских бюджетах, по горизонтали – различные по уровню доходов группы населения (группа I – самые бедные, группа V – самые богатые); A – высококачественные товары и услуги, B – низкокачественные.



IV Вопросы для самоконтроля

1 Какие факторы определяют выбор потребителя в рыночной системе?

2 В каких случаях поведение потребителя следует считать рациональным?

- 3 Какие из основных постулатов теории потребительского поведения носят абсолютный, вечный характер, а какие – относительный, временный?
- 4 В чем состоит закон убывающей предельной полезности?
- 5 В чем принцип построения кривых безразличия?
- 6 Что такое бюджетная линия?
- 7 Как соотносятся эффект замещения и эффект дохода для разных категорий товаров: лучших, худших и Гиффена?
- 8 Чем определяются форма и месторасположение кривых безразличия? Почему кривые безразличия не пересекаются?
- 9 Всегда ли предельная норма замещения постоянна в рыночном обмене? В равновесии потребителя?
- 10 Какую зависимость отражают кривые Энгеля?

V Основные понятия

благо
набор (корзина) благ
потребительское множество
пространство благ
полезность
функция полезности
порядковая (ординалистическая) функция полезности
количественная (кардиналистическая) функция полезности
предельная полезность
совокупная полезность
принцип убывающей предельной полезности
предельная норма замещения
бюджетное ограничение
бюджетная линия
ценность
потребительский излишек
кривая безразличия
карта безразличия
суверенитет потребителя
свобода потребительского выбора
рациональность потребителя
задача потребительского выбора
оптимум (равновесие) потребителя
эквимаржинальный принцип
кривая Энгеля
кривая рыночного спроса
эффект замены
эффект дохода

Вариант Г

I Тестовые задания

Задание 1 (○ - выберите один вариант ответа)

Какое из представленных ниже определений правильно отражает содержание понятия «бюджетная линия»?

- а) линия, определяющая границы потребительского выбора;
- б) линия, показывающая все наборы благ, которые потребитель может купить;
- в) линия, отражающая величину расходов при насыщении потребителя в благе;
- г) линия, отражающая расходы производителей данного блага;
- д) верно а) и б).

Задание 2 (○ - выберите один вариант ответа)

Если одно из входящих в потребительский набор благ является нейтральным, то это означает, что в равновесном для потребителя наборе...

- а) может присутствовать любое количество нейтрального блага;
- б) не будет присутствовать нейтральное благо;
- в) количество нейтрального блага не зависит от его цены;
- г) оно выполняет роль дополняющего блага;
- д) верно б) и г).

Задание 3 (○ - выберите один вариант ответа)

Оптимальным для потребителя является набор благ, при котором...

- а) требуются минимальные затраты бюджета потребителя;
- б) обеспечивается получение потребителем максимальной полезности;
- в) выполняется равенство между предельной нормой замещения благ и соотношением цен этих же благ;
- г) получаемая потребителем полезность выше стоимости набора благ;
- д) верно б) и в).

Задание 4 (○ - выберите один вариант ответа)

Может ли уменьшение цены блага приводить к сокращению его потребителей?

- а) только в виде исключения;
- б) если эффект дохода больше эффекта замены, а их действие разнонаправлено;
- в) если эффект замены больше эффекта дохода, а их действие едионаправлено;
- г) если линия «доход-направление» убывающая;
- д) верно в) и г).

Задание 5 (○ - выберите один вариант ответа)

При росте цены на заменяемое благо линия «цена - потребление» имеет вид...

- а) убывающей линии;
- б) возрастающей линии;
- в) горизонтальной линии;
- г) вертикальной линии;
- д) отрицательно наклоненной линии.

Задание 6 (○ - выберите один вариант ответа)

Увеличение цены обычного товара приводит к смещению равновесия потребителя на карте кривых безразличия (при прочих равных условиях)...

- а) вправо вверх;
- б) вправо вниз;
- в) влево вверх или вниз;
- г) движение вдоль той же самой кривой безразличия.

Задание 7 (○ - выберите один вариант ответа)

Оптимальное правило покупки состоит в следующем...

- а) цена товара соответствует его общей полезности;
- б) предельная полезность товара соответствует его цене;
- в) наивысшая цена должна быть меньше предельной полезности товара;
- г) такого не существует, каждый руководствуется собственными представлениями.

Задание 8 (○ - выберите один вариант ответа)

Ограничением рационального поведения потребителя является следующий факт...

- а) люди делают ошибки;
- б) люди иррациональны по природе;
- в) отсутствие необходимой информации;
- г) верно а) и б).

Задание 9 (○ - выберите один вариант ответа)

Какой из следующих товаров покажет наибольший эффект дохода...

- а) алкогольные напитки;
- б) холодильники;

- в) бензин;
- г) жилье.

Задание 10 (○ - выберите один вариант ответа)

Основоположником австрийской школы, представители которой развили кардиналистскую теорию полезности, является...

- а) В. Парето;
- б) Е. Слуцкий;
- в) Р. Аллен;
- г) К. Маркс.

II Верны ли утверждения?

1 Если картофель – товар Гиффена, то для него эффект замещения превышает эффект дохода.

2 Если чтение газет для рационального пенсионера Иванова является необходимостью, то он не откажется от него ни при каких обстоятельствах.

3 Если автомобиль не является предметом роскоши для рационального потребителя, то эффект дохода для него меньше эффекта замещения.

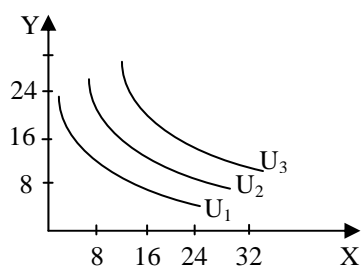
4 Рациональный потребитель предпочтет купить диван, а не кровать, если для него предельная полезность дивана выше предельной полезности кровати.

5 Введение налога на продажи не затрагивают равновесия потребителя.

III Задачи

1 Функция полезности потребителя задается так: $U(X; Y) = X^{\frac{1}{2}} Y^{\frac{1}{2}}$. Располагаемый потребителем доход составляет 1080 р. в неделю и полностью расходуется на покупку благ X и Y . При этом цена блага X составляет 15 р. за единицу, а блага Y – 60 р. за единицу. Определите значения предельной полезности каждого из благ (MU_X и MU_Y), предельной нормы замены блага Y благом X в потреблении для оптимального набора (MRS_{XY}), а также структуру оптимального набора (X^* ; Y^*).

2 Руководствуясь приведенным рисунком, где X и Y – виды благ, а U – уровень полезности их потребления, определите структуру оптимального набора потребителя, если доход потребителя равен 3200 р., цена единицы блага X – 100 р., а блага Y – 160 р.



3 Нарисуйте карты кривых безразличия для следующих пар товаров:

- а) красные и желтые яблоки;
- б) ботинки и шнурки для ботинок;
- в) хлеб и вода;
- г) картофель и шоколад, если у потребителя сахарный диабет;
- д) отходы и сантехническое оборудование;
- е) соленые огурцы и шоколад.

IV Вопросы для самоконтроля

1 Какие факторы определяют выбор потребителя в рыночной системе?

2 В каких случаях поведение потребителя следует считать рациональным?

3 Какие из основных постулатов теории потребительского поведения носят абсолютный, вечный характер, а какие – относительный, временный?

4 В чем состоит закон убывающей предельной полезности?

5 В чем принцип построения кривых безразличия?

6 Что такое бюджетная линия?

7 Как относятся эффект замещения и эффект дохода для разных категорий товаров: лучших, худших и Гиффена?

8 Чем определяются форма и месторасположение кривых безразличия? Почему кривые безразличия не пересекаются?

9 Всегда ли предельная норма замещения постоянна в рыночном обмене? В равновесии потребителя?

10 Какую зависимость отражают кривые Энгеля?

V Основные понятия

благо

набор (корзина) благ

потребительское множество

пространство благ

полезность

функция полезности

порядковая (ординалистическая) функция полезности

количественная (кардиналистическая) функция полезности

предельная полезность

совокупная полезность

принцип убывающей предельной полезности

предельная норма замещения

бюджетное ограничение

бюджетная линия

ценность

потребительский излишек

кривая безразличия

карта безразличия
суверенитет потребителя
свобода потребительского выбора
рациональность потребителя
задача потребительского выбора
оптимум (равновесие) потребителя
эквимаржинальный принцип
кривая Энгеля
кривая рыночного спроса
эффект замены
эффект дохода

Тема 7 Производство и издержки

Вариант А

I Тестовые задания

Задание 1 (○ – выберите один вариант ответа)

Общие издержки – это...

- а) $MC + AC$;
- б) $AFC + AVC$;
- в) $FC + VC$;
- г) $AMC + AVC$.

Задание 2 (○ – выберите один вариант ответа)

В краткосрочный период фирма производит 100 единиц товара при средних постоянных издержках 5 р. Если средние переменные издержки сократятся с 20 р. до 10 р., то общие издержки...

- а) уменьшатся на 10 р.;
- б) возрастут на 10 р.;
- в) сократятся на 1000 р.;
- г) увеличатся на 1000 р.

Задание 3 (○ – выберите один вариант ответа)

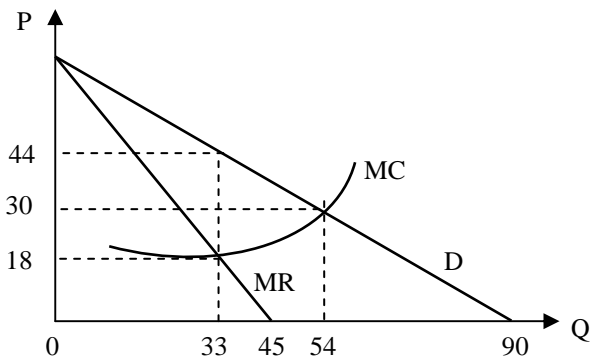
Суммарный объем произведенной продукции, выраженный в физических единицах, называется...

- а) средним продуктом;
- б) промежуточным продуктом;

- в) предельным продуктом;
- г) общим продуктом.

Задание 4

Оптимальный с точки зрения максимизации прибыли объем производства составляет...



Задание 5 (□ – выберите варианты ответов)

Действие закона убывающей предельной отдачи означает, что с ростом объема выпуска...

- а) общий продукт фирмы возрастает снижающимися темпами;
- б) предельный продукт переменного ресурса сокращается;
- в) предельные издержки переменного ресурса снижаются;
- г) общие издержки фирмы снижаются.

Задание 6 (○ – выберите один вариант ответа)

Внутриотраслевая конкуренция состоит...

- а) в снижении цен на готовую продукцию одной фирмы с целью разорения конкурента;
- б) в борьбе между предпринимателями по поводу приобретения сырья и сбыту готовой продукции;
- в) в борьбе товаропроизводителей одной и той же отрасли за рынки сбыта и рынки факторов производства;
- г) в борьбе предприятий разных отраслей за наиболее выгодные сферы приложения капитала.

Задание 7 (○ – выберите один вариант ответа)

Величина общих издержек производства предприятия представлена функцией $TC = 30 + 20Q - 2Q^2$, где Q – объем производственной продукции. Величина постоянных издержек равна...

- а) данных недостаточно;

- б) 20;
- в) 30;
- г) 46.

Задание 8 (○ – выберите один вариант ответа)

Закон убывающей предельной производительности гласит, что при увеличении одного фактора производства и неизменном другом достигается определенный объем выпуска, свыше которого величина предельного продукта начинает снижаться. При этом...

- а) продавцы предлагают больше товаров при высоких ценах и меньше – при низких;
- б) при увеличении затрат одного ресурса при неизменности других ресурсов и технологий он приносит меньший предельный продукт;
- в) при прочих равных условиях по низкой цене удастся продать товаров больше, чем по высокой.

Задание 9

Количество	0	10	20	30	40
Переменные издержки	0	40	75	110	130

Предприятие выращивает арбузы. Если постоянные затраты равны 40 д.ед., цена – 10 д.ед., то прибыль фермера при производстве 30 ед. составит...

Задание 10 (□ – выберите варианты ответов)

В производстве некоего вида товара требуется два фактора производства: труд и земля. В каких случаях из нижеперечисленных достигается минимизация издержек?

Варианты ответов даны в таблице.

	Предельный продукт земли	Цена земли	Предельный продукт труда	Цена труда
а	6	2	9	3
б	16	8	15	5
в	9	2	8	2
г	20	5	16	4

II Верны ли утверждения?

1 Производственные факторы фирмы включают труд, машины, сырье, электроэнергию и другие товары и услуги, необходимые для производства товара.

2 Производственный метод будет технически эффективен, если для производства данного объема выпуска используется большее количество одного ресурса и не меньшее количество другого ресурса, чем могло бы потребоваться при другом методе.

3 Предельный продукт может превышать средний только тогда, когда наблюдается возрастающая экономия от масштаба.

4 Предельные издержки – производная функция только от переменных издержек: $MC = \frac{dVC}{dQ}$.

5 Экономическая прибыль в долгосрочном периоде, как правило, ниже, чем в краткосрочном периоде, но всегда имеет положительную величину.

III Задачи

1 При производстве 40 деталей AVC составили 20 р., при выпуске 20 деталей AFC - 10 р., при выпуске 50 деталей AC равны 60 р.

Определите:

- величину AC при производстве 40 деталей;
- величину AVC при производстве 50 деталей.

2 Фирма платит 200 тыс. р. в день за аренду оборудования и 100 тыс. р. заработной платы. При этом она использует такое количество труда и капитала, что их предельные продукты равны 0,5 и 1.

Использует ли фирма оптимальное сочетание факторов производства с точки зрения максимизации прибыли?

3 Производственная функция фирмы равна $Q = k^{\frac{1}{4}}L^{\frac{3}{4}}$; цена капитала - 4 тыс. р.; цена труда - 12 тыс. р.

Какое количество капитала и труда должна иметь фирма для выпуска 300 тыс. ед.?

4 Среднегодовая стоимость основных фондов составляет 100 млн р., в том числе:

- здания – 20 млн р. (норма амортизации 7%);
- оборудование – 15 млн р. (норма амортизации 10%);
- ЭВМ – 5 млн р. (норма амортизации 12%);
- транспорт – 50 млн р. (норма амортизации 10%);
- прочие – 10 млн р. (норма амортизации 12%).

а) определите годовую сумму амортизации, начисляемую прямолинейным методом;

б) стоимость произведенной и реализованной продукции - 120 млн р. Найдите фондоотдачу.

5 В таблице показана зависимость общих затрат предприятия от выпуска продукции. Рассчитайте затраты: постоянные, переменные, средние общие, средние постоянные, средние переменные. В таблице заполните графы FC , VC , MC , ATC , AVC , AFC .

Выпуск в единицу времени, Q, шт.	Общие затраты, TC, р.	FC	VC	MC	ATC	AVC	AFC
0	60						
1	130						
2	180						
3	230						
4	300						

IV Задания на развитие экономического мышления

1 «В отличие от многих других стран, - пишет академик Д.С. Львов, - у России есть фундаментальный источник доходов бюджета, который сегодня, по существу, остается не задействованным. Это рента с природных ресурсов.

Если мы всерьез хотим реформировать нашу экономику, то необходимо в первую очередь отойти от нынешнего чисто символического налогообложения природно-ресурсного потенциала – оно не совместимо не только с ближайшими задачами экономического оздоровления России, но и со стратегией перехода к экономически устойчивому хозяйствованию» (Львов Д.С. Экономика развития. – М.: Экзамен, 2002. – С. 164, 167).

Что такое рента с природных ресурсов? Какова ваша точка зрения по поводу введения в России так называемой природной ренты? Для какой модели развития страны она приемлема?

2 Высокий уровень издержек производства является одной из центральных причин падения рентабельности в отраслях промышленности России. Вместе с тем, сами трудности побудили российских субъектов к поиску вариантов адаптации, к постепенному освоению новых правил экономической жизни. Началась серия шагов в области снижения издержек производства.

Каковы основные пути снижения производственных издержек? Как бы вы определили последовательность принимаемых мер?

V Вопросы для самоконтроля

1 Что такое производственная функция? Почему нельзя принимать решение о дальнейшей деятельности фирмы, основываясь только на данных, получаемых при исследовании производственной функции?

2 Как в теории предельной производительности определяется спрос на ресурсы?

3 Чем определяется эластичность спроса на ресурсы?

4 Какое правило является более общим: правило максимизации прибыли или правило наименьших издержек? Почему?

5 Согласны ли вы с утверждением, что каждый фактор следует оплачивать в соответствии с тем, что он создает? Равнозначно ли это утверждение принципу «от каждого по способности, каждому по труду»?

6 Объясните, почему равновесие производителя достигается в точке касания изокосты и изокванты.

7 Чем определяются пределы технической субституции труда капитала? Проиллюстрируйте свой ответ графически.

8 Что такое экономия от масштаба и почему она существует?

9 Какие отрасли сферы услуг или промышленности имеют обычно больший эффект масштаба? Почему?

10 Что можно сказать о ресурсах, изокванты которых изображены на рисунках 1а и 1б?

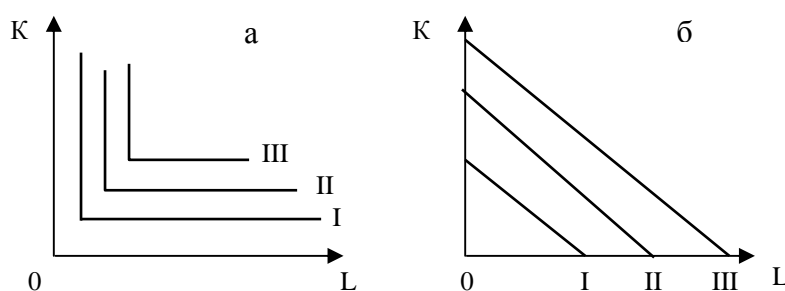


Рисунок 1 – Изокванты: два особых случая

11 Что такое минимальный эффективный размер предприятия, как он влияет на рыночную структуру отрасли?

12 Как вы думаете, в какой степени цель фирмы заключается в максимизации прибыли? Всегда ли фирма должна стремиться к максимальной прибыли, а не, например, к улучшению социальных условий, спонсированию искусства или политических кампаний?

13 «Менеджеры фирмы, как правило, не знают предельных издержек. В таком случае нет смысла говорить о законе оптимального производства при равенстве предельного дохода предельным издержкам». Так ли это?

14 Для получения максимальной прибыли необходимо продать максимально большее количество продукции. Верно ли это утверждение и почему?

15 Фирмы, производящие себе в убыток, должны обязательно сразу закрываться. Всегда ли это верно?

16 Какие фирмы преобладают в современном рыночном хозяйстве: допредельные, предельные или запредельные; какие преобладали в условиях советской командной экономики?

VI Основные понятия

производство

затраты

выпуск

деятельность фирмы

производительность труда
 предельная производительность труда
 совокупный продукт (PQ)
 средний продукт $AP = \frac{Q}{F_1}$
 предельный продукт $MP = \frac{\Delta Q}{\Delta F_1}$
 производственная функция $Q = f(F_1, F_2, F_3)$
 закон убывающей предельной производительности
 правило наименьших издержек
 правило максимизации прибыли
 технология
 изокванта
 карта изоквант
 зона технического замещения
 предельная норма технического замещения ($MRTS$)
 изокоста
 издержки производства
 прибыль
 совокупная выручка (валовой доход)
 совокупные издержки
 совокупный доход
 средний доход
 предельный доход
 экономические (или альтернативные) издержки
 бухгалтерские издержки
 внешние (явные) издержки
 внутренние (неявные) издержки
 нормальная прибыль
 экономическая прибыль
 краткосрочный период времени
 долгосрочный период времени
 постоянные издержки (FC)
 переменные издержки (VC)
 общие (валовые) издержки (TC)
 средние постоянные издержки (AFC)
 средние переменные издержки (AVC)
 средние общие издержки (ATC)
 предельные издержки (MC)
 трансформационные издержки
 трансакционные издержки
 себестоимость
 положительный эффект масштаба
 проблема расчета издержек в добывающих отраслях

ценностная оценка природных запасов страны
природная рента
правило использования природных ресурсов

Вариант Б

I Тестовые задания

Задание 1 (○ – выберите один вариант ответа)

Экономическая прибыль будет равна, если...

- а) явные издержки окажутся равными неявным издержкам;
- б) общая выручка будет равна явным издержкам;
- в) общая выручка окажется равной сумме явных и неявных издержек;
- г) общая выручка от продажи будет больше, чем явные издержки.

Задание 2 (○ – выберите один вариант ответа)

В точке минимальных средних издержек предельные издержки должны быть...

- а) больше, чем средние издержки;
- б) меньше, чем средние издержки;
- в) равны средним издержкам;
- г) минимальными.

Задание 3 (○ – выберите один вариант ответа)

Правило использования ресурсов может быть выражено равенством...

- а) $MP > AP$;
- б) $MP < AP$;
- в) $MP = AP$;
- г) $MRP = MRC$.

Задание 4 (□ – выберите варианты ответов)

Изокванта имеет форму прямого угла (прямоугольная изокванта), если...

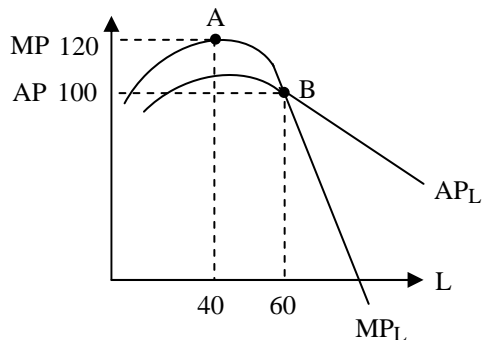
- а) в случае жесткого дополнения ресурсов замещение одного фактора другим невозможно;
- б) объем производства может быть осуществлен только тогда, когда труд и капитал используются в определенной пропорции;
- в) объем запланированного выпуска может быть получен с помощью только дополнительного капитала;

г) объем дополнительного выпуска может быть получен с помощью только дополнительного труда.

Сделайте рисунок прямоугольной изокванты.

Задание 5

Найти точку, в которой величина среднего продукта максимальна.



Задание 6 (○ – выберите один вариант ответа)

Предельная норма технологического замещения (MRTS) одного ресурса другим равна...

- а) отношению цен единиц ресурсов;
- б) отношению предельных производительностей ресурсов;
- в) отношению средних производительностей ресурсов;
- г) отношению предельных продуктов к цене.

Задание 7 (□ – выберите варианты ответов)

В производстве некоего вида товара требуется два фактора: труд и земля. В каких случаях из нижеперечисленных достигается минимизация издержек?

Варианты ответов даны в таблице.

	Предельный продукт земли	Цена земли	Предельный продукт труда	Цена труда
а	6	2	9	3
б	16	8	15	5
в	16	4	8	2
г	18	6	16	4

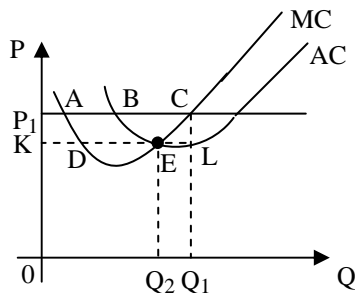
Задание 8 (○ – выберите один вариант ответа)

Из перечисленных ниже неравенств выберите условие убывания среднего продукта переменного фактора производства.

- а) $MP > AP$;
- б) $MPS > 0$;
- в) $MP < AP$;
- г) $MP < 0$.

Задание 9 (○ – выберите один вариант ответа)

Проанализировав график, определите величину прибыли.



Прибыль будет равна площади...

- а) P_1KDA ;
- б) P_1CEK ;
- в) P_1CLK ;
- г) ECL .

Задание 10 (○ – выберите один вариант ответа)

Дана производственная функция $Q(x, y) = 3x^{0.5}y^{0.6}$, которая характеризуется...

- а) возрастающим эффектом масштаба;
- б) убывающим эффектом масштаба;
- в) постоянным эффектом масштаба;
- г) данных недостаточно.

II Верны ли утверждения?

1 Под понятием «предельный продукт труда» следует подразумевать количество продукции, которое будет выпускать фирма после увеличения массы применяемого труда в расчете на единицу затрат труда (например, на одного рабочего).

2 Кривая предельных издержек пересекает кривые средних и средних переменных издержек в точках, где эти кривые достигают минимума.

3 Производственная функция выражает зависимость между любым возможным объемом производства и количеством применяемых факторов.

4 Если предельный продукт переменного фактора сокращается, совокупный продукт также уменьшается при любых условиях.

5 Может ли последняя единица блага иметь небольшую полезность? Студент-первокурсник недоумевает: «А если на борту космического корабля произошла авария, и началась утечка кислорода?» Прав студент?

III Задачи

1 Производственная функция имеет вид:

$$Q = 2K^{1/2}L^{1/2}; P_L = 4; P_K = 3; T_C = 24.$$

Определите, какая комбинация факторов K и L обеспечивает максимальный выпуск?

2 Заполните таблицу, рассчитав и внося недостающие показатели.

Количество единиц ресурса, L	ТР	МР	АР
1	4		
2	7		
3		8	
4		1	
5			3,2

3 Если функция спроса на продукцию монополиста описывается уравнением $P = 50 - 2Q$, а функция общих издержек - $TC = 8Q + Q^2$, то при какой цене и каком объеме продаж он получит максимальную прибыль?

4 В краткосрочный период фирма производит 100 единиц товара при средних постоянных издержках 500 р. Средние переменные издержки сократятся с 200 р. до 100 р. Как изменятся общие издержки фирмы?

5 Рассчитайте:

а) чему равен выпуск;

б) во сколько раз возрастет выпуск, если затраты труда увеличатся вдвое, а производительность труда (MP) останется неизменной;

в) при изменении количества затраченного труда до 16 предельный продукт составит 20. Чему будет равен выпуск?

IV Задания на развитие экономического мышления

1 Билл Френч (главный бухгалтер производственной бухгалтерии) позвонил своему шефу Вэнсу Дэвидсону. «Послушай, Вэнс, я все подготовил для нашего послеобеденного заседания. У меня есть ряд соображений относительно увеличения нашей прибыли, к которым наверняка прислушаются коллеги». Мистер Френч попросил разрешения представить некоторые цифры о нижнем пределе прибыли, поскольку корпорация до сих пор не пользовалась такого рода анализом.

Френч определил коэффициент загрузки возможностей корпорации, при котором она могла работать без прибыли и без убытков. Он сформулировал это таким образом: «Фирма должна быть в состоянии продавать по меньшей мере

столько, чтобы переменные производственные затраты и затраты по сбыту продукции покрывались выручкой от ее реализации. Кроме того, она будет иметь прибыль лишь тогда, когда будут компенсироваться также и постоянные затраты. Коэффициент загрузки, при котором покрываются все затраты, является пределом прибыли. При составлении всех наших планов мы должны обеспечить этот нижний предел».

Насколько обоснованы предложения Билла Френча при определении нижнего предела прибыли фирмы?

2 Производство обычных (не запрещенных законом) товаров и услуг, которое не регистрируется с целью уклонения от налогов, называют «серой» (теневой) экономикой. На основе знаний общей теории производства экономических благ охарактеризуйте основные закономерности, которые объективно должны быть присущи этой сфере деятельности.

V Вопросы для самоконтроля

1 Поясните ваше понимание эффекта масштаба производства. Какие факторы экономии реализуются в условиях масштабности?

2 Что собой представляет дезэкономия на масштабах производства (или отрицательный эффект масштаба)?

3 Каково различие между трансформационными и трансакционными издержками?

4 Какова эволюция развития трансакционных издержек?

5 Из каких частей складывается величина трансакционных издержек?

6 Какие методы снижения издержек вы могли бы назвать? Что характерно для практики снижения издержек в экономике России по сравнению с западной практикой?

7 Как бы вы могли прокомментировать высказывание американского экономиста К. Эрроу, определившего трансакционные издержки как «издержки эксплуатации экономической системы»?

8 Была ли, по вашему мнению, объективная причина того, что теория трансакционных издержек сформировалась в середине XX в., а не в XIX в.?

VI Основные понятия

технология

изокванта

изокоста

карта изоквант

зона технического замещения

предельная норма технического замещения (MTRS)

издержки производства

прибыль

валовая прибыль

балансовая прибыль

нормальная прибыль
чистая прибыль
бухгалтерская прибыль
экономическая прибыль
совокупная выручка (валовой доход TR)
совокупные издержки (валовые, общие TC)
средний доход (AR)
предельный доход (MR)
экономические издержки
бухгалтерские издержки
внешние (явные) издержки
внутренние (неявные) издержки

Вариант В

I Тестовые задания

Задание 1 (○ – выберите один вариант ответа)

Минимально эффективный размер предприятия – это такой его размер, при котором объем производства позволяет минимизировать...

- а) общие постоянные издержки;
- б) общие переменные издержки;
- в) сумму общих и постоянных издержек;
- г) общие средние издержки.

Задание 2 (○ – выберите один вариант ответа)

Если фирма является запредельной, то ее владелец должен стремиться...

- а) минимизировать масштабы производства;
- б) наращивать масштабы производства;
- в) удерживать производство на таком уровне, чтобы $MC=AVC$;
- г) продать свою фирму.

Задание 3 (○ – выберите один вариант ответа)

Правило максимизации прибыли утверждает, что...

- а) $\frac{MRP_1}{P_1} = \frac{MRP_2}{P_2} = \dots = \frac{MRP_n}{P_n} = 0$;
- б) $TR > TC$;
- в) $MR > MC$;
- г) $\frac{MRP_1}{P_1} = \frac{MRP_2}{P_2} = \dots = \frac{MRP_n}{P_n} = 1$.

Задание 4

При каком объеме выпуска фирма, условия производства которой характеризуются графиком,



- а) начнет извлекать прибыль;
- б) сможет максимизировать среднюю прибыль?

Решите задачу в графической форме.

Задание 5

Используя данные таблицы, рассчитайте средние постоянные издержки при производстве пяти единиц продукции.

Объем производства, ед.	1	2	3
Валовые постоянные издержки, р.	30	30	30
Средние постоянные издержки, р.	60	55	50

Задание 6

Если общая прибыль фирмы, действующей в условиях современной конкуренции, составила 50 д.ед., общие издержки выпуска реализованной продукции по цене 3 д.ед. будут 50 д.ед., тогда объем выпуска равен _____ штук.

Задание 7 (○ – выберите один вариант ответа)

Если процесс производства на предприятии описывается производственной функцией $Q = (KL)^{0,5}$, где K – количество капитала, L – количество труда, то предприятие имеет отдачу от масштаба...

- а) постоянную;
- б) циклическую;
- в) возрастающую (положительную);
- г) убывающую (отрицательную).

Задание 8 (○ – выберите один вариант ответа)

Если американские корпорации ориентируются на максимизацию прибыли, то японские – на максимизацию объема продаж. Это приведет...

- а) к повышению цен на товары японских фирм;
- б) к частому разорению японских фирм;
- в) к росту издержек производства товаров американских фирм;
- г) к снижению цен на товары японских фирм.

Задание 9 (○ – выберите один вариант ответа)

Постоянными факторами производства для фирмы являются факторы...

- а) не влияющие на спрос данного товара;
- б) фиксированные при различном выпуске продукции;
- в) с постоянной ценой;
- г) определяемые размерами фирмы.

Задание 10 (○ – выберите один вариант ответа)

В точке минимума предельных издержек средние издержки должны быть...

- а) убывающими;
- б) возрастающими;
- в) постоянными;
- г) минимальными.

II Верны ли утверждения?

1 Под понятием «долгосрочный период» подразумевается период времени, в течение которого изменяется величина затрачиваемого на производстве труда, капитала и вовлекаемых в производство природных ресурсов.

2 В конкурентной отрасли экономическая прибыль не может существовать в долгосрочном периоде.

3 Когда владелец фирмы работает в ней менеджером и получает заработную плату, то эта зарплата должна рассматриваться как элемент внешних издержек.

4 Экономическая прибыль в долгосрочном периоде, как правило, ниже, чем в краткосрочном периоде, но всегда имеет положительную величину.

5 Если бухгалтерская прибыль равна нулю, то экономическая прибыль будет положительная.

III Задачи

1 Бухгалтер вашей фирмы потерял отчетность издержек фирмы. Он смог вспомнить только несколько цифр, а вам для прогноза вашей деятельности нужны и остальные цифры. Восстановите их.

Q	AFC	VC	AC	MC	TC
0					100
10			20		
20	5				
30				11	390
40		420			
50	2		14		

2 В городе H всего 1 млн жителей. Городские власти планируют построить в городе метрополитен. Сооружение тоннелей и станций, а также другие виды постоянных издержек оцениваются в 2,92 млрд р. в расчете на один год (считается, что в году 365 дней). Переменные издержки на одну перевозку одного пассажира неизменны и равны в среднем 1 р. Каждый житель города в среднем совершает две поездки в день.

а) если бы городские власти держали цены за проезд на минимальном уровне, обеспечивающем отсутствие убытков, то какова была бы цена поездки на метрополитене?

б) если бы было построено два метрополитена, охватывающих весь город, из которых каждый обслуживал бы половину жителей, то сколько бы стоила одна поездка на каждом метрополитене?

3 Фирма использует в производстве товара капитал (K) и труд (L), при этом $MP_K = 8$, а $MP_L = 20$. Цены единиц факторов: $P_K = 4$; $P_L = 10$.

Является ли оптимальным использование ресурсов фирмой с точки зрения минимизации издержек?

4 Фирма, выпускающая микроволновые печи, действует в условиях конкуренции. Функция общих затрат имеет вид: $TC = 100 + Q^2$.

Определите:

а) сколько нужно произвести печей для получения максимума прибыли, если цена печи равна 60;

б) какова прибыль фирмы?

5 Производственная функция фирмы имеет вид: $Q = 7K^{2/9}L^{7/9}$. Цена капитала равна 4, цена труда - 8. Фирма определила размер затрат в 24 единицы.

Найти характер отдачи от масштаба производства и комбинацию факторов, при которой будет обеспечен максимальный выпуск.

IV Задания на развитие экономического мышления

1 Издержки производства изучались многими экономистами. К. Маркс в «Капитале» рассматривал издержки с позиций трудовой теории стоимости. В теории издержек он выделял издержки производства и издержки обращения. Под издержками производства понимались затраты на заработную плату, сырье, материалы, энергию, амортизацию и т.д., то есть те, которые входят в стоимость товара. Издержки обращения связаны с процессом реализации товаров. Марксисты различали два вида издержек обращения: дополнительные издержки – это издержки на упаковку, сортировку, транспортировку и хранение

товаров; чистые издержки – это издержки, связанные непосредственно с торговлей (например, зарплата продавцов).

Теория К. Маркса имела большую ценность, т.к. впервые можно было учесть все затраты. Но в XX веке произошли большие изменения в сфере экономики. Изменился и сам рынок.

Прокомментируйте, какие изменения произошли в системе издержек производства? Что нового отражают современные концепции издержек (А. Маршалл, Д.С. Милль, Д. Робинсон и др.)?

2 Концепция транзакционных издержек приобрела в настоящее время особую привлекательность и актуальность. Институциональная школа, внеся анализ данной категории в мировую науку, сделала заметный шаг в экономической теории. Она смогла повернуть луч исследования в совершенно новом направлении. Речь идет о той форме затрат общества, которые необходимо осуществлять ради лучшего взаимодействия экономических партнеров.

Эти издержки в современном мире очень велики. Требуется их максимально сокращать. Как это сделать? Сформулируйте ваши предложения.

V Вопросы для самоконтроля

1 Что собой представляют издержки фирмы?

2 В чем отличие внешних издержек фирмы от внутренних?

3 Чем отличается экономический подход к издержкам от бухгалтерского?

В чем состоят различия между бухгалтерской и экономической прибылью?

4 Чем различаются краткосрочный и долгосрочный периоды времени при рассмотрении изменений величины издержек?

5 Что относится к постоянным издержкам в краткосрочном периоде времени?

6 Что относится к переменным издержкам в краткосрочном периоде времени?

7 Что собой представляют средние издержки и каковы их разновидности?

8 Какую форму имеют графики различных видов средних издержек?

9 Почему в долгосрочном периоде все издержки фирмы можно считать переменными?

10 Что собой представляют долгосрочные средние издержки и какими способами их можно графически изобразить?

VI Основные понятия

производство

затраты

выпуск

деятельность фирмы

производительность труда

совокупный продукт (общий, валовой) – PQ

средний продукт ($AP = \frac{Q}{F}$)

предельный продукт ($MP = \frac{\Delta Q}{\Delta F}$)

производственная функция ($Q = f(F_1 + F_2 + \dots + F_n)$)

закон убывающей предельной производительности

правило наименьших издержек

правило максимизации прибыли

Вариант Г

I Тестовые задания

Задание 1 (○ – выберите один вариант ответа)

Неизменный эффект масштаба производства состоит в том, что при изменении масштаба производства не изменяется...

- а) величина общих постоянных издержек;
- б) величина общих переменных издержек;
- в) величина суммарных постоянных и переменных издержек;
- г) величина общих средних издержек.

Задание 2 (○ – выберите один вариант ответа)

Какие из перечисленных издержек не учитываются при поиске оптимального объема выпуска фирмы?

- а) средние необратимые издержки;
- б) средние переменные издержки;
- в) предельные издержки;
- г) внутренние издержки.

Задание 3 (○ – выберите один вариант ответа)

Согласно закону убывающей производительности в краткосрочном периоде, начиная с определенного объема производства, присоединение дополнительной единицы переменного ресурса к неизменному постоянному приводит к снижению...

- а) средней и предельной производительности;
- б) альтернативных издержек;
- в) средних и предельных издержек;
- г) среднего и предельного дохода.

Задание 4 (○ – выберите один вариант ответа)

Определите, какие из перечисленных комбинаций значений общего продукта иллюстрирует закон убывающей предельной производительности фактора производства.

- а) 2500, 1500, 1250, 1200;
- б) 2500, 5000, 8000, 12000;
- в) 2500, 3000, 3200, 3300;
- г) 2500, 3500, 3600, 3800.

Задание 5 (□ – выберите варианты ответов)

Производство как экономическая категория означает...

- а) процесс преобразования экономических ресурсов в готовый продукт;
- б) процесс взаимодействия людей с природой для создания продуктов, удовлетворяющих потребности человека;
- в) совокупность производящих хозяйственных единиц;
- г) занятость населения в народном хозяйстве.

Задание 6 (□ – выберите варианты ответов)

Действие закона убывающей предельной отдачи означает, что с ростом объема выпуска продукции...

- а) общие издержки фирмы снижаются;
- б) предельные издержки переменного ресурса снижаются;
- в) предельный продукт переменного ресурса сокращается;
- г) общий продукт фирмы возрастает снижающимися темпами.

Задание 7 (○ – выберите один вариант ответа)

Экономические издержки на всю массу производимой продукции (ТС) зависят от выпуска так: $ТС = 0,1q^3 - 4q^2 + 50q + 100$. Это означает, что функция общих постоянных издержек (TFC) имеет вид...

- а) $TFC = 100$;
- б) $TFC = 0,1q^3 - 4q^2 + 50q$;
- в) $TFC = 0,3q^3 - 8q^2 + 50$;
- г) $TFC = 0,1q^2 - 4q^2 + 50$.

Задание 8 (□ – выберите варианты ответов)

К трансакционным издержкам относятся издержки...

- а) ведения переговоров;
- б) поиска информации;

- в) оппортунистического поведения;
- г) не получившие отражения в ценах.

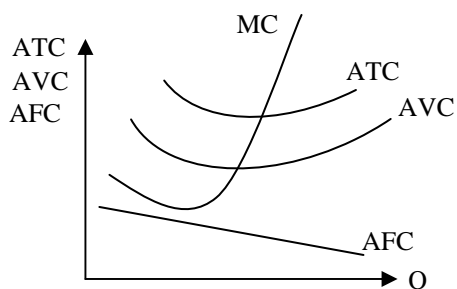
Задание 9 (○ – выберите один вариант ответа)

Изменение цены одного из факторов производства повлияет на издержки фирмы следующим образом...

- а) изменятся только средние издержки;
- б) изменятся только предельные издержки;
- в) изменятся средние и предельные издержки;
- г) ничего не изменится.

Задание 10 (○ – выберите один вариант ответа)

Если тарифы на электроэнергию выросли на 10%, а ставка налога на недвижимость снизилась на 15%, то...



- а) кривые предельных издержек будут расположены ниже кривой средних общих издержек;
- б) кривые средних общих издержек (ATC) и средних переменных издержек (AVC) сдвинутся вверх, а средних постоянных (AFC) - вниз;
- в) кривая средних переменных издержек сдвинется вверх, а кривые средних общих издержек и средних постоянных - вниз;
- г) кривые средних общих, средних переменных и предельных издержек (MC) сдвинутся вниз.

II Верны ли утверждения?

1 Под понятием «краткосрочный период» подразумевается период времени, в течение которого количество применяемого труда может вырасти, а величина капитала останется неизменной.

2 Средние издержки достигают минимума при таком объеме производства, при котором они равны предельным издержкам.

3 Предположим, что в данном производственном процессе капитал и труд выступают субститутами. Если цена капитала растет, кривая спроса на труд остается на месте.

4 Когда предельные затраты (МС) ниже средних затрат (АТС), то с ростом объема производства средние переменные затраты могут как возрастать, так и убывать.

5 Предельная выручка фирмы со снижением объема продаж (при функции спроса с постоянной эластичностью $E = -1$) остается постоянной.

III Задачи

1 Для производственной функции Кобба-Дугласа $Q = K^{1/2}L^{1/2}$ предельная норма технологического замещения капитала трудом увеличилась на 15%.

Определите, как изменится соотношение L/K , если первоначально оно составляло 3, а эластичность замены капитала трудом равна 0,3.

2 На предприятии по сборке компьютеров до модернизации было занято 20 работников. Они вместе собирали в день около 200 компьютеров одной модели. После модернизации 5 работников уволены. Размер дневного выпуска увеличился до 300 точно таких же компьютеров. В результате модернизации производства и изменения рыночной ситуации цена компьютера снизилась в 2 раза. Как изменилась производительность труда?

3 В стране, занимающейся выращиванием ананасов, в 2009 году сложились благоприятные погодные условия. Урожай вырос на 20%, но издержки производства возросли на 10%. Цена ананасов изменилась на 10%. В 2008 году рентабельность (отношение прибыли к затратам) составила 20%.

Сколько выиграли или проиграли производители ананасов в 2009 году по сравнению с 2008 годом (ответ дать в процентах от прибыли)?

4 Определите бухгалтерскую и экономическую прибыли на основе следующих данных:

- общий доход от продаж – 5 млн р.;
- внешние издержки фирмы – 3 млн р.;
- внутренние издержки фирмы – 0,5 млн р.

5 В таблице дана зависимость общих издержек фирмы от выпуска продукции. Рассчитайте постоянные, переменные, средние постоянные и предельные издержки.

Выпуск продукции, Q	Валовые издержки, ТС	FC	VC	AFC	MC
0	60				
1	100				
2	130				
3	155				
4	190				

IV Задания на развитие экономического мышления

1 Рассматривая природу издержек, мы исходим из редкости ресурсов и необходимости эффективного использования этих ограниченных ресурсов.

Любое решение о производстве какого-либо блага вызывает необходимость отказа от использования тех же ресурсов для производства каких-то иных вещей, т.е. все издержки представляют собой альтернативные издержки.

Какова роль альтернативных издержек в определении производственной деятельности фирмы?

2 В современных условиях поставлена проблема перейти от сырьевой экономики к экономике знаний. Проведите анализ и дайте в виде таблицы сравнительную характеристику этих экономик.

V Вопросы для самоконтроля

1 Что такое прибыль?

2 Охарактеризуйте валовую, экономическую и бухгалтерскую прибыли.

3 Сформулируйте правило максимизации прибыли.

4 Раскройте два способа максимизации прибыли.

5 Раскройте содержание монопольной и монопольно высокой прибыли (сверхприбыли).

6 Если фирма получает нормальную прибыль, в каком периоде (краткосрочном, долгосрочном) она будет оставаться на рынке? Почему? Объясните поведение фирмы, получающей нормальную прибыль.

VI Основные понятия

краткосрочный период времени

долгосрочный период времени

постоянные издержки (FC)

переменные издержки (VC)

общие (валовые) издержки (TC)

средние постоянные издержки (AFC)

средние переменные издержки (AVC)

средние общие издержки (ATC)

предельные издержки (MC)

трансформационные издержки

транзакционные издержки

себестоимость

стоимость

цена

положительный (возрастающий) эффект масштаба

постоянный эффект масштаба

убывающий эффект масштаба

правило использования природных ресурсов

проблема расчета издержек в добывающих отраслях
ценностная оценка природных запасов страны

Тема 8

Предложение на рынке совершенной конкуренции

Вариант А

I Тестовые задания

Задание 1 (○ – выберите один вариант ответа)

Источником экономической прибыли может быть...

- а) прогрессивная технология;
- б) вознаграждение за предпринимательский талант;
- в) верно а) и б);
- г) все перечисленные ответы неправильны.

Задание 2 (○ – выберите один вариант ответа)

Постоянными факторами производства для фирмы являются факторы...

- а) не влияющие на спрос, на данный товар;
- б) фиксированные при различном выпуске продукции;
- в) с постоянной ценой;
- г) определяемые размерами фирмы.

Задание 3 (○ – выберите один вариант ответа)

Примером переменных факторов производства может быть...

- а) электроэнергия;
- б) сырье;
- в) верно а) и б);
- г) все перечисленные ответы неправильны.

Задание 4 (○ – выберите один вариант ответа)

В точке минимума предельных издержек средние издержки должны быть...

- а) убывающими;
- б) возрастающими;
- в) постоянными;
- г) минимальными.

Задание 5 (○ – выберите один вариант ответа)

Какой признак является характерным только для корпорации?

- а) привлечение к управлению наемных менеджеров;
- б) деление прибыли между собственниками фирмы;
- в) выплата дивидендов;
- г) использование наемного труда.

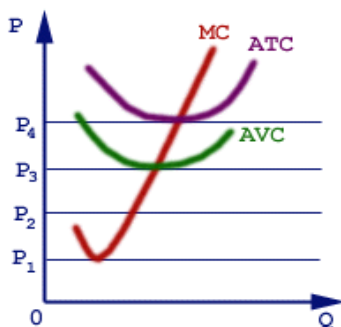
Задание 6 (○ – выберите один вариант ответа)

Предприниматель, который занят тиражированием видеокассет, арендует помещение за 0,5 млн р. в год; используемая им собственная аппаратура стоимостью 1 млн р. изнашивается за год. Когда он работал продавцом в магазине технических товаров, его годовая зарплата составляла 2,5 млн р. в год; занявшись бизнесом, он стал получать доход (бухгалтерскую прибыль) в размере 4 млн р. Каковы его внешние издержки и экономическая прибыль, если реальная ставка процента в Сбербанке составляет примерно 100% годовых?

- а) 1,5 млн р., экономическая прибыль отсутствует;
- б) 3 млн р., 4 млн р.;
- в) 0,5 млн р., 3,5 млн р.;
- г) 0,5 млн р., экономическая прибыль отсутствует.

Задание 7 (○ – выберите один вариант ответа)

При каком уровне цен фирма, издержки которой изображены на графике, не будет продолжать производство?



- а) только P_1 ;
- б) P_1 и P_2 ;
- в) P_1 , P_2 , P_3 ;
- г) при всех указанных уровнях.

Задание 8 (○ – выберите один вариант ответа)

Изменение цены одного из факторов производства повлияет на издержки фирмы следующим образом...

- а) обязательно изменятся средние издержки;
- б) обязательно изменятся предельные издержки;
- в) изменятся средние и предельные издержки;
- г) ничего не изменится.

Задание 9 (○ – выберите один вариант ответа)

Кривая предложения фирмы совпадает с кривой...

- а) средних издержек справа от кривой предельных издержек;
- б) средних издержек слева от кривой предельных издержек;
- в) предельных издержек выше кривой средних переменных издержек;
- г) предельных издержек выше кривой средних общих издержек.

Задание 10 (○ – выберите один вариант ответа)

Какая из перечисленных формул верна?

- а) бухгалтерская прибыль + внутренние издержки = экономическая прибыль;
- б) экономическая прибыль - бухгалтерская прибыль = внешние издержки;
- в) экономическая прибыль + внутренние издержки = бухгалтерская прибыль;
- г) внешние издержки + внутренние издержки = выручка.

II Верны ли утверждения?

1 Собственник фирмы, организованной как партнерство, несет, в отличие от собственника индивидуальной фирмы, ограниченную ответственность за действия фирмы.

2 В конкурентной отрасли экономическая прибыль не может существовать в долгосрочном периоде.

3 Врач, имеющий частную практику, не является фирмой.

4 Средние издержки в краткосрочном периоде всегда больше или равны средним издержкам в долгосрочном периоде.

5 Экономическая прибыль в долгосрочном периоде, как правило, ниже, чем в краткосрочном периоде, но всегда имеет положительную величину.

III Задача

Спрос на продукцию совершенно конкурентной отрасли представлен $QD = 55 - P$, а предложение $QS = 2P - 5$. Если у фирмы функция совокупных издержек $TC = 20 - 4q + Sq^2$, то при каких цене и объеме выпуска фирма максимизирует прибыль?

IV Задание на развитие экономического мышления

К каким последствиям приведет на рынке совершенной конкуренции вмешательство государства в форме: ликвидации налога с продаж, увеличения налога на прибыль, повышения минимальной заработной платы?

V Вопросы для самоконтроля

- 1 Что совершенного в совершенной конкуренции?
- 2 Какими признаками обладает совершенная конкуренция?
- 3 Если нововведения затронули большинство фирм совершенно конкурентной отрасли, будут ли они снижать цены на продукцию?
- 4 Перечислите условия максимизации прибыли фирмы.
- 5 Какие из признаков свидетельствуют о достижении долгосрочного отраслевого равновесия?

VI Основные понятия

совершенно конкурентная фирма

кривая спроса на продукцию совершенно конкурентной фирмы

точка безубыточности

точка закрытия фирмы (банкротства)

кривая предложения совершенно конкурентной фирмы в краткосрочном периоде

кривая предложения совершенно конкурентной фирмы в долгосрочном периоде

выручка: общая, средняя, предельная

отрасли с постоянными, возрастающими и убывающими издержками

Вариант Б

I Тестовые задания

Задание 1 (○ – выберите один вариант ответа)

Вознаграждение предпринимателя за новаторство является элементом...

- а) только экономической прибыли;
- б) только бухгалтерской прибыли;
- в) экономической и нормальной прибыли;
- г) экономической и бухгалтерской прибыли.

Задание 2 (○ – выберите один вариант ответа)

Рыночное ограничение деятельности конкурентной фирмы заключается в том, что...

- а) выручка должна превышать расходы;

- б) рынок диктует определенный уровень цен;
- в) фирма не имеет полной информации о рыночной конъюнктуре;
- г) выручка должна быть не ниже расходов.

Задание 3 (○ – выберите один вариант ответа)

Короткий период в микроэкономической теории - это отрезок времени, в течение которого...

- а) все факторы переменны;
- б) все факторы постоянны;
- в) фирма не может изменить размеры своих сооружений, но может изменить количество используемых машин и оборудования;
- г) фирма не может изменить ни размеры своих сооружений, ни количество используемых машин и оборудования.

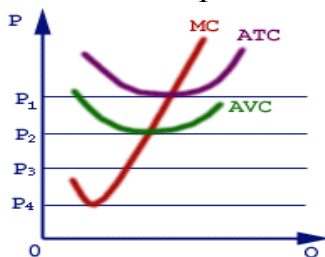
Задание 4 (○ – выберите один вариант ответа)

Издержки утраченных возможностей – это...

- а) фактические издержки, выраженные в деньгах;
- б) сумма фактических и неявных издержек;
- в) неявные издержки, начисляемые на расходы фирмы;
- г) разница между фактическими и неявными издержками.

Задание 5 (○ – выберите один вариант ответа)

При каком минимальном уровне цен фирма, издержки которой изображены на графике, будет иметь доходы, превышающие текущие расходы?



- а) P_4 ;
- б) P_3 ;
- в) P_2 ;
- г) P_1 .

Задание 6 (○ – выберите один вариант ответа)

В краткосрочном периоде реакцией фирмы на небольшое повышение цены на выпускаемый ею товар будет...

- а) увеличение выпуска продукции;
- б) увеличение объема привлекаемых капитальных средств;
- в) созыв совета специалистов для прогнозирования дальнейших возможных колебаний цены на рынке этого продукта;

г) попытка заплатить рабочим «старую» зарплату, пока они не узнали о повышении цен на производимый ими товар.

Задание 7 (○ – выберите один вариант ответа)

Переменные факторы производства - это факторы,...

- а) которые могут быть изменены достаточно быстро при изменении выпуска продукции;
- б) которые не могут быть изменены достаточно быстро при изменении выпуска продукции;
- в) у которых цена нестабильна;
- г) на которые цена не может контролироваться.

Задание 8 (○ – выберите один вариант ответа)

Какая формула правильно показывает соотношение бухгалтерской прибыли (БП), нормальной прибыли (НП) и чистой экономической прибыли (ЧП), если отсутствуют издержки на ресурсы предпринимателя?

- а) $НП = БП + ЧП$;
- б) $БП = НП + ЧП$;
- в) $ЧП = БП - НП$ - внешние издержки;
- г) $БП = ЧП - НП$.

Задание 9 (○ – выберите один вариант ответа)

Постоянными издержками являются издержки, которые фиксированы относительно...

- а) уровня выпускаемой продукции;
- б) времени;
- в) технологии;
- г) минимальной зарплаты.

Задание 10 (○ – выберите один вариант ответа)

Предельные издержки фирмы...

- а) постоянно возрастают;
- б) могут превышать общие издержки;
- в) равны средним издержкам в точке их минимума;
- г) положительны, если общие издержки возрастают.

II Верны ли утверждения?

1 Предельные издержки в краткосрочном периоде всегда больше или равны предельным издержкам в долгосрочном периоде.

2 В условиях совершенной конкуренции кривая спроса на продукцию фирмы неэластична.

3 В долгосрочном периоде постоянные издержки не существуют.

4 При изучении равновесия фирмы предполагается, что в краткосрочном периоде она стремится максимизировать прибыль, а в долгосрочном - объем продаж.

5 Максимизация объема продаж всегда является методом борьбы за максимизацию прибыли.

III Задание на развитие экономического мышления

Как сделать вывод о типе отрасли (если это возможно), располагая ценами на ее продукцию за длительный период времени?

IV Задача

Допустим, в совершенно конкурентной отрасли имеется 20 однотипных фирм с постоянными в долгосрочном периоде издержками. Предельные издержки для краткосрочного и долгосрочного периодов одинаковы у всех фирм и задаются уравнением: $MC = q^2 - 12q + 36$, где q – выпуск фирмы. Рыночный спрос для обоих периодов задан уравнением $P = 189 - Q$, а средние издержки производства фирм минимизируются в краткосрочном периоде – при выпуске $q = 8$ единиц и долгосрочном – при выпуске $q = 9$ единиц.

Находится ли данная отрасль в состоянии долгосрочного равновесия?

К каким результатам приведет проникновение на рынок фирм, которые предложат продукцию по 5 $p.$ за единицу?

V Вопросы для самоконтроля

1 Что совершенного в совершенной конкуренции?

2 Какими признаками обладает совершенная конкуренция?

3 Если нововведения затронули большинство фирм совершенно конкурентной отрасли, будут ли они снижать цены на продукцию?

4 Перечислите условия максимизации прибыли фирмы.

5 Какие из признаков свидетельствуют о достижении долгосрочного отраслевого равновесия?

VI Основные понятия

совершенно конкурентная фирма

кривая спроса на продукцию совершенно конкурентной фирмы

точка безубыточности
точка закрытия фирмы (банкротства)
кривая предложения совершенно конкурентной фирмы в краткосрочном периоде
кривая предложения совершенно конкурентной фирмы в долгосрочном периоде
выручка: общая, средняя, предельная
отрасли с постоянными, возрастающими и убывающими издержками

Тема 9 Рынки несовершенной конкуренции

Вариант А

I Тестовые задания

Задание 1 (○ - выберите один вариант ответа)

Основным критерием несовершенной конкуренции является...

- а) неоднородность продуктов;
- б) недостаток эластичности спроса на продукты, представленные на рынке;
- в) изменение спроса и цен в соответствии с изменением выпуска продукции фирмы;
- г) развитие рекламы, позволяющей изменять потребности многих покупателей на рынке.

Задание 2 (□ – выберите варианты ответов)

К основным видам входных барьеров на рынок относятся...

- а) собственность на невозпроизводимые и редкие ресурсы;
- б) авторские права и патенты;
- в) высокое качество производимой продукции;
- г) недостоверная информация государственных органов статистики.

Задание 3 (○ - выберите один вариант ответа)

Каковы особенности кривой спроса на продукцию фирмы в условиях несовершенной конкуренции?

- а) кривая спроса имеет горизонтальное положение;
- б) кривая спроса имеет положительный наклон;
- в) кривая спроса близка или совпадает с общей кривой спроса на данный товар (с отраслевой кривой спроса);
- г) кривая спроса характеризуется большой степенью неэластичности.

Задание 4 (□ – выберите варианты ответов)

Назовите основные способы решения проблемы максимизации прибыли фирмы.

- а) метод определения наибольшей величины спроса на продукцию фирмы;
- б) метод сравнения валового дохода и валовых издержек;
- в) метод сравнения предельного дохода и предельных издержек;
- г) метод сравнения средних издержек с рыночной ценой реализуемых товаров.

Задание 5 (○ - выберите один вариант ответа)

Почему предельный доход фирмы в условиях несовершенной конкуренции всегда имеет тенденцию к снижению?

- а) это связано с ухудшением рыночной конъюнктуры;
- б) основная причина состоит в постоянном снижении производительности основных факторов производства;
- в) рост объемов реализуемой продукции ведет к снижению рыночной цены;
- г) причина состоит в постоянном росте средних издержек при увеличении объемов производства.

Задание 6 (○ - выберите один вариант ответа)

При каких условиях наступает равновесие монополии в краткосрочном периоде?

- а) при максимуме валового дохода предприятия-монополиста;
- б) при условии такого объема производства, при котором предельный доход фирмы равен предельным издержкам;
- в) при максимально возможном объеме производства, при котором рыночная цена выше средних издержек;
- г) при объеме производства, когда фирма достигает максимальной рыночной цены продаж.

Задание 7 (○ - выберите один вариант ответа)

Что понимается под ценовой дискриминацией?

- а) общая политика максимизации прибыли фирмы через искусственное снижение спроса и завышение цены;
- б) продажа товаров по цене, значительно превышающей фактически средние издержки производства;
- в) продажа одного и того же товара разным потребителям по разным ценам без связи с различиями в издержках производства;

г) отклонение продажной цены товаров от кривой спроса и предложения и искусственное создание дефицита.

Задание 8 (□ – выберите варианты ответов)

В чем проявляются прямые потери общества при несовершенной конкуренции?

- а) уменьшение объемов производства и степени удовлетворения общественных потребностей посредством завышения цен;
- б) сокращение объемов платежеспособного спроса и присвоение излишка потребителя монополией;
- в) снижение конкурентоспособности продукции, поставляемой монополией на мировой рынок;
- г) в изменении эластичности спроса на основные товары первой необходимости.

Задание 9 (○ - выберите один вариант ответа)

Индекс Герфиндаля рассчитывается...

- а) для измерения сложности преодоления входных барьеров на рынок;
- б) для расчета численности конкурирующих фирм;
- в) для оценки возможных прибылей на рынке несовершенной конкуренции;
- г) для оценки степени концентрации производства в отрасли и монополизации рынка.

Задание 10 (○ - выберите один вариант ответа)

Как называется форма монополистического объединения, когда несколько фирм-олигополистов ограничивают конкуренцию и предотвращают вступление в отрасль путем сговора?

- а) картель;
- б) холдинг;
- в) синдикат;
- г) корпорация.

II Верны ли утверждения?

1 У фирмы-монополиста нет своей кривой предложения, независимой от кривой спроса на его продукцию. Фирма выбирает лишь одну точку на кривой спроса.

2 Предельный доход фирмы-монополиста в основном может увеличиваться с увеличением объемов производства, поскольку в этом случае будут снижаться средние издержки.

3 Рынок несовершенной конкуренции всегда предполагает способность фирмы к воздействию на цену и объем спроса.

4 Минимизация убытков фирмы в условиях несовершенной конкуренции происходит в том случае, если величина средних переменных издержек меньше рыночной цены.

5 При равенстве предельных издержек и предельного дохода достигается полное удовлетворение всего платежеспособного спроса на данный товар.

III Задачи

1 Спрос на продукцию монополиста: $Q = 24 - 2P$. Общие издержки фирмы, оптимизирующей выпуск, заданы функцией $TC = 18 + Q^2$.

Рассчитайте объем выпуска, уровень цены и величину экономической прибыли фирмы-монополиста.

2 Фирма-монополист осуществляет производство товара, определив, что ее общая выручка - $TR = 100Q - 2Q^2$, а общие издержки - $TC = 5Q^2 - 40Q$.

Каков будет уровень цены фирмы, оптимизирующей производство?

IV Задания на развитие экономического мышления

1 Объясните, почему поведение фирмы в условиях несовершенной конкуренции принципиально отличается от поведения в условиях конкурентного рынка?

Почему предельный доход фирмы-монополиста всегда имеет тенденцию к снижению?

Каким образом влияет эластичность спроса на возможности максимизации монопольной прибыли?

2 Почему монополия всегда означает определенные потери для общества?

В чем разница действия правила $MR = MC$ для фирмы-монополиста и фирмы, действующей в условиях рынка совершенной конкуренции?

V Вопросы для самоконтроля

- 1 Что такое рынок несовершенной конкуренции?
- 2 Дайте определение монополии.
- 3 Что понимается под входным барьером на рынок?
- 4 Что такое ценовая дискриминация?
- 5 Напишите математическое определение индекса Герфиндаля.
- 6 Что такое олигополия?
- 7 Дайте определение монополии.
- 8 Что такое антитрестовское законодательство?

VI Основные понятия

несовершенная конкуренция
монополия
олигополия

входные барьеры на рынок
ценовая дискриминация
естественная монополия
индекс Герфиндаля
монопсония
картель
синдикат
трест

Вариант Б

I Тестовые задания

Задание 1 (○ - выберите один вариант ответа)

Что не является входным барьером на рынок?

- а) исключительные права (лицензии) на определенный вид деятельности;
- б) собственность на невозпроизводимые и редкие ресурсы;
- в) низкие издержки на производство товара;
- г) авторские права и патенты.

Задание 2 (○ - выберите один вариант ответа)

Что является определяющим на рынке несовершенной конкуренции?

- а) относительно небольшое число фирм в отрасли;
- б) неоднородность выпускаемой продукции;
- в) отсутствие неценовой конкуренции;
- г) высокий уровень контроля фирмы над ценой.

Задание 3 (○ - выберите один вариант ответа)

Как изменяется предельный доход фирмы-монополиста в условиях несовершенной конкуренции?

- а) как правило, колеблется в небольших пределах;
- б) уменьшается;
- в) растет;
- г) практически не изменяется.

Задание 4 (□ – выберите варианты ответов)

Какими способами фирма-монополист решает проблему максимизации прибыли?

- а) методом сравнения валового дохода и валовых издержек;
- б) методом достижения максимальной разницы между средними издержками и рыночной ценой;
- в) методом сравнения предельного дохода и предельных издержек;
- г) методом максимального увеличения товарного выпуска.

Задание 5 (○ - выберите один вариант ответа)

В чем сущность ценовой дискриминации первой степени?

- а) продажа монополистом товара по цене, значительно превышающей издержки производства;
- б) продажа монополистом каждой единицы (партии) товара по максимальной цене каждому покупателю, учитывая их согласие на оплату товара именно по этой цене;
- в) продажа минимального количества товара, но по максимально высокой цене;
- г) продажа товаров по разным ценам, учитывая различную эластичность спроса по регионам продаж.

Задание 6 (○ - выберите один вариант ответа)

Почему общество несет потери от несовершенной конкуренции?

- а) монополия снижает конкурентоспособность национальной экономики на мировом рынке;
- б) происходит торможение основного экономического показателя эффективности – производительности труда;
- в) искусственно снижается максимально возможный объем производства товара и удовлетворение платежеспособного спроса;
- г) монополия приводит к массовой безработице и недоиспользованию трудовых ресурсов.

Задание 7 (○ - выберите один вариант ответа)

Каким способом государство решает проблему минимизации потерь общества от несовершенной конкуренции?

- а) созданием государственных предприятий-конкурентов в отраслях;
- б) регулированием ценообразования монополий;
- в) расширением государственного спроса в монополизированных отраслях;
- г) контролем качества товаров и услуг.

Задание 8 (○ - выберите один вариант ответа)

Каким показателем может исчисляться степень монополизации в той или иной отрасли?

- а) коэффициентом Джини;
- б) индексом Доу-Джонса;
- в) индексом роста ВВП;
- г) индексом Герфиндаля.

Задание 9 (○ - выберите один вариант ответа)

Какой экономической категорией определяется состояние рынка несовершенной конкуренции, на котором господствует один покупатель?

- а) монополия;
- б) естественная монополия;
- в) олигополия;
- г) дуополия.

Задание 10 (○ - выберите один вариант ответа)

В чем сущность рынка несовершенной конкуренции в условиях олигополии?

- а) в низком уровне конкуренции нескольких фирм, что снижает их мотивы к уменьшению издержек;
- б) в стремлении создать высокие барьеры для вхождения на рынок;
- в) в способности олигополиста пользоваться техническими секретами конкурентов;
- г) в способности небольшого числа фирм на рынке поделить его путем сговора с целью достижения контроля над ценой.

II Верны ли утверждения?

1 Процесс перехода от рынка совершенной конкуренции к монополизации рынка всегда означает усиление контроля фирмы над рыночной ценой.

2 Развитие рынка в направлении его монополизации всегда связано с концентрацией производства, снижением издержек и повышением качества выпускаемой продукции.

3 В условиях несовершенной конкуренции фирма-монополист максимизирует прибыль не увеличением объема производства и снижением издержек, а выбором оптимального объема продаж при максимально возможном увеличении цен.

4 Предельный доход монополиста всегда уменьшается при прочих равных условиях, поскольку даже в условиях монополизации рынка действует закон спроса.

5 Равновесие фирмы-монополиста в краткосрочном периоде всегда означает минимальные средние издержки на выпускаемую продукцию.

III Задачи

1 Фирма-монополист производит товар. Определив, что ее общая выручка $TR = 100Q - 2Q^2$, а общие издержки $TC = 2Q^2 - 30Q$. Какова величина выпуска и уровень цены монополиста, оптимизирующего производство?

2 Фирма-монополист производит товар. Функция общих издержек составляет $TC = 500Q - Q^2$, функция спроса – $P = 600 - 3Q$. Определите объем выпуска продукции, при котором монополист максимизирует экономическую прибыль.

IV Задания на развитие экономического мышления

1 Что такое «входной барьер» при вступлении на рынок?

2 Каким образом монополия может использовать явление эластичности спроса при максимизации своей прибыли?

3 Зачем применяется индекс Герфиндаля при оценке состояния отраслей народного хозяйства?

4 Почему усложнение производства рождает тенденцию к монополизации рынка?

5 Почему естественная монополия требует государственного регулирования?

6 Почему общество несет потери от несовершенной конкуренции?

V Вопросы для самоконтроля

1 Что такое антитрестовское законодательство?

2 Какова основная цель фирмы-монополиста в условиях рынка несовершенной конкуренции?

3 Что означает монополистическая конкуренция с дифференциацией продукта?

4 Что такое картель? Как называется рынок, где господствует картель?

5 Объясните процесс присвоения монополией излишка потребителя.

6 Что означает ценообразование по принципу «издержки плюс»?

VI Основные понятия

несовершенная конкуренция

монополия

дуополия

олигополия

монопсония

входной барьер

ценовая дискриминация

индекс Герфиндаля

картель

антитрестовский закон

Вариант В

I Тестовые задания

Задание 1 (○ - выберите один вариант ответа)

Что не относится к основным признакам монополии?

- а) воздействие на рыночную цену;
- б) производство уникального продукта, не имеющего заменителей;
- в) большие объемы производства;
- г) блокирование вступления в отрасль.

Задание 2 (○ - выберите один вариант ответа)

Какое явление не характеризует монополистическую конкуренцию?

- а) убывание кривой спроса;
- б) отсутствие взаимной зависимости фирм;
- в) наличие ценовой и неценовой конкуренции;
- г) постоянный предельный доход фирм.

Задание 3 (○ - выберите один вариант ответа)

Назовите форму монополистического объединения, устанавливающего контроль над ценой путем тайного сговора.

- а) трест;
- б) холдинг;
- в) картель;
- г) конгломерат.

Задание 4 (○ - выберите один вариант ответа)

Что означает ситуация закрытой монополии?

- а) крупное предприятие, организованное как закрытое акционерное общество;
- б) невозможность для других фирм производить продукцию фирмы-монополиста по причине отсутствия инвестиционных средств;
- в) деятельность фирмы защищена патентом, дающим право на исключительное производство продукта;
- г) это естественная монополия.

Задание 5 (○ - выберите один вариант ответа)

При какой эластичности спроса монопольные преимущества могут быть наибольшими при прочих равных условиях?

- а) при очень низкой эластичности;
- б) при высокой эластичности;
- в) не имеет значения;
- г) эластичность спроса не имеет серьезного влияния на политику монополии.

Задание 6 (□ – выберите варианты ответов)

Почему в условиях монополизации отрасли считается, что общество несет потери?

- а) монополия может длительное время не увеличивать зарплату и тем самым уменьшать совокупный спрос;
- б) монополия получает прибыль даже при низком уровне технологии производства, и это тормозит технический прогресс;
- в) монополия получает максимум прибыли при меньшем объеме производства, чем тот, который мог бы быть на совершенно конкурентном рынке;
- г) монополия может произвольно увеличивать цены и снижать доходы граждан.

Задание 7 (○ - выберите один вариант ответа)

Что такое двухкомпонентный тариф?

- а) тариф, включающий два компонента: издержки и прибыль;
- б) тариф, действующий по-разному в различные периоды времени;
- в) система ценообразования, при которой пользователи платят фиксированную сумму за право встать на обслуживание, а затем с них взимается плата за потребление продукции;
- г) тариф, в котором предусматривается как оплата за товар, так и впоследствии затраты на его ремонт.

Задание 8 (○ - выберите один вариант ответа)

Почему при контроле за ценой фирма-монополист может попасть в ситуацию снижения общей выручки от продаж?

- а) контроль над ценой зависит от издержек производства;
- б) при определении уровня цены ее дальнейший рост связан с быстрым сокращением спроса;
- в) потому что при постоянном росте цен возникает инфляция;
- г) монополист.

Задание 9 (○ - выберите один вариант ответа)

В чем сущность дискриминации второй степени?

- а) продажа товара по цене, значительно превышающей издержки производства;
- б) использование эластичности спроса при политике завышения цены;

- в) установление различных цен в зависимости от количества выпускаемой продукции;
- г) продажа минимально возможного количества товара по максимально возможной цене.

Задание 10 (○ - выберите один вариант ответа)

Какое явление на рынке определяет индекс Герфиндаля?

- а) средний уровень цен на продукцию предприятий-монополистов;
- б) степень удовлетворения платежеспособного спроса;
- в) уровень доступности фирм на монополизированный рынок;
- г) степень концентрации производства и монополизации отрасли.

II Верны ли утверждения?

1 Равновесие фирмы-монополиста в краткосрочном периоде происходит при равенстве предельного дохода и предельных издержек.

2 Наиболее выгодным для фирмы-монополиста является такой объем производства, когда разница между средними издержками и ценой на рынке достигает максимума.

3 Отрасль, в которой деятельность единственной фирмы более эффективна в силу наличия существенной экономии от масштаба, называется естественной монополией.

4 Олигополия – это тип несовершенной конкуренции, который характеризуется полным отсутствием конкуренции и наиболее высоким уровнем цен.

5 Рыночная ситуация, связанная с тем, что на рынке действует только один покупатель, влияющий на цены, называется монополией.

III Задача

В таблице приведены основные данные по объему продаж, цене и издержкам фирмы-монополиста. При каких условиях будет получена максимальная прибыль?

Q	10	20	30	40	50	60	70	80	90	100	110	120
P _{сп}	10	9,5	9	8,5	8	7,5	7	6,5	6	5,5	5	4
ТС	120	140	165	195	230	268	308	350	400	460	530	610

IV Задания на развитие экономического мышления

- 1 Что такое рынок несовершенной конкуренции?
- 2 Каковы положительные и отрицательные стороны свободной конкуренции?
- 3 Какие методы установления цены использует государство при регулировании тарифов естественных монополий?

4 Почему монополист может продавать продукцию в меньшем объеме, хотя на нее имеется платежеспособный спрос?

5 Что означает неценовая конкуренция?

6 Почему монополия, которая, казалось бы, содержит возможность снижения затрат, вызывает инфляцию? Какой вид инфляции она инициирует?

V Вопросы для самоконтроля

1 Сформулируйте сущность категории «входной барьер» при вступлении в рынок.

2 Назовите виды ценовой дискриминации.

3 Почему в условиях несовершенной конкуренции предельный доход ниже цены?

4 Что такое естественная монополия?

5 Почему необходимо бороться с монополией и с какой целью?

6 Что такое картель и холдинг?

VI Основные понятия

совершенная конкуренция

несовершенная конкуренция

монополия

дуополия

монопсония

ценовая дискриминация

антитрестовское законодательство

индекс Герфиндаля

синдикат

картель

трест

холдинг

концерн

закрытая монополия

Тема 10

Ценообразование на факторы производства

Вариант А

I Тестовые задания

Задание 1 (○ – выберите один вариант ответа)

Фирма - совершенный конкурент на рынке труда будет нанимать дополнительных рабочих до тех пор, пока не достигнет равенства...

- а) $P \times MP_L = w$;
- б) $MRP_L = MRC_L = w$;
- в) $MC \times MR = w$;
- г) $S_L = MRC_L = w$.

Задание 2 (○ – выберите один вариант ответа)

Фирма использует максимальный объём ресурсов, если...

- а) рынок ресурсов и рынок благ совершенно конкурентны;
- б) рынок благ совершенно конкурентный, а рынок ресурсов - монопольный;
- в) рынок благ - монопольный, рынок ресурсов - совершенно конкурентный;
- г) оба рынка монопольные.

Задание 3 (○ – выберите один вариант ответа)

Реальная ставка заработной платы устойчиво возрастает. Это приводит...

- а) к увеличению объёма индивидуального предложения труда;
- б) сначала к увеличению объёма индивидуального предложения труда, затем к его уменьшению;
- в) к уменьшению объёма индивидуального предложения труда;
- г) сначала к уменьшению объёма индивидуального предложения труда, затем к его увеличению.

Задание 4 (○ – выберите один вариант ответа)

Спрос на труд будет более эластичным, если при прочих равных условиях спрос на продукцию данного вида труда...

- а) является неэластичным;
- б) является эластичным;
- в) характеризуется единичной эластичностью;
- г) отсутствует связь между спросом на труд и спросом на продукт.

Задание 5 (□ – выберите варианты ответов)

К основным особенностям рынка труда относятся...

- а) большая продолжительность взаимоотношений продавца и покупателя;
- б) большая роль, которую играют на рынке труда неденежные факторы;
- в) значительное воздействие, которое оказывают на рынок труда различные институциональные структуры;
- г) предложение труда как фактора производства абсолютно неэластично.

Задание 6 (□ – выберите варианты ответов)

Если на рынке труда образовалась монополия, то...

- а) в отрасли будет нанято больше работников, чем в условиях совершенной конкуренции;
- б) в отрасли будет нанято меньше работников, чем в условиях совершенной конкуренции;
- в) заработная плата наёмных рабочих будет ниже по сравнению с условиями совершенной конкуренции;
- г) заработная плата наёмных рабочих будет выше по сравнению с условиями совершенной конкуренции.

Задание 7 (○ – выберите один вариант ответа)

Чистые инвестиции положительны в том случае, если...

- а) возмещение капитала больше валовых инвестиций;
- б) ставка ссудного процента больше ставки рефинансирования;
- в) оборотный капитал превышает основной капитал;
- г) валовые инвестиции больше возмещения капитала.

Задание 8 (○ – выберите один вариант ответа)

К основному капиталу относятся...

- а) средства на счетах предприятий;
- б) государственные облигации;
- в) денежные остатки в кассе предприятия;
- г) машины и оборудование.

Задание 9 (○ – выберите один вариант ответа)

Чистая дисконтированная ценность (стоимость)...

- а) превышает текущую стоимость (сегодняшнюю ценность) доходов;
- б) меньше текущей стоимости (сегодняшней ценности) доходов на величину инвестиций;
- в) не учитывает альтернативные издержки использования капитала;
- г) равна чистой будущей дисконтированной стоимости (ценности).

Задание 10 (□ – выберите варианты ответов)

Арендная плата включает в себя...

- а) ренту;
- б) затраты на возмещение капитальных вложений;
- в) предпринимательскую прибыль;
- г) процент на вложенный капитал.

II Верны ли утверждения?

1 Коммерческая фирма купила сырье и оборудование в начале года и получила доход в конце года. Разница между доходами и издержками в денежном выражении равна экономической прибыли фирмы.

2 Сегодняшняя ценность капитала зависит от того, что капитал может произвести в будущем.

3 Монополия и профсоюз заинтересованы в сокращении занятости по сравнению с конкурентным рынком труда.

4 Установление государством минимальной границы заработной платы выше равновесной ставки зарплаты приводит к возникновению дефицита рабочей силы.

5 Поток дохода от фактора производства «капитал» называется процентом.

III Задачи

1 Владелец подвала сдал его в аренду фирме на 3 года и будет получать в конце каждого года доход в размере: 110, 121 и 133 тыс. р. соответственно. Ставка банковского процента равна 10%. Определите дисконтированную стоимость (PV) подвала.

2 Участок земли приносит его собственнику годовую ренту в размере 20 тыс. р. Определите цену данного участка земли, если рыночная ставка процента равна 10%.

3 В результате инвестиций в размере 10 тыс. р. в начале года ожидается получение фиксированного дохода в 1,5 тыс. р. ежегодно в конце каждого года. Выгодны ли такие инвестиции, если ставка банковского процента равна 10%? Чему равна внутренняя норма прибыли (IRR) такого проекта?

4 Для покупки нового оборудования, которое будет служить один год и принесет дополнительный доход в 1,5 тыс. дол., необходимо затратить 200 тыс. дол. Фирма осуществит инвестиции при условии, что максимальный размер процентной ставки по вкладам в банке не превысит ____ %. Покажите ход решения задачи.

5 Спрос на землю равен $Q_D = 1800 - 3R$, где R - земельная рента за один га. Площадь земельного участка составляет $Q_S = 1500$ га. Определите уровень земельной ренты и цену одного га земли при банковской ставке 5%.

IV Задания на развитие экономического мышления

1 Почему уровень занятости и ставка заработной платы неизвестны в случае двусторонней монополии на рынке труда?

2 Строительная компания приобрела участок земли под застройку жилых домов и сдачу квартир внаем. Будет ли доход, получаемый строительной компанией от сдачи построенного жилья внаем, являться земельной рентой? Обоснуйте ответ.

V Вопросы для самоконтроля

- 1 Почему спрос на факторы производства является производным и взаимозависимым?
- 2 В чем суть правил наименьших издержек и максимизации прибыли?
- 3 Кто является субъектами спроса и предложения на услуги труда?
- 4 Назовите основные особенности рынка труда.
- 5 В чем разница между понятиями «номинальная заработная плата» и «реальная заработная плата»?
- 6 Объясните наклон кривых спроса и предложения услуг труда.
- 7 Объясните форму кривой индивидуального предложения труда.
- 8 Перечислите причины дифференциации ставок заработной платы.
- 9 Дайте определение понятия «капитал».
- 10 Дайте определение понятия «амортизация основного капитала».
- 11 Объясните наклон кривых спроса и предложения на рынке услуг физического капитала и на рынке заёмных средств.
- 12 Чем является ставка процента на рынке заёмных средств?
- 13 В чём суть процедуры дисконтирования?
- 14 Что отличает фактор производства «земля» от других факторов производства?
- 15 Объясните форму кривой предложения земли.
- 16 Дайте определение понятия «дифференциальная земельная рента».

VI Основные понятия

производный и взаимозависимый спрос на факторы производства
предельная доходность и издержки ресурсов
оптимальное соотношение ресурсов
правила наименьших издержек и максимизации прибыли
субъекты спроса и предложения на услуги труда
ставка заработной платы
номинальная и реальная заработная плата
спрос на труд
предложение труда
индивидуальное предложение труда
дифференциация ставок заработной платы
неконкурирующие группы на рынке труда
компенсационные различия в заработной плате
капитал как фактор производства
физический капитал и капитальные активы
услуги капитала
основной и оборотный капитал
амортизация основного капитала
норма амортизации
окольные методы производства

чистая производительность капитала
уровень дохода на капитал
рентная оценка
минимально приемлемая рентная оценка
предельная альтернативная стоимость (издержки упущенных возможностей)
капитала
временное предпочтение
предельная норма временного предпочтения
ставка процента (номинальная и реальная)
предельная доходность инвестиций
дисконтирование
сегодняшняя ценность
будущая ценность
чистая дисконтированная ценность
внутренняя норма дохода
межвременное бюджетное ограничение
земля как фактор производства
особенности рынка невозобновляемых ресурсов
производный спрос на землю
услуги земли
земельная рента
дифференциальная земельная рента
неэластичность предложения услуг земли
цена земли

Вариант Б

I Тестовые задания

Задание 1 (○ – выберите один вариант ответа)

Увеличение ставки заработной платы привело к снижению предложения труда. Это возможно, если...

- а) на рынке труда существует монополия;
- б) на рынке труда существует монопосония;
- в) эффект дохода превысит эффект замещения;
- г) эффект замещения превысит эффект дохода.

Задание 2 (○ – выберите один вариант ответа)

Доля ренты в выплате по труду достигнет 100% при совершенно...

- а) неэластичном предложении труда;
- б) эластичном предложении труда;

- в) неэластичном спросе на труд;
- г) эластичном спросе на труд.

Задание 3 (□ – выберите варианты ответов)

Для рынка труда справедливы утверждения...

- а) размер ставок заработной платы для профессий, не требующих специальной подготовки, ниже по сравнению с размером ставок заработной платы квалифицированных рабочих;
- б) эластичность предложения услуг труда неквалифицированной рабочей силы ниже, чем квалифицированной;
- в) размер ставок заработной платы для профессий, не требующих специальной подготовки, выше по сравнению с размером ставок заработной платы квалифицированных рабочих;
- г) эластичность предложения услуг труда неквалифицированной рабочей силы выше, чем квалифицированной.

Задание 4 (○ – выберите один вариант ответа)

Для монополиста ставка заработной платы...

- а) выше, если бы фирма была ценополучателем фактора производства;
- б) равна предельным факторным издержкам;
- в) минимальна для найма объема труда, максимизирующего прибыль;
- г) выше предельных факторных издержек.

Задание 5 (□ – выберите варианты ответов)

К основным особенностям рынка труда относятся...

- а) большая продолжительность взаимоотношений продавца и покупателя;
- б) большая роль, которую играют на рынке труда неденежные факторы;
- в) значительное воздействие, которое оказывают на рынок труда различные институциональные структуры;
- г) предложение труда как фактора производства абсолютно неэластично.

Задание 6 (□ – выберите варианты ответов)

К внеконкурентным факторам на рынке труда относятся...

- а) пенсионные фонды;
- б) крупные корпорации;
- в) профсоюзы;
- г) государство.

Задание 7 (○ – выберите один вариант ответа)

К оборотному капиталу относится...

- а) токарный станок;
- б) запас готовой продукции;
- в) производственные помещения;
- г) верны все варианты.

Задание 8 (○ – выберите один вариант ответа)

Прибыль инвестиций максимальна, когда...

- а) $IRR > i$;
 - б) $IRR < i$;
 - в) $IRR = i$;
 - г) $IRR \neq i$,
- где IRR – внутренняя норма отдачи, а i – рыночная ставка процента.

Задание 9 (○ – выберите один вариант ответа)

В большинстве экономически развитых странах площадь сельскохозяйственных земель за последние несколько десятилетий...

- а) увеличивалась;
- б) не менялась;
- в) уменьшалась;
- г) циклически изменялась.

Задание 10 (□ – выберите варианты ответов)

Уменьшение в данной стране таможенных тарифов на ввоз продуктов питания, скорее всего...

- а) увеличит сельскохозяйственный спрос на землю в данной стране;
- б) приведет к росту импорта продуктов питания;
- в) не изменит сельскохозяйственный спрос на землю в данной стране;
- г) уменьшит сельскохозяйственный спрос на землю в данной стране.

II Верны ли утверждения?

- 1 Чистые инвестиции – это общий приток капитала в данном году.
- 2 Потребитель всегда предпочитает будущее потребление текущему.
- 3 Срок окупаемости инвестиционного проекта равен минимальному числу периодов, необходимых для того, чтобы текущая ценность потоков чистого дохода сравнялась с величиной инвестиций.
- 4 Дисконтирование – это приведение экономических показателей будущих лет к сегодняшней стоимости.
- 5 Предельная норма межвременного предпочтения – это стоимость возмещаемого капитала в будущем.

III Задачи

1 Владелец склада сдал его в бессрочную аренду с ежегодной рентой 110 тыс. р. Ставка банковского процента $i = 10\%$. Чему равен дисконтированный доход?

2 Арендная плата за участок земли - 3600 дол. в год, банковская ставка процента равна 10% годовых. Вам предложили купить этот участок земли за 20000 дол. Определите: 1) стоит ли соглашаться, если вы полностью располагаете данной суммой, 2) стоит ли соглашаться, если вы располагаете только 10000 дол.

3 Фирма решила купить автомобиль, который в течение четырех лет будет приносить ей ежегодно доход в размере 10000 дол. и затем будет продан за 10000 дол., рыночная ставка процента равна 10%. Фирме сегодня следует купить автомобиль, если его цена не превышает ____ дол. Покажите ход решения задачи.

4 Объём ствола дерева равен $B = 90\sqrt{t}$, где t – время роста в годах. Наклон кривой предложения в любой ее точке составляет $\Delta B/\Delta t = 45\sqrt{t}$. Годовая ставка процента равна 2%. С какого возраста дерево можно подвергать вырубке? Покажите ход решения задачи.

5 Спрос на землю равен: $Q_D = 100 - 2R$. Площадь земельного участка составляет $Q_S = 80$ га. Какова цена (P) 1 га земли при ставке 10%?

IV Задания на развитие экономического мышления

1 С помощью известных вам понятий экономической теории охарактеризуйте высказывание известного мыслителя первого века до нашей эры Тита Ливия: «Хотя труд и наслаждение различны по своей природе, все же между ними имеется какая-то естественная связь». Каким известным вам графиком из темы «Ценообразование на факторы производства» можно проиллюстрировать эту мысль?

2 Некоторые экономисты утверждают, что проникновение профсоюзов в отрасль, в которую они хотят попасть, подобно обложению отрасли налогом. Объясните, почему это может быть так.

V Вопросы для самоконтроля

1 Почему спрос на факторы производства является производным и взаимозависимым?

2 В чем суть правил наименьших издержек и максимизации прибыли?

3 Кто является субъектами спроса и предложения на услуги труда?

4 Назовите основные особенности рынка труда.

5 В чем разница между понятиями «номинальная заработная плата» и «реальная заработная плата»?

6 Объясните наклон кривых спроса и предложения услуг труда.

7 Объясните форму кривой индивидуального предложения труда.

- 8 Перечислите причины дифференциации ставок заработной платы.
- 9 Дайте определение понятия «капитал».
- 10 Дайте определение понятия «амортизация основного капитала».
- 11 Объясните наклон кривых спроса и предложения на рынке услуг физического капитала и на рынке заёмных средств.
- 12 Чем является ставка процента на рынке заёмных средств?
- 13 В чём суть процедуры дисконтирования?
- 14 Что отличает фактор производства «земля» от других факторов производства?
- 15 Объясните форму кривой предложения земли.
- 16 Дайте определение понятия «дифференциальная земельная рента».

VI Основные понятия

производный и взаимозависимый спрос на факторы производства
 предельная доходность и издержки ресурсов
 оптимальное соотношение ресурсов
 правила наименьших издержек и максимизации прибыли
 субъекты спроса и предложения на услуги труда
 ставка заработной платы
 номинальная и реальная заработная плата
 спрос на труд
 предложение труда
 индивидуальное предложение труда
 дифференциация ставок заработной платы
 неконкурирующие группы на рынке труда
 компенсационные различия в заработной плате
 капитал как фактор производства
 физический капитал и капитальные активы
 услуги капитала
 основной и оборотный капитал
 амортизация основного капитала
 норма амортизации
 окольные методы производства
 чистая производительность капитала
 уровень дохода на капитал
 рентная оценка
 минимально приемлемая рентная оценка
 предельная альтернативная стоимость (издержки упущенных возможностей)
 капитала
 временное предпочтение
 предельная норма временного предпочтения
 ставка процента (номинальная и реальная)
 предельная доходность инвестиций
 дисконтирование

сегодняшняя ценность
будущая ценность
чистая дисконтированная ценность
внутренняя норма дохода
межвременное бюджетное ограничение
земля как фактор производства
особенности рынка невозобновляемых ресурсов
производный спрос на землю
услуги земли
земельная рента
дифференциальная земельная рента
неэластичность предложения услуг земли
цена земли

Вариант В

I Тестовые задания

Задание 1 (○ – выберите один вариант ответа)

При повышении номинальной ставки процента внутренняя норма отдачи инвестиционного проекта...

- а) возрастает;
- б) снижается;
- в) не зависит от ставки процента;
- г) может расти или сокращаться только в зависимости от реальной, но не номинальной ставки процента.

Задание 2 (○ – выберите один вариант ответа)

Фирма использует максимальный объём ресурсов, если...

- а) рынок ресурсов и рынок благ совершенно конкурентны;
- б) рынок благ совершенно конкурентный, а рынок ресурсов - монопольный;
- в) рынок благ - монопольный, рынок ресурсов - совершенно конкурентный;
- г) оба рынка монопольные.

Задание 3 (□ – выберите варианты ответов)

К особенностям рынков невозпроизводимых полезных ископаемых относится то, что...

- а) на их добычу не распространяется закон убывающей предельной отдачи;
- б) рента воздействует на экономический потенциал;
- в) рента выполняет функцию, стимулирующую предложение;

г) спрос выступает единственным действенным фактором, определяющим их цену.

Задание 4 (○ – выберите один вариант ответа)

Спрос на труд будет более эластичным, если при прочих равных условиях спрос на продукцию данного вида труда...

- а) является неэластичным;
- б) является эластичным;
- в) характеризуется единичной эластичностью;
- г) отсутствует связь между спросом на труд и спросом на продукт.

Задание 5 (□ – выберите варианты ответов)

К основным особенностям рынка труда относятся...

- а) большая продолжительность взаимоотношений продавца и покупателя;
- б) большая роль, которую играют на рынке труда неденежные факторы;
- в) значительное воздействие, которое оказывают на рынок труда различные институциональные структуры;
- г) предложение труда как фактора производства абсолютно неэластично.

Задание 6 (□ – выберите один вариант ответа)

Конкуренстная фирма, стремящаяся максимизировать прибыль, увеличивает спрос на труд, если...

- а) $AP_L = const$;
- б) $MRP_L = MFC_L$;
- в) $MRP_L > w$;
- г) $MRP_L < MFC_L$.

Задание 7 (○ – выберите один вариант ответа)

Чистые инвестиции положительны в том случае, если...

- а) возмещение капитала больше валовых инвестиций;
- б) ставка ссудного процента больше ставки рефинансирования;
- в) оборотный капитал превышает основной капитал;
- г) валовые инвестиции больше возмещения капитала.

Задание 8 (○ – выберите один вариант ответа)

К основному капиталу относятся...

- а) средства на счетах предприятий;
- б) государственные облигации;

- в) денежные остатки в кассе предприятия;
- г) машины и оборудование.

Задание 9 (○ – выберите один вариант ответа)

Для монополии предельные расходы на труд по отношению к заработной плате...

- а) выше;
- б) равны;
- в) ниже;
- г) ничего определенного сказать нельзя.

Задание 10 (□ – выберите варианты ответов)

К причинам неравенства заработной платы в условиях совершенной конкуренции относится...

- а) существенное различие видов труда;
- б) наплыв нелегальных мигрантов;
- в) неравенство качественных характеристик рабочих;
- г) отсутствие абсолютной мобильности рабочей силы.

II Верны ли утверждения?

1 Предложение земли неэластично.

2 Наёмные рабочие являются в целом менее мобильной рабочей силой, чем фермеры.

3 Капитал отличается от земли тем, что обладает способностью к воспроизводству.

4 В условиях совершенной конкуренции существует тенденция к установлению единой ставки ссудного процента.

5 Поток дохода от фактора производства «предпринимательство» называется процентом.

III Задачи

1 Предложение участка земли равно $Q^S = 120$, сельскохозяйственный спрос на данный участок земли составляет $Q^D_A = 120 - P$, несельскохозяйственный спрос на данный участок земли - $Q^D_B = 60 - P$. Определите цену земли, если участок будет продаваться.

2 Продается мельница, которая в ближайшие 5 лет принесет годовые доходы: 150, 160, 170, 160 и 150 р. Сколько стоит заплатить за мельницу, если известно, что депозитная ставка процента в эти годы равна 5%, 6%, 7%, 6%, 6% соответственно.

3 Экономический агент поставлен перед выбором: сберечь имеющиеся у него 10 тыс. р. или потратить. Если он положит деньги в банк, то получит через год 11,4 тыс. р. Инфляция за этот же период времени составит 12%.

Определите размер номинальной и реальной ставки процента.

4 Производственная функция фирмы, являющейся совершенным конкурентом, выглядит как $Q = 200L^{0,5}$, где L – количество рабочих. Цена готовой продукции - 3 дол., а уровень заработной платы - 30 дол. (рынок труда тоже совершенно конкурентный). Определите, сколько рабочих наймет фирма, максимизирующая свою прибыль.

5 Покупная цена механизма равна 9 тыс. р. Какой должна быть сумма арендной платы за этот механизм при годовой ставке 8%, норме технического обслуживания 2% и норме амортизации 20%?

IV Задания на развитие экономического мышления

1 Объясните, что, по вашему мнению, имел в виду знаменитый предприниматель и меценат второй половины XIX в. Савва Морозов: «Наш промышленник - слепой человек. Его ослепляет неисчислимое богатство страны сырьем и рабочими руками». Актуальны ли его слова для современной России?

2 Прокомментируйте афоризм первого в истории долларового миллиардера Джона Дэвисона Рокфеллера: «Кто работает целый день, тому некогда зарабатывать деньги».

V Вопросы для самоконтроля

1 Почему спрос на факторы производства является производным и взаимозависимым?

2 В чем суть правил наименьших издержек и максимизации прибыли?

3 Кто является субъектами спроса и предложения на услуги труда?

4 Назовите основные особенности рынка труда.

5 В чем разница между понятиями «номинальная заработная плата» и «реальная заработная плата»?

6 Объясните наклон кривых спроса и предложения услуг труда.

7 Объясните форму кривой индивидуального предложения труда.

8 Перечислите причины дифференциации ставок заработной платы.

9 Дайте определение понятия «капитал».

10 Дайте определение понятия «амортизация основного капитала».

11 Объясните наклон кривых спроса и предложения на рынке услуг физического капитала и на рынке заёмных средств.

12 Чем является ставка процента на рынке заёмных средств?

13 В чём суть процедуры дисконтирования?

14 Что отличает фактор производства «земля» от других факторов производства?

15 Объясните форму кривой предложения земли.

16 Дайте определение понятия «дифференциальная земельная рента».

VI Основные понятия

производный и взаимозависимый спрос на факторы производства
предельная доходность и издержки ресурсов
оптимальное соотношение ресурсов
правила наименьших издержек и максимизации прибыли
субъекты спроса и предложения на услуги труда
ставка заработной платы
номинальная и реальная заработная плата
спрос на труд
предложение труда
индивидуальное предложение труда
дифференциация ставок заработной платы
неконкурирующие группы на рынке труда
компенсационные различия в заработной плате
капитал как фактор производства
физический капитал и капитальные активы
услуги капитала
основной и оборотный капитал
амортизация основного капитала
норма амортизации
окольные методы производства
чистая производительность капитала
уровень дохода на капитал
рентная оценка
минимально приемлемая рентная оценка
предельная альтернативная стоимость (издержки упущенных возможностей) капитала
временное предпочтение
предельная норма временного предпочтения
ставка процента (номинальная и реальная)
предельная доходность инвестиций
дисконтирование
сегодняшняя ценность
будущая ценность
чистая дисконтированная ценность
внутренняя норма дохода
межвременное бюджетное ограничение
земля как фактор производства
особенности рынка невозобновляемых ресурсов
производный спрос на землю
услуги земли
земельная рента
дифференциальная земельная рента
неэластичность предложения услуг земли
цена земли

Вариант Г

I Тестовые задания

Задание 1 (○ – выберите один вариант ответа)

Предельные издержки фактора аренды для фирмы, которая не способна оказывать влияние на цены...

- а) больше средних общих (валовых) издержек фирмы;
- б) хороший индикатор выгод, которые получает фирма, используя дополнительную единицу фактора;
- в) постоянны;
- г) должны быть всегда равны предельному доходу для определения оптимального объёма выпуска.

Задание 2 (○ – выберите один вариант ответа)

Альтернативными издержками рассматриваемого инвестиционного проекта являются...

- а) ожидаемые издержки проекта;
- б) ожидаемый эффект от лучшего альтернативного проекта;
- в) дисконтированные издержки проекта;
- г) ставка рефинансирования Центрального банка РФ.

Задание 3 (□ – выберите варианты ответов)

К особенностям рынков невозпроизводимых полезных ископаемых относится то, что...

- а) на их добычу не распространяется закон убывающей предельной отдачи;
- б) рента воздействует на экономический потенциал;
- в) рента выполняет функцию, стимулирующую предложение;
- г) спрос выступает единственным действенным фактором, определяющим их цену.

Задание 4 (○ – выберите один вариант ответа)

Предельная факторная выручка определяет...

- а) спрос на факторы производства;
- б) предложение факторов производства;
- в) издержки производства;
- г) спрос на товары, которые производятся при помощи данного фактора.

Задание 5 (□ – выберите варианты ответов)

К основным особенностям рынка труда не относятся...

- а) большая продолжительность взаимоотношений продавца и покупателя;
- б) большая роль, которую играют на рынке труда неденежные факторы;
- в) спрос на труд не является взаимозависимым спросом;
- г) предложение труда как фактора производства абсолютно неэластично.

Задание 6 (□ – выберите варианты ответов)

Если на рынке труда образовалась монопсония, то...

- а) в отрасли будет нанято больше работников, чем в условиях совершенной конкуренции;
- б) в отрасли будет нанято меньше работников, чем в условиях совершенной конкуренции;
- в) заработная плата наёмных рабочих будет ниже по сравнению с условиями совершенной конкуренции;
- г) заработная плата наёмных рабочих будет выше по сравнению с условиями совершенной конкуренции.

Задание 7 (○ – выберите один вариант ответа)

Собственники факторов производства не получают ренты...

- а) при совершенно эластичном предложении;
- б) при совершенно неэластичном предложении;
- в) при единичной эластичности;
- г) при совершенно неэластичном спросе.

Задание 8 (○ – выберите один вариант ответа)

Фирма-монополист на рынке готовой продукции будет нанимать дополнительных рабочих на конкурентном рынке труда, пока не установится равенство...

- а) $P \times MPL = w$;
- б) $MR \times MPL = w$;
- в) $MC \times MR = w$;
- г) $MR/MPL = w$.

Задание 9 (○ – выберите один вариант ответа)

От введения закона о минимальной заработной плате выиграют...

- а) все работники;
- б) все предприниматели;
- в) предприниматели, которые уволили работников после принятия закона;
- г) работники, которые имеют работу после принятия закона.

Задание 10 (□ – выберите варианты ответов)

К основному капиталу не относится...

- а) производственные помещения;
- б) металлопрокат;
- в) денежные средства на текущих счетах фирмы;
- г) токарный станок.

II Верны ли утверждения?

1 Факторами, влияющими на предложение земли, являются ее территориальное положение, плодородие.

2 Собственники повышают арендную плату, мотивируя это улучшенными качествами земли и развитой инфраструктурой.

3 Промышленное производство более предсказуемо, чем сельскохозяйственное производство.

4 Закрытый профсоюз заинтересован в расширении занятости.

5 Фондоёмкость равна отношению фондовооруженности к производительности труда.

III Задачи

1 На рынке труда предложение труда задано функцией $Q_L^S = -60 + 80W$; спрос на труд - $Q_L^D = 100 - 20W$. Определите равновесный уровень заработной платы (W) и равновесное количество труда (L).

2 Фирма - совершенный конкурент на рынке продукции покупает труд на совершенно конкурентном рынке труда. Цена на продукцию фирмы равна 60. Рыночная цена аренды капитала составляет 30. Производственная функция фирмы - $Q = (KL)^{0.5}$. Определите цену, по которой фирма будет покупать труд в долгосрочном периоде.

3 Фермер, работая на своем участке земли, получает ежегодный доход в размере 1000 евро. Определите, чему равна ежегодная бухгалтерская и экономическая прибыль, если ставка банковского процента равна 10%, а валовые (общие) ежегодные издержки на обработку земли составляют 500 евро.

Сделайте вывод, стоит ли фермеру продать свой земельный участок?

4 Участок земли дает ежегодную ренту в размере 100 р. Инвестиции в начале года в размере 10 р. увеличивают доход владельца земли до 110 р. в год. Определите, при какой ставке процента (r) возможность увеличения ежегодного дохода земли не изменит ее цену.

5 Использование машины способствует получению 121 р. дохода ежегодно в течение последующих двух лет, после чего она должна быть сдана в утиль за 242 р. Годовая ставка процента равна 10%. При каком максимальном доходе можно приобрести данную машину?

IV Задания на развитие экономического мышления

1 Прокомментируйте высказывание экономиста XVII века, одного из родоначальников классической политэкономии У. Петти о том, что «труд есть отец богатства, а земля его мать».

2. Что, по вашему мнению, имел в виду Фридрих Хайек сказав, что «погоня за прибылью - единственный способ, при помощи которого люди могут удовлетворять потребности тех, кого они вовсе не знают».

V Вопросы для самоконтроля

1 Почему спрос на факторы производства является производным и взаимозависимым?

2 В чем суть правил наименьших издержек и максимизации прибыли?

3 Кто является субъектами спроса и предложения на услуги труда?

4 Назовите основные особенности рынка труда.

5 В чем разница между понятиями «номинальная заработная плата» и «реальная заработная плата»?

6 Объясните наклон кривых спроса и предложения услуг труда.

7 Объясните форму кривой индивидуального предложения труда.

8 Перечислите причины дифференциации ставок заработной платы.

9 Дайте определение понятия «капитал».

10 Дайте определение понятия «амортизация основного капитала».

11 Объясните наклон кривых спроса и предложения на рынке услуг физического капитала и на рынке заёмных средств.

12 Чем является ставка процента на рынке заёмных средств?

13 В чём суть процедуры дисконтирования?

14 Что отличает фактор производства «земля» от других факторов производства?

15 Объясните форму кривой предложения земли.

16 Дайте определение понятия «дифференциальная земельная рента».

VI Основные понятия

производный и взаимозависимый спрос на факторы производства

предельная доходность и издержки ресурсов

оптимальное соотношение ресурсов

правила наименьших издержек и максимизации прибыли

субъекты спроса и предложение на услуги труда

ставка заработной платы

номинальная и реальная заработная плата
спрос на труд
предложение труда
индивидуальное предложение труда
дифференциация ставок заработной платы
неконкурирующие группы на рынке труда
компенсационные различия в заработной плате
капитал как фактор производства
физический капитал и капитальные активы
услуги капитала
основной и оборотный капитал
амортизация основного капитала
норма амортизации
окольные методы производства
чистая производительность капитала
уровень дохода на капитал
рентная оценка
минимально приемлемая рентная оценка
предельная альтернативная стоимость (издержки упущенных возможностей)
капитала
временное предпочтение
предельная норма временного предпочтения
ставка процента (номинальная и реальная)
предельная доходность инвестиций
дисконтирование
сегодняшняя ценность
будущая ценность
чистая дисконтированная ценность
внутренняя норма дохода
межвременное бюджетное ограничение
земля как фактор производства
особенности рынка невозобновляемых ресурсов
производный спрос на землю
услуги земли
земельная рента
дифференциальная земельная рента
неэластичность предложения услуг земли
цена земли

Тема 11

Фирма как рыночный агент

Вариант А

I Тестовые задания

Задание 1 (○ - выберите один вариант ответа)

Что из перечисленного следует отнести к существенным характеристикам такого явления, как «фирма»?

- а) размер;
- б) имущественная ответственность;
- в) наличие товарной марки;
- г) нацеленность на максимизацию прибыли;
- д) все перечисленное.

Задание 2 (○ - выберите один вариант ответа)

Какие из фирм будут располагать большей свободой действий при установлении цен на свою продукцию?

- а) одна из трех компаний данной отрасли;
- б) единственный производитель товара, для которого существует множество заменителей;
- в) единственный производитель товара, для которого не существует заменителей;
- г) одна из трех фирм данной отрасли.

Задание 3 (○ - выберите один вариант ответа)

Акционерное общество является юридическим лицом. Это означает, что оно...

- а) не имеет права заключать контракт от своего имени;
- б) не может иметь собственного имущества, обособленного от имущества своих акционеров;
- в) наиболее распространенная форма организации бизнеса;
- г) имеет право заключать контракты и обращаться в суд в качестве истца и ответчика.

Задание 4 (○ - выберите один вариант ответа)

К фирмам, классифицируемым как объединения лиц, относятся...

- а) акционерные общества;
- б) корпорации;

- в) полные товарищества;
- г) общества с ограниченной ответственностью.

Задание 5 (○ - выберите один вариант ответа)

Какие из приведенных ниже признаков отражают специфику неоклассической трактовки фирмы?

- а) оптимизация издержек производства;
- б) оптимизация издержек по осуществлению рыночных операций;
- в) оптимизация условий экономического роста;
- г) рациональное поведение;
- д) наличие управленческих издержек.

Задание 6 (○ - выберите один вариант ответа)

Какие из приведенных ниже признаков отражают специфику институциональной трактовки фирмы?

- а) оптимизация издержек производства;
- б) оптимизация издержек по осуществлению рыночных операций;
- в) оптимизация условий экономического роста;
- г) рациональное поведение;
- д) наличие управленческих издержек.

Задание 7 (○ - выберите один вариант ответа)

Какие из приведенных ниже признаков отражают специфику эволюционной трактовки фирмы?

- а) оптимизация издержек производства;
- б) оптимизация издержек по осуществлению рыночных операций;
- в) оптимизация условий экономического роста;
- г) рациональное поведение;
- д) наличие управленческих издержек.

Задание 8 (○ - выберите один вариант ответа)

Если фирма стремится к максимизации прибыли, то она может добиться этого, если будет...

- а) осуществлять объем выпуска, при котором предельные издержки производства равны предельной выручке от реализации продукта;
- б) осуществлять объем предложения продукта, при котором обеспечивается получение фирмой максимальной предельной выручки;

- в) выбирать комбинацию цены и объема на неэластичном участке рыночного спроса;
- г) продавать по максимально высоким ценам;
- д) осуществлять выпуск, при котором средние издержки производства являются минимальными.

Задание 9 (○ - выберите один вариант ответа)

Когда экономисты используют понятие «отраслевой рынок», то они понимают под этим...

- а) группировку фирм, использующих одинаковые ресурсы;
- б) номенклатуру продукции, производимую отдельной отраслью;
- в) группу фирм, производящих взаимодополняющие продукты;
- г) группу фирм, производящих взаимозаменяемые продукты;
- д) группу фирм, характеризующихся общими организационными признаками.

Задание 10 (○ - выберите один вариант ответа)

Какие из нижеперечисленных характеристик используются экономистами для определения типа рыночной структуры?

- а) количество продавцов и характер распределения рынка между ними;
- б) степень однородности продукта, реализуемого разными фирмами;
- в) характер взаимодействия участников рынка;
- г) высота отраслевых барьеров;
- д) все перечисленное.

II Верны ли утверждения?

1 Собственник фирмы, организованной как партнерство, несет, в отличие от собственника индивидуальной фирмы, ограниченную ответственность за действие фирмы.

2 Для привлечения финансовых средств фирма, организованная в форме партнерства, может выпускать как акции, так и облигации.

3 Врач, имеющий частную практику, не является фирмой.

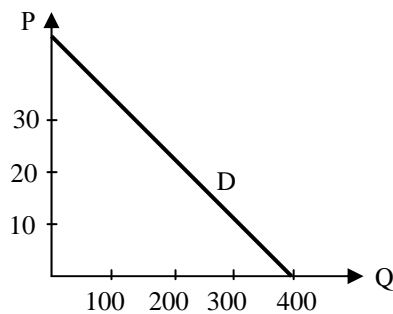
4 Когда владелец фирмы работает в ней менеджером и получает зарплату, то эта зарплата должна рассматриваться как элемент внешних издержек.

5 Парадокс прибыли означает, что в долгосрочном периоде каждая фирма получает только нормальную прибыль.

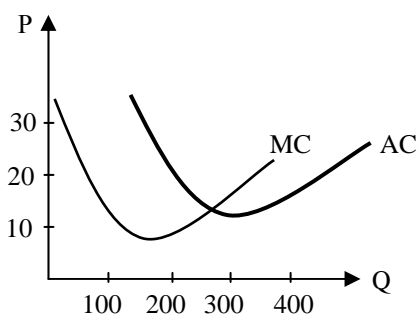
III Задачи

1 На приведенном рисунке показана линия спроса (D) на продукт фирмы. Определите, при каком объеме выпуска эластичность спроса на продукт фирмы

становится единичной ($Q_{E(P)=-1}$), а также вычислите объем выпуска фирмы, при котором она будет максимизировать общую выручку ($Q_{TR=\max}$), считая предельные издержки производства равными нулю.



2 На рисунке представлены средние (AC) и предельные (MC) издержки производства фирмы. Если фирма стремится к максимизации прибыли, то каким будет для нее оптимальный объем выпуска (Q^*) при рыночной цене продукта, равной 25. Какой величины прибыль (Π) получит при этом фирма?



IV Задание на развитие экономического мышления

Преподаватель экономической теории получил предложение прочитать для своих коллег ряд лекций по микроэкономике. Ему обещают за эту работу оплату на условиях «зарплата + 15%».

Какие из нижеперечисленных статей расходов он должен с экономической точки зрения включить в свои затраты и почему:

- а) затраты на покупку ряда зарубежных «экономиксов» для самоподготовки;
- б) затраты на изучение в средней школе английского языка, необходимого для чтения зарубежных учебников;
- в) затраты на питание его и его семьи в период подготовки и чтения лекций;
- г) расходы на билеты в детский театр, чтобы его дети не мешали ему готовиться к работе;
- д) расходы на кооперативную квартиру, в которой происходит подготовка к лекциям;
- е) оплата посещения бассейна, куда преподаватель периодически ходит для снятия нервного напряжения;
- ж) расходы на покупку компьютера, на котором преподаватель решает задачи к лекциям;

з) затраты преподавателя на обучение высшей математике в вузе, которая необходима для решения микроэкономических задач.

V Вопросы для самоконтроля

1 Что такое фирма? Приведите примеры фирм. Можно ли назвать юриста, имеющего частную практику, фирмой?

2 Чем можно объяснить чрезвычайное многообразие форм и размеров фирм? Почему одни фирмы растут быстро, а другие медленно? Почему все общество не превращается в одну огромную фирму?

3 Перечислите основные типы деловых предприятий. В чем их достоинства и недостатки?

4 Как вы думаете, в какой степени цель фирмы заключается в максимизации прибыли? Всегда ли фирма должна стремиться к максимальной прибыли, а не (например) к улучшению социальных условий, спонсированию искусства или политических кампаний?

5 «Менеджеры фирмы, как правило, не знают предельных издержек. В таком случае нет смысла говорить о законе оптимального производства при равенстве предельного дохода предельным издержкам». Так ли это?

6 Фирмы, производящие себе в убыток, должны обязательно сразу закрыться. Всегда ли это верно?

7 Какие фирмы преобладают в современном рыночном хозяйстве: допредельные, предельные или запредельные? Какие фирмы преобладали в условиях командной экономики?

VI Основные понятия

фирма

классический контракт

неоклассический контракт

отношенческий или имплицитный контракт

общие ресурсы

специфические ресурсы

интерспецифические ресурсы

частнопредпринимательская фирма

партнерство

корпорация

индивидуальное предпринимательство

товарищество

кооператив

акционерное общество

конгломерат

Вариант Б

I Тестовые задания

Задание 1 (○ - выберите один вариант ответа)

Если американские корпорации ориентируются на максимизацию прибыли, то японские – на максимизацию объема продаж. Это ведет...

- а) к повышению цен на товары японских фирм;
- б) к частому разорению японских фирм;
- в) к росту издержек производства товаров американских фирм;
- г) к снижению цен на товары японских фирм.

Задание 2 (○ - выберите один вариант ответа)

Если фирма является запредельной, то ее владелец должен стремиться...

- а) минимизировать масштабы производства;
- б) наращивать масштабы производства;
- в) удерживать производство на таком уровне, чтобы $MC=AVC$;
- г) продать свою фирму.

Задание 3 (○ - выберите один вариант ответа)

Постоянными факторами производства для фирмы являются факторы...

- а) не влияющие на спрос данного товара;
- б) фиксированные при различном выпуске продукции;
- в) с постоянной ценой;
- г) определяемые размерами фирмы.

Задание 4 (○ - выберите один вариант ответа)

Какой признак из перечисленных ниже является характерным только для корпорации...

- а) привлечение к управлению наемных менеджеров;
- б) деление прибыли между собственниками фирмы;
- в) выплата дивидендов;
- г) использование наемного труда?

Задание 5 (○ - выберите один вариант ответа)

Изменение цены одного из факторов производства повлияет на издержки фирмы следующим образом...

- а) обязательно изменятся средние издержки;
- б) обязательно изменятся предельные издержки;
- в) изменятся средние и предельные издержки;
- г) ничего не изменится.

Задание 6 (○ - выберите один вариант ответа)

Какие из приведенных ниже признаков отражают специфику институциональной трактовки фирмы...

- а) оптимизация издержек производства;
- б) оптимизация издержек по осуществлению рыночных операций;
- в) оптимизация условий экономического роста;
- г) рациональное поведение;
- д) наличие управленческих издержек.

Задание 7 (○ - выберите один вариант ответа)

Какая из нижеперечисленных характеристик может быть использована для определения границ отраслевого рынка...

- а) сходство технологии;
- б) размерный признак;
- в) перекрестная эластичность;
- г) сходство применяемого сырья;
- д) общность принципов деятельности.

Задание 8 (○ - выберите один вариант ответа)

Рыночная власть – это...

- а) господство фирмы над покупателями;
- б) подчинение своей политике конкурентов;
- в) возможность оказывать влияние на рыночную цену;
- г) возможность игнорировать закон спроса;
- д) непоколебимая конкурентоспособность.

Задание 9 (○ - выберите один вариант ответа)

Если значение Херфиндаля-Хиршмана приближается к единице, то с уверенностью можно утверждать, что...

- а) для отраслевого рынка характерна высокая степень рыночной власти;
- б) отраслевой рынок характеризуется высокой степенью концентрации;
- в) отраслевой рынок представлен уникальным продуктом;

- г) верно б) и в);
д) все перечисленное верно.

Задание 10 (○ - выберите один вариант ответа)

Когда фирма реализует имеющуюся у нее рыночную власть, то это означает, что она...

- а) изменяет цену на свой продукт посредством изменения объема его выпуска;
б) устраняет конкурентов посредством недозволенных методов;
в) должна реагировать на изменения в рыночном спросе;
г) обеспечивает получение максимальной прибыли при любом объеме выпуска;
д) добивается абсолютно неэластичного спроса на свой продукт.

II Верны ли утверждения?

1 Главное преимущество корпорации над иными формами бизнеса – возможность привлекать значительный капитал.

2 Фирмы индивидуальной собственности преобладают в экономике современных развитых стран как по числу, так и по роли в производственном процессе.

3 Если владелец фирмы не арендует помещение, а использует свою собственную квартиру, то он увеличивает внутренние издержки, но снижает внешние.

4 При изучении равновесия фирмы предполагается, что в краткосрочном периоде она стремится максимизировать прибыль, а в долгосрочном – объем продаж.

5 Максимизация объема продаж всегда является методом борьбы за максимизацию прибыли.

III Задача

Функция спроса на продукт фирмы описывается как $Q = 360 - 2P$. При этом фирма установила, что эластичность спроса по цене для реализуемого ею объема выпуска равна $E_p = -1/3$. Определите объем выпуска (Q), осуществляемого фирмой, а также цену ее продукта и величину получаемой общей выручки? Если да, то какой будет ее максимальная величина при неизменности спроса на продукт фирмы?

IV Вопросы для самоконтроля

1 Что такое фирма? Приведите примеры фирм. Можно ли назвать частнопрактикующего юриста фирмой?

2 Чем можно объяснить чрезвычайное многообразие форм и размеров фирм? Почему одни фирмы растут быстро, а другие медленно? Почему все общество не превращается в одну огромную фирму?

3 Перечислите основные типы деловых предприятий. В чем их достоинства и недостатки?

4 Как вы думаете, в какой степени цель фирмы заключается в максимизации прибыли? Всегда ли фирма должна стремиться к максимальной прибыли, а не (например) к улучшению социальных условий, спонсированию искусства или политических кампаний?

5 «Менеджеры фирмы, как правило, не знают предельных издержек. В таком случае нет смысла говорить о законе оптимального производства при равенстве предельного дохода предельным издержкам». Так ли это?

6 Фирмы, производящие себе в убыток, должны обязательно сразу закрыться. Всегда ли это верно?

7 Какие фирмы преобладают в современном рыночном хозяйстве: допредельные, предельные или запредельные? Какие фирмы преобладали в условиях командной экономики?

VI Основные понятия

фирма

классический контракт

неоклассический контракт

отношенческий или имплицитный контракт

общие ресурсы

специфические ресурсы

интерспецифические ресурсы

частнопредпринимательская фирма

партнерство

корпорация

индивидуальное предпринимательство

товарищество

кооператив

акционерное общество

конгломерат

Тема 12
Государство в рыночной экономике

Вариант А

I Тестовые задания

Задание 1 (○ – выберите один вариант ответа)

Без помощи государства рыночная система хозяйствования не может эффективно...

- а) регулировать предложение новых товаров;
- б) координировать межотраслевые связи;
- в) обеспечивать безопасное и устойчивое экономическое развитие страны;
- г) распределять ресурсы.

Задание 2 (○ – выберите один вариант ответа)

Необходимость усиления экономической роли государства в России вызвана...

- а) регулированием и управлением трансформационными процессами;
- б) обеспечением рационального использования ресурсов;
- в) разработкой и осуществлением хозяйственной законодательной базы;
- г) дефицитом товаров первой необходимости.

Задание 3 (□ – выберите варианты ответов)

К социальной политике государства относится...

- а) сокращение доходной части государственного бюджета;
- б) регулирование уровня минимальной заработной платы;
- в) льготное кредитование наукоемких производств;
- г) защита вкладов населения в коммерческих банках.

Задание 4 (○ – выберите один вариант ответа)

Внешними источниками финансирования, используемыми для покрытия бюджетного дефицита, являются...

- а) эмиссия денег;
- б) государственные ценные бумаги;
- в) кредиты, полученные от международных финансовых организаций и иностранных коммерческих банков;
- г) государственные сберегательные займы.

Задание 5 (☐ – выберите варианты ответов)

К мерам воздействия государства, используемым в научно-технической политике, относятся...

- а) бюджетное финансирование НИОКР;
- б) регулирование границ валютного коридора;
- в) регулирование процесса ускоренного обновления основного капитала;
- г) предоставление льгот экспортерам сырьевых ресурсов.

Задание 6 (○ – выберите один вариант ответа)

Методы денежно-кредитной политики, рекомендуемые в рамках концепции монетаризма, предполагают...

- а) воздействие на денежную массу вне зависимости от состояния национальной экономики;
- б) увеличение количества денег в обращении с целью стимулирования инвестиционного спроса и роста занятости;
- в) понижение нормы обязательных банковских резервов с целью стимулирования совокупного спроса;
- г) регулирование учетной ставки с целью активизации инвестиционной деятельности.

Задание 7 (☐ – выберите варианты ответов)

Какие из перечисленных ниже благ вы относите к общественным?

- а) освещение улиц;
- б) охрана правопорядка в городе;
- в) автостоянки;
- г) ипподромы;
- д) теннисные корты;
- е) наблюдение за чистотой парков города.

Поясните свой выбор.

Задание 8 (○ – выберите один вариант ответа)

К мерам антиинфляционной экономической политики относится...

- а) введение таможенных ограничений;
- б) регулирование денежного рынка;
- в) повышение уровня заработной платы;
- г) увеличение расходной части бюджета государства.

Задание 9 (□ – выберите варианты ответов)

Фиаско (или несостоятельность) государства вызывается...

- а) периодическими спадами промышленного производства;
- б) недостаточной информированностью правительства;
- в) ограниченностью контроля над реакцией частного сектора;
- г) несовершенством системы представительной демократии;
- д) монополистическим ценообразованием на определенных рынках.

Задание 10 (○ – выберите один вариант ответа)

Политика протекционизма направлена на...

- а) расширение импорта из-за рубежа;
- б) защиту отечественного производства от иностранных конкурентов;
- в) сокращение отечественного экспорта;
- г) ограничение ввоза иностранного капитала.

II Верны ли утверждения?

1 Увеличение экономической роли государства в XX веке является реакцией на фиаско рынка.

2 Границы государственного вмешательства в экономику зависят от теоретических подходов, лежащих в основе экономической политики.

3 Государственное регулирование экономики не включает контроль над рынком труда, сбытом продукции и экологии.

4 В условиях циклического спада роль государственного регулирования экономики снижается.

5 Общественные блага предоставляются гражданам страны на платной основе.

III Задания на развитие экономического мышления

1 А. Маршалл высказывается следующим образом относительно расходов на образование: «... подлинные экономисты единодушно считают, что такие расходы дают настоящую экономию и что отказ от них является, с точки зрения интересов страны, и ошибочным, и безнравственным решением». (Маршалл А. Принципы экономической науки. - М.: Прогресс-Универс, 1993. - Т. 1. - С. 104-105).

Поясните, на чем основано такое утверждение.

2 Дж.М. Кейнс (1883-1946) является теоретиком, который открыл экономике дорогу в XX век. Его книга «Общая теория занятости, процента и денег» появилась во времена Великой депрессии (30-е г.г. XX в.), когда стало ясно, что государство должно отказаться от политики *laissez faire* в пользу активного

участия в стабилизации экономики. Какие механизмы государственного регулирования предлагал Д. Кейнс? В чем их историческая ограниченность?

IV Вопросы для самоконтроля

1 Что такое фиаско рынка? В чем оно проявляется?

2 Дайте определение общественного блага и укажите его свойства.

3 Каковы причины неравенства в распределении доходов в условиях рынка?

4 В чем заключается проблема «безбилетника»? Как она связана с производством общественных благ?

5 Объясните с точки зрения теории «общественного выбора», почему правительство может принимать решения, противоречащие интересам общества?

6 Какова генеральная цель государственного регулирования экономики?

7 Перечислите недостатки, противоречия рыночной экономики и сферы, в которых государственное вмешательство в экономику необходимо прежде всего.

8 Как осуществляется государственная поддержка конкуренции?

9 Как государство пытается скорректировать распределение доходов и собственности? Насколько это эффективно?

10 Изложите положительные и отрицательные последствия протекционистской и либеральной внешнеторговой политики государства.

V Основные понятия

государственное регулирование экономики (госрегулирование)

цели госрегулирования

целевая функция

средства (инструменты) госрегулирования

направления госрегулирования

национализация

государственный сектор экономики

чистые общественные блага

смешанные общественные блага

неполные рынки

защита конкуренции

сглаживание макроэкономических колебаний

политика поддержки доходов

правовое обеспечение функционирования рыночной экономики

теория общественного выбора

прямая и представительная демократия

бюрократическое управление

лоббизм

поиск политической ренты

логроллинг

парадокс Кондорсе

теорема невозможности Эрроу
фиаско рынка
фиаско государства (фиаско государственного регулирования экономики)
рациональное игнорирование
внутренний лаг
внешний лаг
закон непредвиденных последствий

Вариант Б

I Тестовые задания

Задание 1 (○ – выберите один вариант ответа)

Объектом государственной собственности не является...

- а) производство благ стратегического назначения;
- б) наукоемкое производство;
- в) производство общественных благ;
- г) производство товаров первой необходимости.

Задание 2 (○ – выберите один вариант ответа)

Укажите внешнюю причину, вызывающую возрастание экономической роли государства.

- а) выражение общеэкономических интересов;
- б) регулирование социально-экономических отношений;
- в) определение долговременных целей развития экономики;
- г) защита интересов национальной экономики.

Задание 3 (□ – выберите варианты ответов)

Укажите экономические функции государства, не относящиеся к числу общих.

- а) содержание армии;
- б) защита окружающей среды;
- в) регулирование занятости;
- г) обеспечение прогрессивных структурных сдвигов в экономике.

Задание 4 (○ – выберите один вариант ответа)

С государственным бюджетом связано регулирование...

- а) межотраслевой конкуренции;

- б) отношений между трудом и капиталом;
- в) трудовых отношений;
- г) финансовое.

Задание 5 (□ – выберите варианты ответов)

К категории «общественное благо» не относятся...

- а) образование, здравоохранение, культура;
- б) железнодорожный транспорт;
- в) национальная оборона;
- г) Интернет.

Задание 6 (○ – выберите один вариант ответа)

Финансовая политика включает в себя мероприятия государства...

- а) по организации и использованию финансов для осуществления своих функций;
- б) по обеспечению устойчивости национальной валюты;
- в) по активизации инвестиционной деятельности;
- г) по регулированию инфляционных процессов.

Задание 7 (□ – выберите варианты ответов)

Меры экономической политики включают...

- а) запрет, принуждение;
- б) регулирование учетной ставки;
- в) разрешение;
- г) встроенные стабилизаторы.

Задание 8 (○ – выберите один вариант ответа)

Необходимость реализации основных принципов социальной политики в России в начале XXI в. заключается...

- а) в росте дифференциации доходов населения;
- б) в ослаблении дифференциации доходов населения, смягчении социальных противоречий, повышении уровня жизни подавляющей части населения;
- в) в повышении качества жизни;
- г) в росте реальных доходов так называемого среднего класса.

Задание 9 (□ – выберите варианты ответов)

«Все перечисленные ниже блага являются общественными, так как для

них характерно совместное потребление». Насколько корректно с точки зрения экономической теории это утверждение применительно к каждому пункту?

- а) просмотр спектакля в театре;
- б) проезд в электричке;
- в) национальный парк;
- г) уличное освещение;
- д) футбольный матч на стадионе.

Задание 10 (○ – выберите один вариант ответа)

Политику внешнеэкономического либерализма (фритредерства) проводят страны...

- а) добившиеся наиболее крупных успехов в своем развитии;
- б) с низким уровнем индустриализации экономики;
- в) аграрно-индустриальные;
- г) получившие политическую независимость.

II Верны ли утверждения?

1 Цели экономической политики по-разному сочетаются между собой.

2 Финансовая система представляет собой инструмент государственного регулирования экономики.

3 Политика жесткого налогообложения оправдана тем, что система цен начинает лучше функционировать в качестве носителя информации.

4 Кейнсианский вариант государственного регулирования экономики означает воздействие преимущественно на совокупное предложение.

5 Основные цели экономической политики включают: экономический рост, полную занятость, стабильность уровня цен, внешнеэкономическое равновесие, эффективное функционирование хозяйствующих субъектов.

III Задания на развитие экономического мышления

1 Лауреат Нобелевской премии по экономике 1986 г. Джеймс Бьюкенен совместно с Гордоном Таллоком в книге «Подсчет согласия» проанализировали мотивы принятия политических решений. По их мнению, люди, переходя из сферы рыночной деятельности в политическую, не меняют правил рыночного поведения и стремятся использовать государственные бюрократические структуры для удовлетворения собственных интересов.

Дж. Бьюкенен и Г. Таллок отмечают, что если фирмы должны анализироваться как «стремящиеся к максимальной прибыли», то политических деятелей необходимо рассматривать как «стремящихся к максимуму голосов», а государственные бюрократические структуры как «стремящихся к максимальному увеличению своих размеров».

Поразмышляйте над предложенным текстом и сформулируйте ответы на следующие вопросы.

а) как вы понимаете категорию «экономическая рента» при переходе человека из экономической сферы деятельности в политическую?

б) в чем состоит частный интерес государственной бюрократии?

в) какова сущность поиска политической ренты?

2 В чем заключается проблема «безбилетника»? Как она связана с производством общественных благ? Приведите примеры.

IV Вопросы для самоконтроля

1 Какова эволюция влияния государства на рынок? Чем оно обусловлено?

2 Когда сформировалось понятие «государственное регулирование экономики»? Чем это было вызвано?

3 Каковы возможности и границы государственного регулирования экономики?

4 Что такое «общественные блага»? Каковы их свойства?

5 Укажите способы измерения неравенства в доходах различных групп населения в условиях рынка.

6 Сформулируйте основные положения теории общественного выбора.

7 В каких случаях используется метод анализа издержек и выгод?

8 Что означает термин «рынок прав на побочные эффекты»? Дайте определение.

9 Перечислите основные формы разгосударствления экономики.

10 Перечислите административно-правовые инструменты (средства) государственного регулирования экономики.

V Основные понятия

государственное регулирование экономики (госрегулирование)

цели госрегулирования

целевая функция

средства (инструменты) госрегулирования

направления госрегулирования

национализация

государственный сектор экономики

чистые общественные блага

смешанные общественные блага

неполные рынки

защита конкуренции

сглаживание макроэкономических колебаний

политика поддержки доходов

правовое обеспечение функционирования рыночной экономики

теория общественного выбора

прямая и представительная демократия
бюрократическое управление
лоббизм
поиск политической ренты
логроллинг
парадокс Кондорсе
теорема невозможности Эрроу
фиаско рынка
фиаско государства (фиаско государственного регулирования экономики)
рациональное игнорирование
внутренний лаг
внешний лаг
закон непредвиденных последствий

Вариант В

I Тестовые задания

Задание 1 (○ – выберите один вариант ответа)

Целевое финансирование в виде предоставления денежных пособий как одно из направлений государственного регулирования относится...

- а) к инвестиционной политике;
- б) к налоговой политике;
- в) к денежно-кредитной политике;
- г) к социальной политике.

Задание 2 (○ – выберите один вариант ответа)

Общэкономическая функция государства в рыночной экономике связана с необходимостью...

- а) производства общественных благ;
- б) планирования цен;
- в) защиты национальных границ государства;
- г) регулирования границ валютного коридора.

Задание 3 (□ – выберите варианты ответов)

К экономическим мерам государственного регулирования относятся...

- а) прекращение выдачи лицензий на производство медицинских препаратов;
- б) изменение размеров обязательных банковских резервов;
- в) введение акцизов на предметы роскоши;

- г) установление фиксированных цен на товары и услуги;
- д) принятие постановления, по которому предприятия общественного питания обязаны осуществлять льготное обслуживание инвалидов и пенсионеров.

Задание 4 (○ – выберите один вариант ответа)

Финансовая политика проявляется...

- а) в стабилизации обменного курса национальной валюты;
- б) во взаимоотношениях между социальными группами;
- в) в системе форм и методов мобилизации денежных ресурсов;
- г) в развитии рыночных отношений.

Задание 5 (□ – выберите варианты ответов)

Источниками образования внебюджетных фондов являются...

- а) прибыль, процент, рента;
- б) налоги, специальные взносы;
- в) отчисления из бюджета;
- г) доходы от коммерческой деятельности предприятий.

Задание 6 (○ – выберите один вариант ответа)

Методы бюджетно-налоговой политики, рекомендуемые в рамках теоретической концепции монетаризма, предлагают ...

- а) изменение учетных ставок;
- б) предоставление налоговых льгот предпринимателям и сокращение расходов;
- в) увеличение доли национального дохода, перераспределяемой через бюджет;
- г) финансирование за счет госбюджета нерентабельных предприятий (для снижения безработицы и социальной напряженности).

Задание 7 (□ – выберите варианты ответов)

Административные меры государственного регулирования включают...

- а) выдача лицензий на строительную и производственную деятельность;
- б) введение налога на добавленную стоимость;
- в) списание основного капитала на основе ускоренной амортизации;
- г) запрет на занятие определенными видами хозяйственной деятельности.

Задание 8 (○ – выберите один вариант ответа)

Наиболее эффективным способом государственного регулирования является ...

- а) административное регулирование поведения субъектов рынка;
- б) планирование цен на товары первой необходимости;
- в) широкое использование косвенных методов воздействия на экономическую конъюнктуру;
- г) национализация частных предприятий-монополистов.

Задание 9 (□ – выберите варианты ответов)

Что из перечисленного ниже не является общественным благом?

- а) маяки;
- б) электроэнергия;
- в) общественный (муниципальный) транспорт;
- г оборона страны;
- д) защита от наводнений в масштабах страны.

Поясните свой ответ.

Задание 10 (○ – выберите один вариант ответа)

Социальная политика включает...

- а) экономическую помощь населению;
- б) социальные гарантии населению со стороны государства;
- в) создание системы жизнеобеспечения населения;
- г) все вышеперечисленное верно.

II Верны ли утверждения?

1 Формирование разумной модели экономической политики государства требует определенного равновесия целевых установок.

2 Финансовая политика включает в себя мероприятия государства по регулированию инфляционных процессов.

3 Ценность «встроенных стабилизаторов» финансовой системы в том, что они делают не столь необходимыми точный диагноз и прогноз конъюнктурного положения.

4 Монетаристский вариант государственного регулирования экономики предполагает влияние, главным образом, на совокупный спрос.

5 Социальная политика государства включает: создание системы жизнеобеспечения населения, социальные гарантии и экономическую помощь населению.

III Задания на развитие экономического мышления

1 Как бы вы прокомментировали утверждение из учебника С. Фишера «Экономика»: «Национальные парки – это смешанный случай, так как природа в парках – это общественное благо, по крайней мере, до тех пор, пока в парке не становится слишком тесно»? В чем смысл упоминания о тесноте?

2 В чем состоит отличие процесса принятия решений частными лицами и государственными органами, обуславливающее необходимость изучения теории общественного выбора?

IV Вопросы для самоконтроля

1 Какие закономерности функционирования рыночной экономики приводят к необходимости государственного вмешательства в экономику?

2 Как можно классифицировать цели экономической политики государства?

3 Какие блага относятся к общественным? Назовите их свойства.

4 Каковы основы классификации внешних эффектов (экстерналий) на положительные и отрицательные?

5 Какие существуют методы перераспределения доходов в рыночной экономике?

6 В чем эффективность косвенных методов государственного регулирования экономики?

7 В каких случаях государство использует корректирующие налоги и субсидии?

8 В чем проявляется неэффективность государственного сектора?

9 На какие инструменты преимущественно ориентируется экономическая политика кейнсианского направления?

9 В чем особенности экономической политики в России на современном этапе?

V Основные понятия

государственное регулирование экономики (госрегулирование)

цели госрегулирования

целевая функция

средства (инструменты) госрегулирования

направления госрегулирования

национализация

государственный сектор экономики

чистые общественные блага

смешанные общественные блага

неполные рынки

защита конкуренции

сглаживание макроэкономических колебаний

политика поддержки доходов
правовое обеспечение функционирования рыночной экономики
теория общественного выбора
прямая и представительная демократия
бюрократическое управление
лоббизм
поиск политической ренты
логроллинг
парадокс Кондорсе
теорема невозможности Эрроу
фиаско рынка
фиаско государства (фиаско государственного регулирования экономики)
рациональное игнорирование
внутренний лаг
внешний лаг
закон непредвиденных последствий

Вариант Г

I Тестовые задания

Задание 1 (○ – выберите один вариант ответа)

Сокращение размеров государственной собственности вызвано...

- а) национализацией;
- б) покупкой государством акций частных предприятий;
- в) приватизацией;
- г) предоставлением концессий.

Задание 2 (○ – выберите один вариант ответа)

Внебюджетные фонды выполняют функцию...

- а) контроля над выполнением конкретных программ и решением задач правительством;
- б) стимулирования общественного производства;
- в) регулирования социальных отношений;
- г) финансового обеспечения инвестиционных программ.

Задание 3 (□ – выберите варианты ответов)

Показателями, определяющими степень справедливого распределения доходов, являются...

- а) реальный совокупный доход и доход на душу населения;
- б) минимальная потребительская корзина и минимальная заработная плата;
- в) децильные коэффициенты;
- г) кривая Лоренца, коэффициент Джини.

Задание 4 (○ – выберите один вариант ответа)

К числу монетарных инструментов финансовой политики относятся ...

- а) манипулирование расходами государственного бюджета;
- б) изменение денежного предложения;
- в) структура, ставки и порядок налогообложения;
- г) трансферты.

Задание 5 (□ – выберите варианты ответов)

Социальная защита малоимущих слоев населения со стороны государства связана...

- а) с регулированием рынка труда;
- б) с выплатой пособий по безработице;
- в) с установлением льготных тарифов на проезд в общественном транспорте для некоторых категорий населения;
- г) с бесплатным или льготным медицинским обслуживанием населения.

Задание 6 (○ – выберите один вариант ответа)

При плавающем валютном курсе наиболее значительное воздействие на национальное производство и национальный доход оказывает влияние ...

- а) бюджетная политика;
- б) финансовая политика;
- в) инвестиционная политика;
- г) денежно-кредитная политика.

Задание 7 (□ – выберите варианты ответов)

Какие блага относятся к «чистым» или «смешанным» общественным благам?

- а) медицинское обслуживание;
- б) высшее образование;
- в) охрана государственной границы;
- г) деятельность государства в сфере законодательства;
- д) благоустройство городских улиц и парков.

Задание 8 (○ – выберите один вариант ответа)

Система экономических отношений, благодаря которым происходит формирование, распределение и использование фондов денежных средств (централизованных и децентрализованных) в целях выполнения функций и задач государства, - это...

- а) финансы;
- б) государственные финансы;
- в) финансовые ресурсы;
- г) финансовая система.

Задание 9 (□ – выберите варианты ответов)

Предельные издержки равны нулю в случае предоставления потребителям следующих благ...

- а) аэропорт;
- б) виноград;
- в) противоракетная оборона;
- г) услуги коллегии адвокатов;
- д) фейерверк в Москве, организованный мэром города.

Задание 10 (○ – выберите один вариант ответа)

Лаги государственного регулирования вызваны...

- а) расхождением между предвыборными обещаниями политиков и воплощением этих обещаний на практике;
- б) расхождениями между частными и общественными интересами;
- в) расхождением во времени между осознанием макроэкономической проблемы правительством и принятием мер по ее решению;
- г) несовпадением количества целей и инструментов государственного регулирования.

II Верны ли утверждения?

1 Определение множества целей экономической политики государства называется целевой функцией.

2 Государственные финансы – это система экономических отношений, благодаря которым происходит формирование, распределение и использование фондов денежных средств (централизованных и децентрализованных) в целях выполнения функций и задач государства.

3 Прожиточный минимум (порог бедности) определяется как стоимость жизни в условиях кризиса.

4 Кривая Лоренца выражает функциональную зависимость доли присваиваемого дохода различными группами населения страны от их численности.

5 Неоконсервативная концепция экономической политики предполагает повышение деловой и инвестиционной активности с помощью сокращения расходов бюджета и понижения уровня налогообложения.

III Задания на развитие экономического мышления

1 По словам немецкого экономиста В. Ойкена, экономическая политика в разных странах до 1914 г. была по существу одинаковой, позже появились заметные различия. Каждая страна стала активно проводить в жизнь различные концепции регулирования, реализовывать собственные варианты, импровизировать. В большинстве случаев детали «экспериментов» заранее не продумывались. Но какое бы реальное влияние не оказывал очередной «эксперимент», все они позволили накопить огромный опыт в сфере экономической политики.

Каково ваше мнение по этому поводу?

2 Российское общество в условиях рыночной экономики объективно подвергается все большей стратификации. Ведет ли этот процесс к усложнению структуры целей общества? Является ли это фактором, усиливающим эффективность экономической политики государства?

IV Вопросы для самоконтроля

1 Перечислите несовершенства рынка, предоставленного самому себе.

2 Когда сложилось государственное (макрэкономическое) регулирование экономики?

3 Перечислите уровни целей, входящих в «пирамиду» целей государственного регулирования экономики.

4 Каковы признаки «чистых» и «смешанных» общественных благ?

5 Перечислите косвенные методы государственного регулирования.

6 Почему система субсидий противоречит рыночному механизму?

7 Перечислите формы государственного регулирования экономики.

8 Каковы основные аспекты социальной политики государства?

9 Каковы причины неравенства в распределении доходов в условиях рынка?

10 В чем состоит суть теории общественного выбора?

V Основные понятия

государственное регулирование экономики (госрегулирование)

цели госрегулирования

целевая функция

средства (инструменты) госрегулирования

направления госрегулирования

национализация

государственный сектор экономики
чистые общественные блага
смешанные общественные блага
неполные рынки
защита конкуренции
сглаживание макроэкономических колебаний
политика поддержки доходов
правовое обеспечение функционирования рыночной экономики
теория общественного выбора
прямая и представительная демократия
бюрократическое управление
лоббизм
поиск политической ренты
логроллинг
парадокс Кондорсе
теорема невозможности Эрроу
фиаско рынка
фиаско государства (фиаско государственного регулирования экономики)
рациональное игнорирование
внутренний лаг
внешний лаг
закон непредвиденных последствий

СПИСОК ЛИТЕРАТУРЫ

- 1 Абрамова М.А., Александрова Л.С. Экономическая теория: Учебное пособие. – М.: Юриспруденция, 2008.
- 2 Агапова Т.А., Серегина С.Ф. Макроэкономика: Учебник / Под общ. ред. А.В. Сидоровича. - 9-е изд. – М.: МГУ им. М.В. Ломоносова; Изд-во «Дело и сервис», 2009.
- 3 Борисов Е.Ф. Экономическая теория: Практикум. – М.: Проспект, 2007.
- 4 Введение в макроэкономику: Учебное пособие / Под ред. М.Е. Дорошенко. – М.: ЮНИТИ-ДАНА, 2006.
- 5 Вечканова Г.С., Вечканова Г.Р. Макроэкономика. - 8-е изд. – СПб.: Питер, 2008.
- 6 Еремин Е.И., Щукин Н.Я. Практикум по экономической теории: Учебное пособие. – М., 2009.
- 7 Иванов С.И. Основы экономической теории: Учебник. Практикум. Методическое пособие. – М.: Вита-Пресс, 2008.
- 8 Ивашковский С.Н. Макроэкономика: Учебник. – 7-е изд., испр. – М.: Дело, 2008.
- 9 Ивашковский С.Н. Микроэкономика: Учебник. – 7-е изд., испр. – М.: Дело, 2008.
- 10 Иохин В.Я. Экономическая теория: Учебник. – М.: Экономистъ, 2007.
- 11 Камаев В.Д., Ильчиков М.З., Борисовская Т.А. Экономическая теория. Краткий курс: Учебник. – 3-е изд., стереотип. – М.: КНОРУС, 2008.
- 12 Киселева Е.А. Макроэкономика. Курс лекций. – М.: Изд-во «Эксмо», 2007.
- 13 Корниенко О. Экономическая теория: Практикум. – М.: Изд-во «Феникс», 2008.
- 14 Куликов Л.М. Экономическая теория: Учебник. – М.: Проспект, 2008.
- 15 Курс экономики: Учебник / Под ред. Б.А. Райзберга. – М.: ИНФРА-М, 2006.
- 16 Курс экономической теории: Учебник для вузов / Под ред. М.Н. Чепурина, Е.А. Киселевой. – Киров: АСА, 2007.
- 17 Курс экономической теории / Под ред. А.В. Сидоровича. – М.: ИНФРА-М, 2006.
- 18 Любимов Л.Л., Липсиц И.В. Основы экономики: Учебник. – М.: Просвещение, 2007.
- 19 Макконнел К.Р., Брю С.Л. Экономикс: принципы, проблемы и политика. – М.: ИНФРА-М, 2006.
- 20 Макроэкономика. Теория и российская практика: Учебное пособие / Под ред. А.Г. Грязновой, А.Ю. Юданова. – 4-е изд., испр. и доп. – М.: КНОРУС, 2005.
- 21 Микроэкономика. Теория и российская практика: Учебник / Кол. авт.; Под ред. А.Г. Грязновой и проф. А.Ю. Юданова. – 7-е изд., стереотип. – М.: КНОРУС, 2007.

- 22 Макроэкономика: Учебное пособие / Под ред. Н.И. Базылева, С.П. Гурко, М.Н. Базылевой. – М.: ИНФРА-М, 2006.
- 23 Маховикова Г.А., Тукасян Т.И., Амосова В.Р. Экономическая теория: Практикум. – М., 2003.
- 24 Мицкевич А.А. Сборник заданий с решениями. Микроэкономика: Пособие для учителя. – М.: Вита-Пресс, 2006.
- 25 Мицкевич А.А. Сборник заданий по экономике с решениями: В 3 т. – М.: Вита-Пресс, 2008. - Т. 1.
- 26 Николаева И.П. Экономическая теория в вопросах и ответах: Учебное пособие. – М.: ТК Вебли, 2005.
- 27 Носова С.С. Экономическая теория: Учебник. – М.: КНОРУС, 2007.
- 28 Носова С.С. Основы экономики: Учебник. – 4-е изд., стереотип. – М.: КНОРУС, 2009.
- 29 Нуреев Р.М. Курс микроэкономики: Учебник для вузов. – М.: Норма, 2008.
- 30 Нуреев Р.М. Курс по микроэкономике: Учебник. - 2-е изд., испр. – М.: Изд-во «Норма», 2008.
- 31 Нуреев Р.М. Сборник задач по микроэкономике. К «Курсу микроэкономики» Р.М. Нуреева / Гл. ред. Р.М. Нуреев. – М.: Изд-во «Норма», 2006.
- 32 Основы микроэкономики: Учебное пособие / Под ред. И.П. Николаевой. – М.: ЮНИТИ-ДАНА, 2005.
- 33 Основы экономики: Учебное пособие / Под ред. Б.А. Райзберг. – М.: ИНФРА, 2005.
- 34 Основы экономической теории: Учебное пособие / Под ред. З.К. Оксанова. – 2-е изд., испр. и доп. – М.: ИНФРА, 2006.
- 35 Основы экономической теории / Под ред. В.Д. Камаева. – М.: ВЛАДОС, 2005.
- 36 Практикум по основам экономической теории: Учебное пособие для 10-11 кл. общеобразовательных учреждений с углубленным изучением экономики / Под ред. С.И. Иванова. – 5-е изд. – М.: Вита-Пресс, 2005.
- 37 Регионы России. Социально-экономические показатели. 2005: Стат. сб. – М., 2005.
- 38 Российский статистический ежегодник. 2007: Стат. сб. – М., 2007.
- 39 Савицкая Е.В. Уроки экономики в школе: Пособие для учителя: В 2 кн. - 6-е изд. – М.: Вита-Пресс, 2006.
- 40 Сафрончук М.В. Микроэкономика. Курс лекций. – М.: Изд-во «Эксмо», 2005.
- 41 Селищев А.С. Макроэкономика. – СПб.: Питер, 2006.
- 42 Современная экономика / Науч. ред. О.Ю. Мамедов. – Ростов-н/Д.: Феникс, 2005.
- 43 Соколинский В.М. Экономическая теория: Учебное пособие. - 2-е изд., испр. и доп. – М.: КНОРУС, 2006.
- 44 Туманова Е.А., Шагас Н.Л. Макроэкономика. Элементы продвинутого подхода: Учебник. – М.: ИНФРА, 2007.

- 45 Черняк В. Сборник задач по экономике: Учебник. Сер. «Экономические науки». – М.: Изд-во «Экзамен», 2008.
- 46 Чепурин М.Н. Сборник задач по экономической теории: микроэкономика и макроэкономика. - 5-е изд. – М.: Изд-во «АСА», 2009.
- 47 Чепурин М.Н., Киселева Е.А., Ермилова С.В. Сборник задач по экономической теории. Микроэкономика и макроэкономика. – М.: Изд-во «Вятка», 2009.
- 48 Экономика: Учебник / Под ред. А.С. Булатова. – М.: Юристъ, 2005.
- 49 Экономика: Учебник / Под ред. А.И. Архипова. – 3-е изд. – М.: Проспект, 2009.
- 50 Экономика: Учебное пособие / Под ред. К.И. Вахитова, Г.С. Ванеркиной. – М.: ИНФРА-М, 2007.
- 51 Экономика: Учебник для неэкономических вузов / Под ред. Е.Н. Лобачевой. – 4-е изд., стереотип. – М.: Экзамен, 2006.
- 52 Экономическая теория: Учебник / Под ред. А.Г. Грязновой, Т.В. Чечелевой. – М.: Изд-во «Экзамен», 2005.
- 53 Экономическая теория: Учебник / Под общ. ред. В.И. Видяпина, А.И. Добрынина, Г.П. Журавлевой и др. – М.: ИНФРА, 2007.
- 54 Экономическая теория: Курс лекций / Под ред. А.А. Базикова. – М.: ИНФРА-М, 2005.
- 55 Экономическая теория: Учебное пособие / Под ред. В.Т. Слагода. – М.: ИНФРА-М, 2005.

Журналы

- 1 Вестник банка.
- 2 Внешнеэкономический вестник.
- 3 Вопросы экономики.
- 4 Вопросы статистики.
- 5 Деньги и кредит.
- 6 Инновации.
- 7 Коммерсант.
- 8 Мировая экономика и международные отношения (МЭ и МО).
- 9 Общество и экономика.
- 10 Проблемы теории и практики управления.
- 11 Российское предпринимательство.
- 12 Российский экономический журнал.
- 13 Российская экономика: прогнозы и тенденции.
- 14 Экономист.
- 15 Экономика и математические методы.
- 16 Экономика и управление.
- 17 Эксперт.

Газеты

- 1 Российская газета.
- 2 Финансовая Россия.
- 3 Экономика и жизнь.
- 4 Экономическое обозрение.
- 5 Областные издания.
- 6 Местные издания.

Учебное издание

Любовь Николаевна Коняхина, Игорь Анатольевич Чубаров,
Александр Иванович Казанцев, Алевтина Евгеньевна Коваль,
Виталий Станиславович Мормышев, Елена Николаевна Сурова

ПРАКТИКУМ ПО ЭКОНОМИЧЕСКОЙ ТЕОРИИ

Часть 1. Микроэкономика

Учебное пособие

Редактор Н.Л. Борисова

Подписано к печати	Формат 60x84 1/16	Бумага тип. № 1
Печать трафаретная	Усл. печ. л. 12,0	Уч. - изд. л. 12,0
Заказ	Тираж	Цена свободная

Редакционно-издательский центр КГУ.
640669, г. Курган, ул. Гоголя, 25.
Курганский государственный университет.